


Путешествие с Қаңбақ ШАЛОМ


УРОК МАТЕМАТИКИ В 2 КЛАССЕ НА ТЕМУ:
«СЛОЖЕНИЕ И ВЫЧИТАНИЕ В ПРЕДЕЛАХ 20»
ПОДГОТОВИЛА УЧИТЕЛЬ НАЧАЛЬНЫХ КЛАССОВ
СШ №8 Г. КОСТАНАЯ
БАЙДЫРАХМАНОВА Д.Н.





Цель урока:
формирование навыка сложения и
вычитания однозначных чисел с
переходом через десяток;

- ▶ Задачи:
- ▶ Закреплять навыки табличного сложения и вычитания; повторить умение решать задачи;
- ▶ Развивать умение быстро и правильно решать примеры в пределах 20; совершенствовать логическое мышление, воображение, мышление;
- ▶ Воспитывать интерес к математике и любовь к сказкам.



անիմացիոն
13:03





Устный счет


- ▶ 1. Гора - посчитайте от 0 до 20 и от 20 до 0
- ▶ 2. Гора -А теперь я начинаю счёт, а вы продолжайте по «цепочке»: 6, 7.....;19, 18,..... ; 4,5, ..., ... ; 15, 14, ...,
- ▶ 3. Гора -Прочитайте числа: 3, 11, 14, 16, 19. Назовите соседей каждого числа.

Логические задачи:


- ▶ 1. Росли 2 вербы. На каждой вербе по 2 ветки, на каждой ветке по 2 груши. Сколько всего груш?
- ▶ 2. На яблоне было 10 яблок, а на иве на 2 меньше. Сколько всего было яблок? (10, так как на иве яблоки не растут)
- ▶ 3. Крышка стола имеет 4 угла. Один угол отпилили. Сколько стало углов у стола? (5)



Найдите сумму
чисел 8 и 4



- Найдите разность чисел 10 и 4;



- Найдите сумму чисел
9 и 3



- Найдите разность чисел 8 и 3



- К 8 прибавить 3




- Найдите разность чисел 12 и 4



- Из числа 11 вычесть 3



- Найдите сумму чисел
5 и 9



- УВЕЛИЧЬТЕ ЧИСЛО 9 НА 5



Проверь себя:

- ▶ 12,
- ▶ 6
- ▶ 12
- ▶ 5
- ▶ 11
- ▶ 8
- ▶ 11
- ▶ 8
- ▶ 8
- ▶ 14
- ▶ 14



anmatbi
13.05



Реши примеры

$6+6$	$7+3$
$7+7$	$10+5$
$8+8$	$14+3$
$9+4$	$6+5$
$4+5$	$10+3$
$9+9$	$10+6$

простые

$6+5$	$14-7$
$5+7$	$8+6$
$8+8$	$16-8$
$12+7$	$14-9$
$7+8$	$13-7$
$7+6$	$17-8$

средние

$15-7$	$30-3$
$13-8$	$24+6$
$13-9$	$20-1$
$14-6$	$9+8$
$16-9$	$13+6$
$11-8$	$100-5$

сложные

Физминутка Сергіту

Бала, бала, баламыз,
Орынымыздан тұрамыз.
Жоғары қолды көтеріп,
Алақанды ұрамыз.
Оңға, солға бұрылып,
Денені жазып аламыз.
Бір отырып, бір тұрып,
Біз демалып аламыз.





ՀԱՅԱՍՏԱՆԻ
ԳՐԱԴԱՐԱՆ



Реши задачу

- ▶ У великана 4 коровы, столько же лошадей и 5 овец. Сколько всего домашних животных?



Коров- 4

Лошадей- столько же

? ж.

Овец- 5

«Магические квадраты»



		12
7		13
14	11	

	5	11
		16
13	14	

«Магические квадраты»

▶ $7+5=12$

$6+5=11$

▶ $7+6=13$


$7+9=16$

▶ $7+7=14$

$6+7=13$

▶ $5+6=11$

$5+9=14$



Спасибо за урок!

