

Тақырыбы: *Үш таңбалы санды бір таңбалы санға разрядтан аттап жазбаша көбейту*

Мақсаты: Оқушылардың үш таңбалы санды бір таңбалы санға разрядтан аттап жазбаша көбейту дағдыларын қалыптастыру.

Міндеті: 1. Оқушылардың математикалық білім-білік дағдыларын қалыптастыру.

2. Оқушыларды шапшаң есептеуге, жылдамдаққа, математикалық білімдерін өмірде пайдалана білуге баулу.

3. Оқушылардың логикалық ойлау қабілеттері мен есептеу техникасын жетілдіру.

Бүгін біз-

**Зымыранды меңгеріп,
Ғарышқа да ұшамыз!
Өнеге алып сабақтан
Білімді тұлға боламыз!**

KLADOVKA



Қазақстан жерінде ғарыш кемесін ұшыратын әлемге әйгілі Байқоңыр ғарыш айлағы орналасқан.



*Юрий Гагарин
1961 жылы 12 сәуірде адам
баласы тарихында тұңғыш
рет Гагарин ғарыш
кемесімен жер шарын
айнала ұшты.*

300:30

121·2

14·5

115·2

45·6

20·6

320·3

240·2



Арада 30 жыл өткеннен кейін, 1991 жылы қазан 2 –сі күні тұңғыш қазақ ғарышкері Тоқтар Әубәкіров ғарыш төріне самғады.

Қалық қаһарманы, ұшқыш ғарышкер атағы берілді.

$6 \cdot 4 = \text{y}$

$9 \cdot 5 = \text{M}$

$7 \cdot 4 = \text{B}$

$8 \cdot 8 = \text{c}$

$9 \cdot 9 = \text{a}$

$8 \cdot 6 = \text{e}$

$9 \cdot 0 = \text{b}$

45	24	64	81	0	81	48	28

KLADOVKA



Ал екінші рет Талғат Мұсабаев ғарышқа 1994 жылы барып қайтты.

1998 жылы және 2001 жылы екі рет барып зерттеу жұмыс жүргізді.

Халық қаһарманы атағы берілді.

Көркем жазу сәті

1961

1991



Жүн



Көбейтуді орында !

1. $457 \cdot 2$

$248 \cdot 4$

$359 \cdot 2$

$174 \cdot 3$

2. $217 \cdot 3$

$168 \cdot 3$

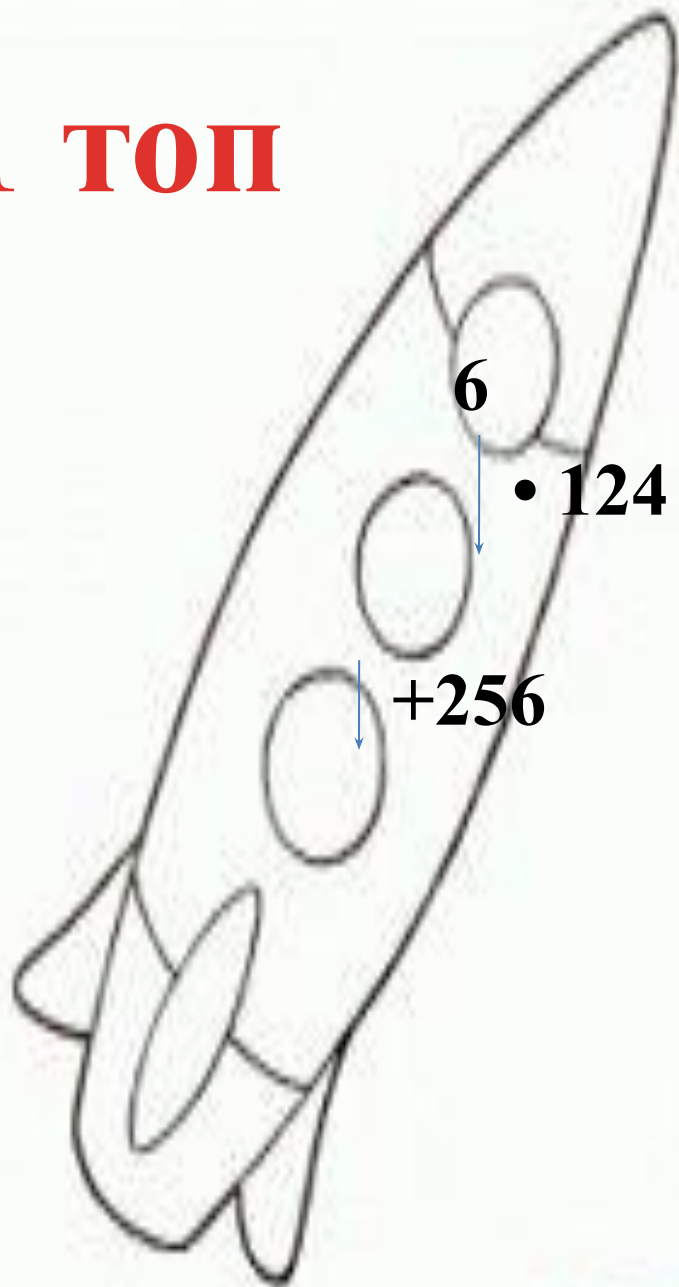
$355 \cdot 2$

$112 \cdot 8$

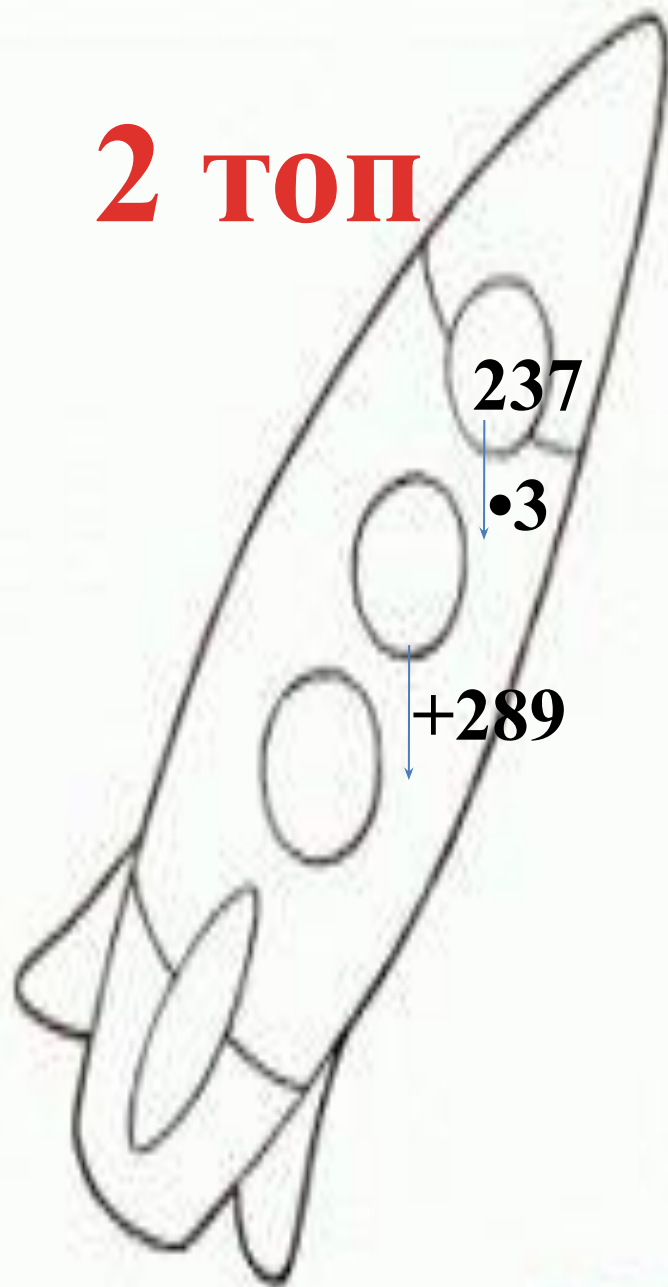
Меркурий



1 топ



2 топ





Шолпан

Венера

Есепті шығар!

Ай бетінде 12 адам болды,
олар ғарышта болған
адамдардан
30 есе кем. Ғарышта неше
адам болды?

Жер



Амалдарды орында!

1-топ

$$400-120\cdot 4$$

$$680:2+60$$

$$800:400\cdot 268$$

2-топ


$$328\cdot 2-195$$

$$200:4+300:6$$

$$125\cdot 4-118\cdot 2$$

Марс





Юпитер



Теңдеулерді шеш!

1-топ. $x+284=174\cdot 4$

2- топ. $900-x=283\cdot 2$

Сатурн



Тиісті санды тауып, орнына қой!


1. 865 см = м дм см

376 кг = ц кг

2. 128 мин = сағ мин


30 м = дм

Уран

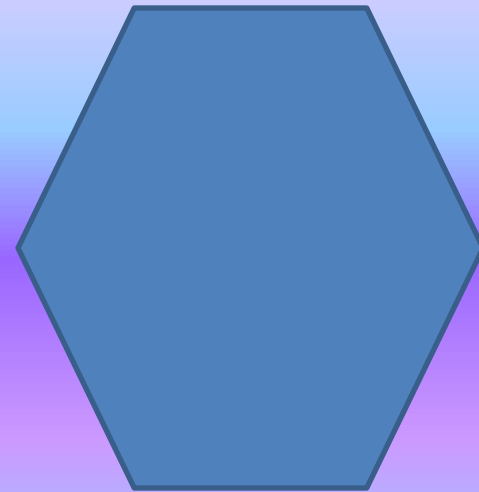


1 топ

Шығармашылық тапсырма




2 топ

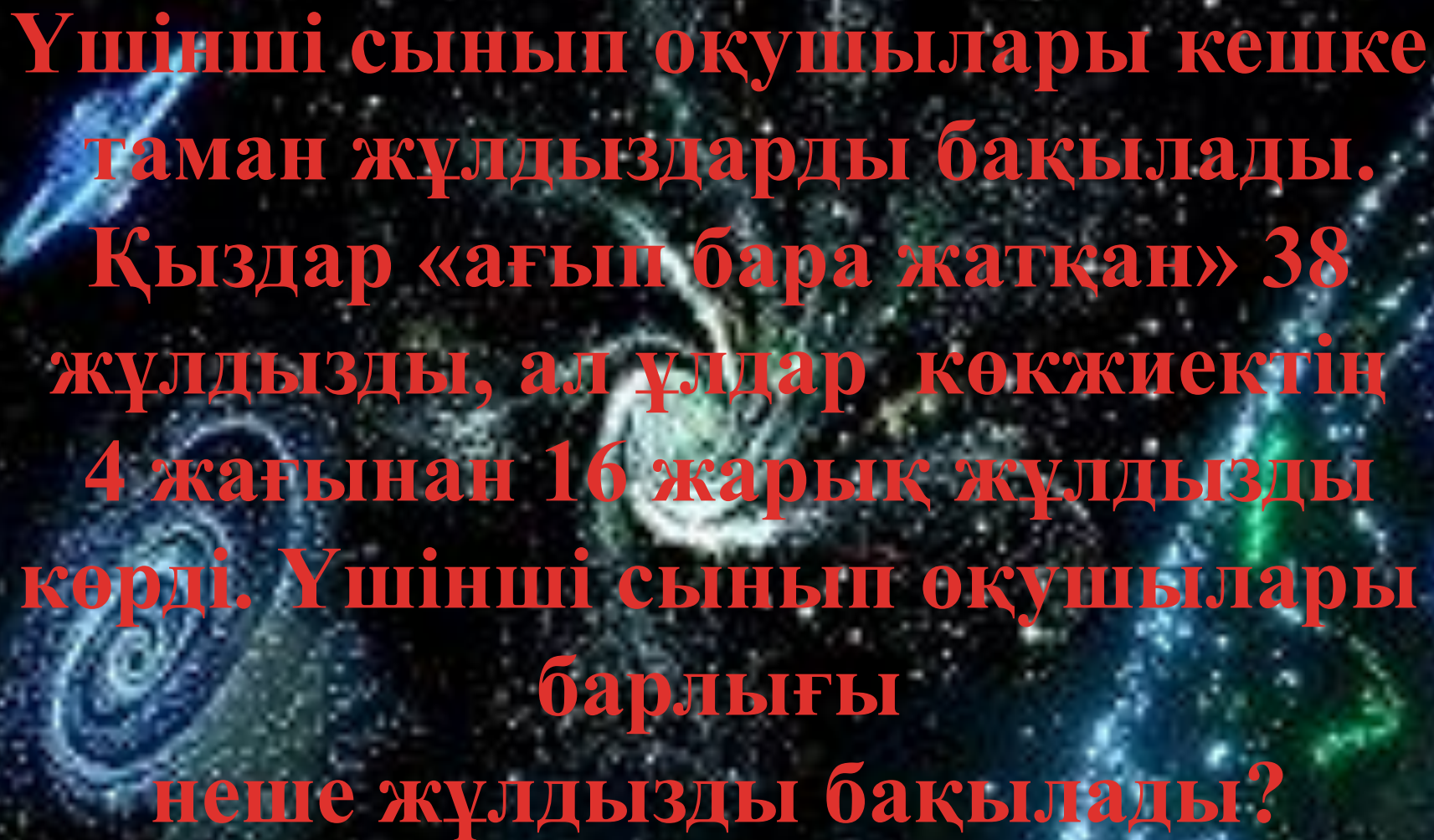


Нептун

Планета

Нептун





**Үшінші сынып оқушылары кешке
таман жұлдыздарды бақылады.
Қыздар «ағып бара жатқан» 38
жұлдызды, ал ұлдар көкжиектің
4 жағынан 16 жарық жұлдызды
көрді. Үшінші сынып оқушылары
барлығы
неше жұлдызды бақылады?**