






математика

**Изучение таблицы
умножения**

Составила учитель Ясникова Е.
В.

Составь задачу

- Купили -     
- Израсходовали - 23 кг
- Осталось -?
- Решение.
- 1)
- 2)
- Ответ.

Решение примеров.

- $3 \times \dots = 18$

- $5 \times \dots = 25$

- $\dots : 2 = 7$

- $\dots \times 6 = 12$

$$\dots : 5 = 9$$

$$32 : \dots = 8$$

$$40 : \dots = 5$$

$$24 : \dots = 6$$

$$12 : \dots = 4$$





$$21 : \dots = 7$$

$$4 \times \dots = 16$$

$$30 : \dots = 3$$

геометрия

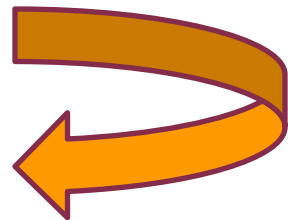
- Разбейте фигуры на группы.



Составь задачу


цена	количество	стоимость
7р.	?	28р.

Подумай!



СКОЛЬКО СМ В 13 М?

- 1 • 130см
- 2 • 1300см
- 3 • 13см



Заполни таблицу

множитель	9		6		4		5
множитель		5		9		7	7
произведение	18	40	18	36	24	21	

ФИЗМИНУТКА



Реши уравнения

- $a \times 5 = 40$
- $y : 7 = 4$
- $45 : b = 9$
- $32 : a = 4$

СПАСИБО ЗА УПОК!

