


№9 орта мектеп

АШЫҚ сабақ

Математика пәні

2сынып






Сабақтың мақсаты:

Өткен сабақтарда алған білімдерін
пысықтап қайталау.

Бірдей сандарды қосу және азайту, бір
амалды, екі амалды есептерді шығара
білу, өрнектер құру, салыстыруда алған
білімдерін бекіту. Оқушылардың ой-
өрісін, ойлау қабілетін, тапқырлығын
дамыту.





Психологиялық дайындық

Математика сабағын
Жақсылап ұғып аламыз.

Сәулесі деп сананың
Мәнінен ой табамыз.

1-қатар

2-қатар

3-қатар



Үй тапсырмасы

$92-57$

35

$48+11$

59

$35+2$

7

62

$90-10$

80

$70-50$

20

$80-40$

40

ҚЫЗЫҒУШЫЛЫҚТЫ ОЯТУ

$60-20$

40

$45+1$

4

59

$68+30$

98

$67+30$

97

$37+21$

58

Қайталау – білім анасы

Балалар, біздің бүгінгі
сабағымыз қайталау
сабағы





Жұмбақ

Түк білмей барасың,
Тәлімін аласың,
Есейіп кетсең де,
Қарыз боп қаласың.

мектеп



-Дұрыс балалар біз білімді мектептен алатын болғандықтан мектеп-кеме, білім-теңіз, барар жерге тез жетерміз, -дегендей білімді теңізге теңей отырып, білім теңізіне саяхатқа шығамыз. Жол-жөнекей қызықты оқиғаларға кездесеміз..





Ақпанның 20-сы
Сынып жұмысы
Қайталау

7,7,7,7,7,7,7,7,7,7



Ой қозғау Санамақ

1- тапсырма: 12-3-3-3-3

12 алманы үш-үштен
бөліп салды. Сонда неше тәрелке қажет



Вежие яблоки в черной тарелке на столе
Анна / Фотобанк Лори

**2-тапсырма. Бізге әжеміз тапсырма дайындап
ойған екен.**

**4л қымызды
4 кесеге бөлді
Әр кесеге -?л**



Ш: Әр кесеге 1 литрдан кұйды.






IV.Мағынаны тану. Топтық

ЖҰМЫС

14(15; 16;18”) санынан
нәтижесінде нөл шығатында
етіп, бірдей сандарды азайт.



1-қатар

$$14-7-7=0$$

$$14-2-2-2-2-2-2-2=0$$

2-қатар

$$16-8-8=0$$


$$16-2-2-2-2-2-2-2-2=0$$

3-қатар

$$18-9-9=0$$

$$18-6-6-6=0$$





“Сергіту сәті” 4 тапсырма .

Әнші -20

Биші -6

60

Домбырашы-?

Шешуі: $60 - (20 + 6) = 34$ (д)

Жауабы: 34 домбырашы



Жұмбақ

- Тиіп кетсе жылаған,
- Дауысы көпке ұнаған.

(Домбыра)





Байқауға қатысты-42 (а)

Жүлде алды-6 (а)

Жүлде ала алмады-? (а)





Байқауға қатысты-42

(а)

Жүлде алды-6 (а)


Жүлде ала алмады-?

(а)

Шешуі: $42-6= 36$


(а)

Жауабы:36





Венн диаграммасы
Есептердің
айырмашылығы
неде?
Қандай ұқсастығы





Ойлан тап

№5

Теңдеуді шеш.

$$1\text{-қатар: } 27 + x = 90$$

$$2\text{-қатар: } 90 - x = 63$$

$$3\text{-қатар: } x - 27 = 63$$

№6 есеп

$$29+19=48$$

$$39+19=58$$

$$49+19=68$$

$$59+19=78$$

$$48-19=29$$


$$58-19=39$$

$$68-19=49$$

$$78-19=59$$



Сергіту сәті



7 тапсырма

Кім

шашшан?

№7 Тапсырма

“Кім шапшаң” ойыны


$$34 + 19 =$$

$$53 - 18 =$$

$$72 - 18 =$$

$$50 - 17 =$$

$$46 + 25 =$$

$$71 - 24 =$$



№7 Тапсырма

“Кім шапшаң” ойыны

1-топ

$$34 + 19 = 53$$

$$53 - 18 = 35$$

2-топ

$$72 - 18 = 54$$

$$50 - 17 = 33$$

3-топ

$$46 + 25 = 71$$

$$71 - 24 = 47$$

«Балапанға көмөктөсү»



$$(7 - 6) \blacksquare = 3$$

«Балапанға көмөктөсү»



$$(7 + 6) - 10 = 3$$



$15+45$

$26+44$


$84-14=$ $95-15$

$64-4=$

$45+35=$

$100-40=$

$35+35=$



Үйге тапсырма
№7 тапсырма



***Балаларды
мадақтау***



Баға ағашы



5



4



3


- *Шөпте қояндар тығылып отыр, тек 10 құлағы ғана көрініп тұр. Қанша қоян тығылып отыр?*
- *Таразы табақшасына 2 аяғымен тұрғанда тырна 2 кг болды. Бір аяғымен тұрса, онда оның массасы қандай болады?*
- *Ауылда 4 күн 4 түн боран соқты. Неше тәулік боран соқты?*
- *Бір адам қалаға бара жатыр еді, жолда оған 3 танысы қарсы келді. Қанша адам қалаға барды?*
- *Мараттың кілең 1 теңгеліктен тұратын барлығы 100 теңге ақшасы бар еді. Құрал – жабдық сатып алған ол дүкенге 97 теңге төлеуі тиіс еді. Қалай тез есептеп беруге болады?*

-Балалар бүгінгі саяхат сабағымыз сіздерге ұнадыма?

-Олай болса кемемізді өзіміздің Каспий теңізінде тоқтаймыз.

-Балалар бүгінгі саяхат сабағымыз сіздерге ұнадыма?
-Олай болса кемемізді өзіміздің Каспий теңізінде
тоқтаймыз



A vibrant scene with a hot air balloon, sun, bubbles, and a tulip field. The background is a clear blue sky with a bright sun in the upper right corner, creating a lens flare effect. Several large, clear bubbles are floating in the air. In the foreground, a field of red and yellow tulips is visible, with a few larger tulips in the immediate foreground. In the distance, three black windmills are visible against the sky. A hot air balloon with a colorful pattern is floating in the upper left corner.

Назарларыңызға
рахмет!



САБАҚ АЯҚТАЛДЫ



САБАҚ АЯҚТАЛДЫ





