





Разминка для ума




Разгадай правило,
продолжи ряд двумя
последующими числами



- 19, 17, 15, ...
- 71, 73, 75, ...
- 44, 46, 45, 47, 46, ...
- 23, 26, 24, 27, ...
- 91, 95, 92, 96, 93, ...



Выбери «лишнюю» величину



- 91см, 10дм, 100м, 29кв.см, 41дм
- 45кг, 24кв.дм, 83кв.см, 43кв.м
- 25кв.м, 68кв.м, 38кв.см, 74кв.м

