


3 класс

Разработала: Носова Людмила
Николаевна
Учитель начальных классов
МБОУ Васильевская СШ



Реши задачу:
Чему равна площадь квадрата
со стороной 9 дм.?




Умница

Я
расстроен

81

18

36



**Найди произведение чисел 50
и 3**




**Так
держаться**

Подумай!

47

53

150



Найди сумму чисел 160 и
42.

Молодец!


Неверно.



118

202

158



Найди разность чисел 94
и 5.

Верно.

...Т
быть.




98

89

99



**Найди число, в котором 5
десятков,
а единиц на 2 меньше.**



Порадова


Эх,...



53

52


35



Какое число увеличили на 7,
если получили 30?

Внимательные


Умница!



29

23

37



Какое число уменьшили на 9,
если получили 21?


Ты победитель!

не спеши

30

12

11



Продолжи высказывание:

а) Число в записи, которого одна цифра называют ...

б) Число, состоящее из двух цифр, называют ...

в) Число в записи, которого три цифры называют ...

а) Назовите число, которое находится между числами 849 и 851.

б) Назовите число, которое следует за числом 299.

в) Назовите число, которое при счёте идёт перед числом 121.

г) Какое число меньше 320 в 10 раз?

д) К 2 сотням прибавь 8 десятков.

е) Запишите число, в котором 5 ед. 1 разряда, 4 ед. 2-го разряда и 3 ед. 3-го разряда.

Единицы - единицы первого разряда,

десятки - единицы второго разряда,

Сотни - единицы третьего разряда.

24 литра фруктового сока разлили в шесть банок поровну. Сколько надо таких банок, чтобы разлить 16 литров сока?

Ребята расчищали от снега дорожки около школы. Мальчиков было 24, а девочек в три раза меньше. Сколько всего детей расчищало дорожки?