

Сабақтың тақырыбы:



8 саны және цифры



Мақсаты:



Оқушыларды 8 саны және цифрымен таныстыру.

- Танымдылық ойындар ойнату арқылы, ойлау қабілеттерін жетілдіру. Есептеу дағдылары арқылы, білімділік дағдыларын қалыптастыру.
- Пәнге деген қызығушылықтарын арттыру. Ұқыптылыққа, сауаттылыққа, сыйластыққа тәрбиелеу.



Сабақ түрі: жаңа сабақ
Әдіс- тәсілдері: сұрақ-
жауап,
Көрнекілігі: суреттер,
карточкалар,



* I. Ұйымдастыру кезеңі.

* Көңіл күй ахуалы. Ынталандыру.

* Оқушылар көздерін жұмып отырады және мұғалімді мұқият тыңдайды, әрбір сөз тіркесінің соңғы сөзін хормен айтады.

* — Біз сабақта ... (отырмыз).

* Біздің көзіміз зер сала қарайды, барлығын ... (көреді).

* Біздің құлағымыз мұқият тыңдайды және барлығын ... (естиді).

* Басымыз жақсы ... (ойлайды).

* Біз сабаққа ... (дайынбыз).

II. . Өткен сабақты қайталау.

-Өткен сабақта қандай санмен, цифрмен таныстық?

-Апта дегеніміз не?

-Апта аттарын еске түсірейік



Сенбі



Сейсенбі



Жұма



Бейсенбі



Сәрсенбі

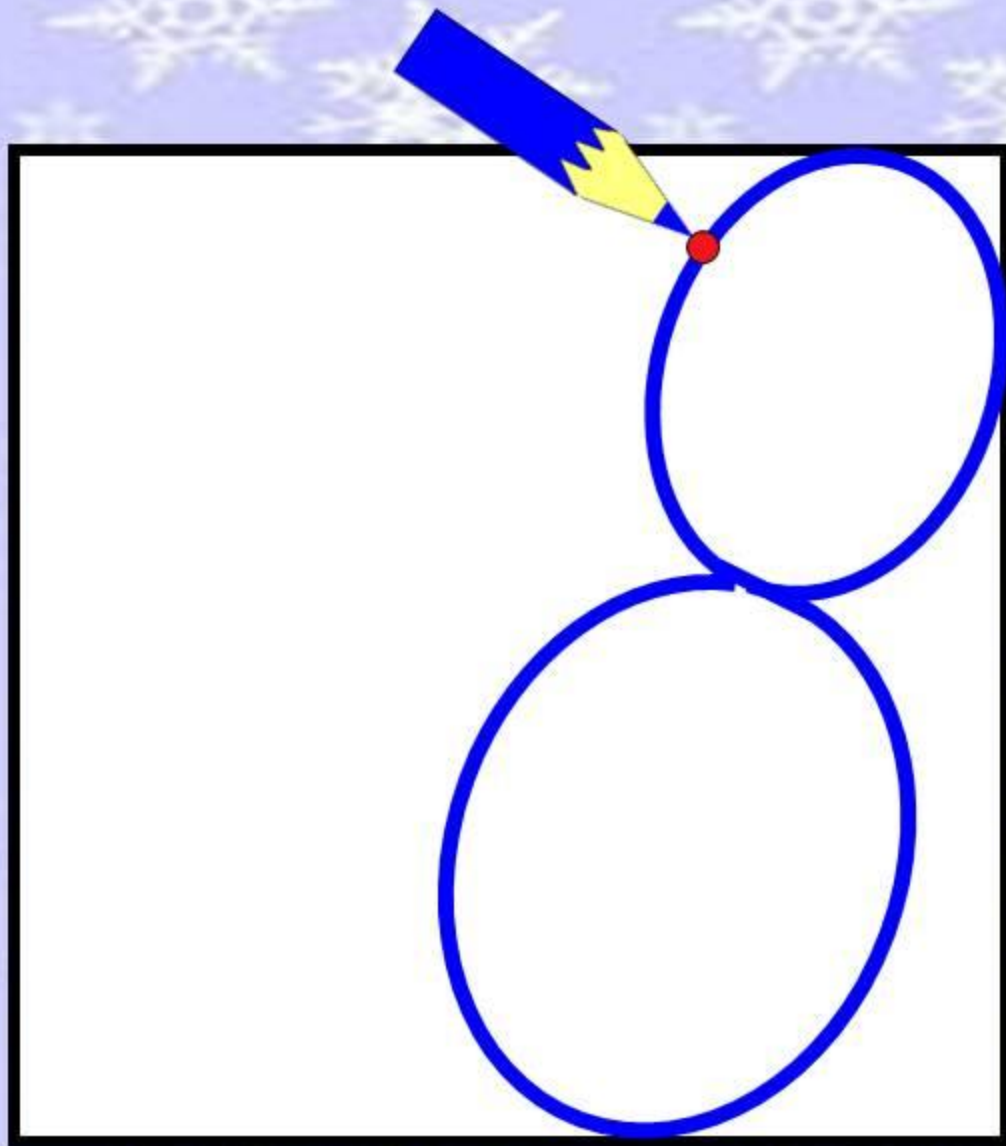


Дүйсенбі



Жексенбі

1. Менімен таныс
емессің,
Теңіз түбі қонысым.
Аяғым сегіз, басым бар,
Айтшы қане, кіммін
мен? (сегізаяқ



У.Жаңа сабақ:

1) Дүйсенбі – 1-күн.


1 - күн





Дүйсенбі



$$7 + 1 = 8$$



Теңдіктер құрастыру, дәптерге жазу.



$$7 + \square = 8$$

$$6 + \square = 8$$

$$1 + \square = 8$$

$$2 + \square = 8$$

$$8 - \square = 1$$

$$8 - \square = 2$$

$$8 - \square = 7$$

$$8 - \square = 6$$

2 - күн



Сейсенбі

3 - күн

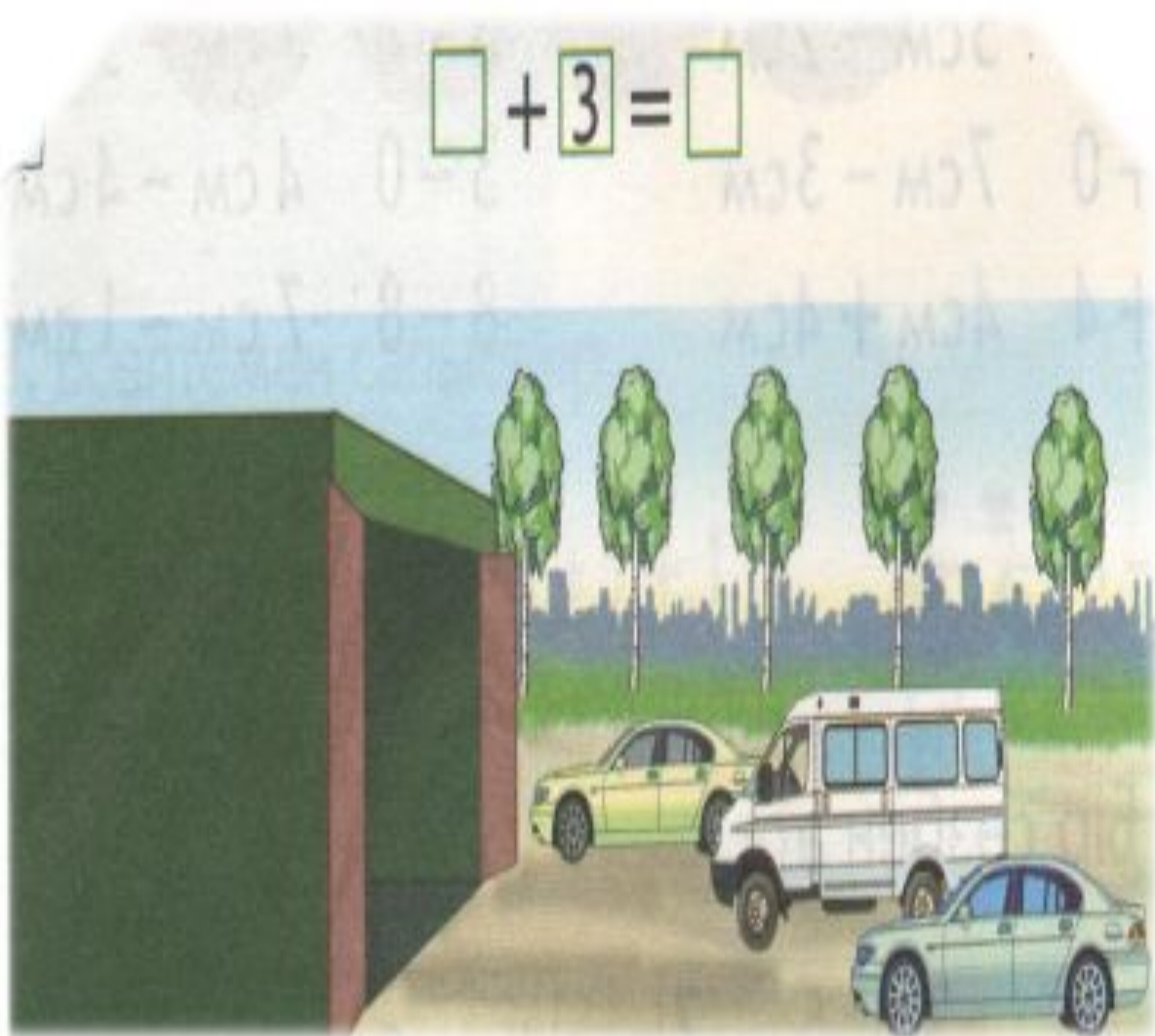


Сәрсенбі

Суретпен жұмыс

Теңдік құрастырып, дәптерге жазу

$$\square + 3 = \square$$



Сергіу сәті.



4 - күн



Карточкамен жұмыс

Сандардың
көршісін тап

<input type="text"/>	5	<input type="text"/>	<input type="text"/>	7	<input type="text"/>
<input type="text"/>	6	<input type="text"/>	<input type="text"/>	2	<input type="text"/>







Бейсенбі

5 - күн

«Сиқырлы» суреттерді толықтыру

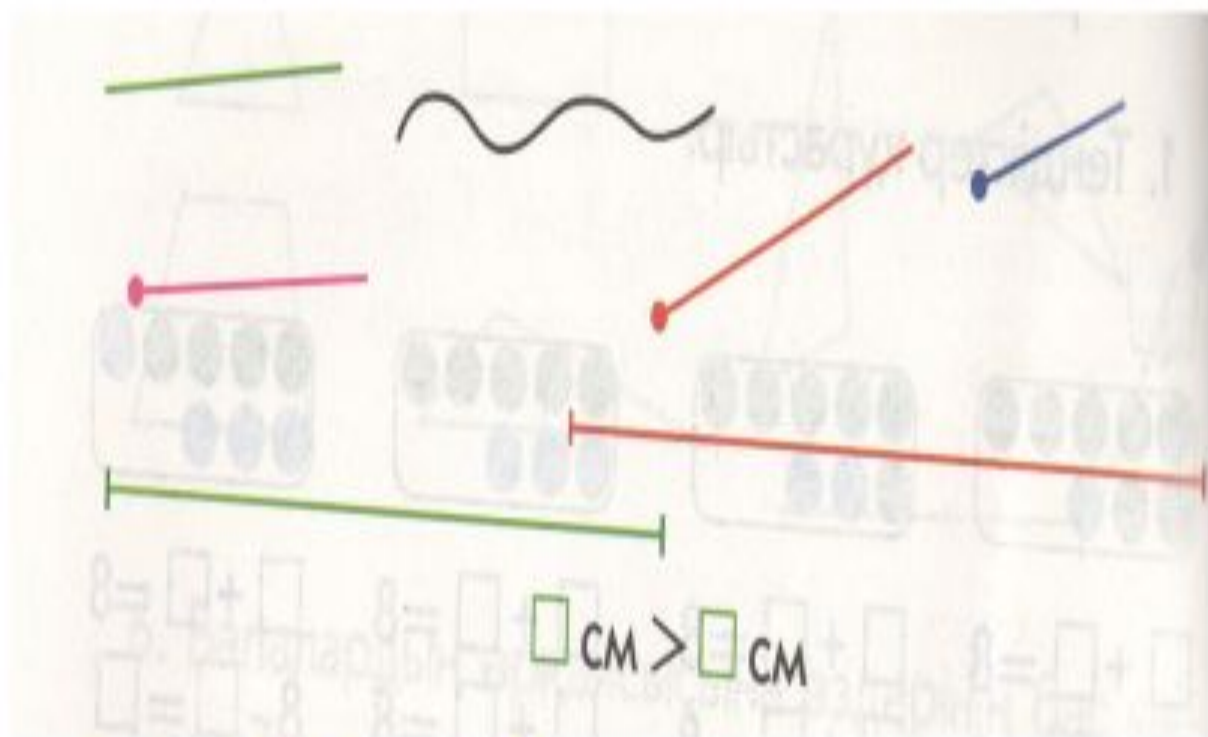


Жұма

6 - күн

Геометриялық фигураларды ата



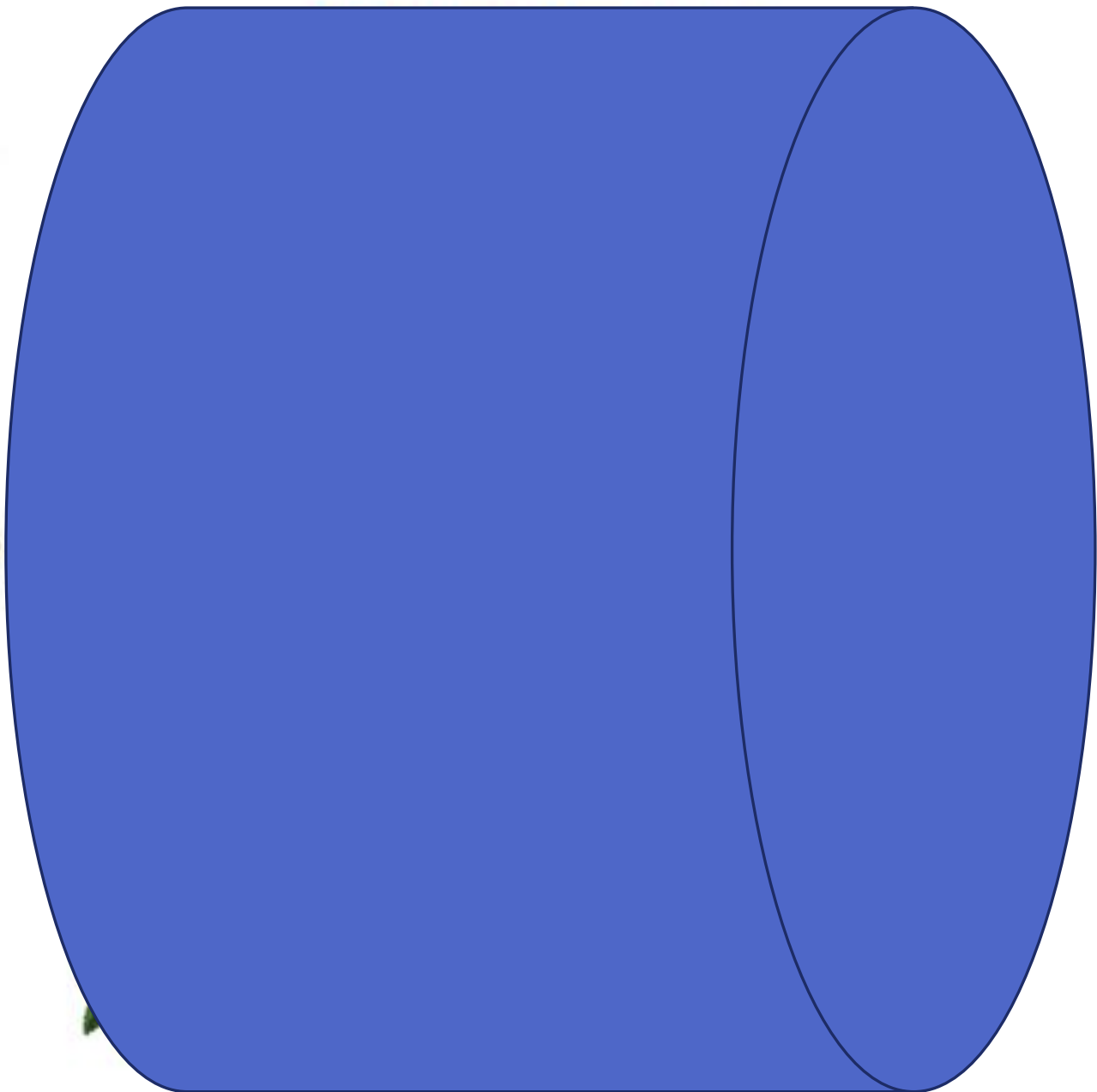
Кесінділерді өлше, салыстыр

Сенбі

7 - күн



Жексенбі



3. Қызығушылықты ояту: Математикалық жұмбақ.

*Аулада 5 үйрек,
Қорада 2 үйрек.*

1 үйрек тығылды,

1 үйрек жығылды.

Қалғаны неше үйрек?



Себеттен 5 алма алғаннан кейін, онда тағы 5 алма қалды. Себетте қанша алма болды?



Тиін 6 алма, ал кірпі 3 алма теріп алды. Тиін кірпіге қарағанда неше алма артық жинап алды?



Ойын: “Алма теру”

$$7 + 1 = 8$$


$$3 + 0 = 3$$


$$2 + 4 = 6$$

$$5\text{см} + 3\text{см} = 8\text{см}$$

$$7\text{см} - 3\text{см} = 4\text{см}$$

$$4\text{см} + 4\text{см} = 8\text{см}$$





Үйге
тапсырма.

*72 -
бет,
№ 6

Бағалау



«5»



«4»



«3»

Марапаттау



***Назарларыңызға рахмет!**

