


6 занятие







кукушка



стриж



папоротник



герань




алоэ



петрушка



клён



осина



берёза



Поиск закономерностей



Вход-выход , Въезд-**выезд**

Увеличить –уменьшить , прибавить- **отнять**

Большой-маленький, храбрец-**трус**




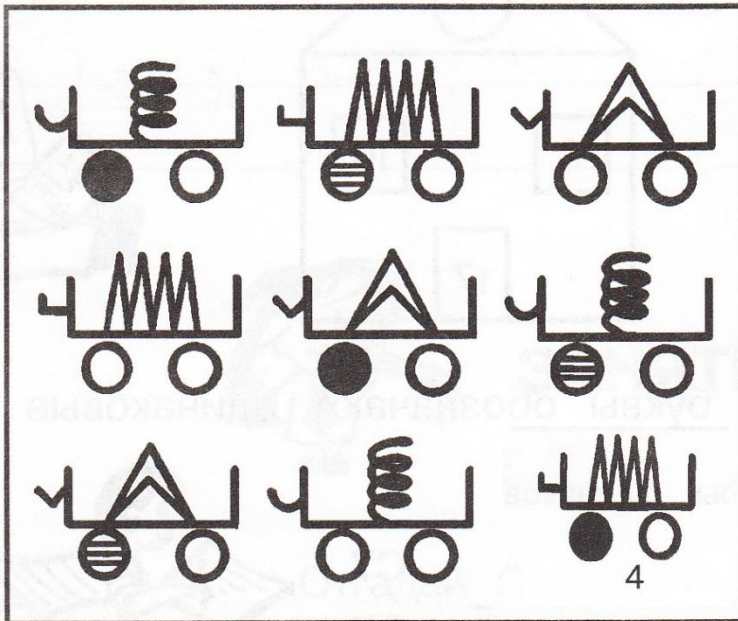
Наталья – племянница Софии .
Кто София Наталье

Тётя






1. Выбери нужную фигуру из четырёх пронумерованных.




1

2

3



4





2. Вставь вместо точек слово из трёх букв, которое служило бы окончанием первого слова и началом второго.

Например: ОБЫ (ЧАЙ) КА

МЕ (**ШОК**) ОЛАД

УТКО (**НОС**) ОРОГ

У (**КОЛ.**) ЕСО

КИПА (**РИС**) УНОК





3. Реши анаграммы и исключи лишнее слово.

ААЛТЕРК

КОЖАЛ

ДМОНЧЕА

ШКААЧ

тарелка

ложка

чемодан

чашка

чемодан





4. Слово в скобках в верхнем ряду каждого задания образовано из двух рядом стоящих. Пойми закономерность и впиши недостающее слово в скобки нижнего ряда.

ТОРТ (ТОСКА) СКАМЬЯ

ДЕЛО (**демон**) МОНСТР

КНИГА (АИСТ) САЛАТ

ПОРОГ (**грот**) ОМЛЕТ

ПИРОГ (ПОЛЕ) СЛЕЗА

РЫНОК (**роса**) ОСАДА

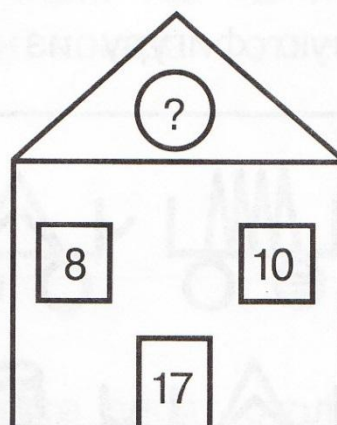

ЛОТОК (КЛАД) ЛОДКА

ОЛИМП (**порт**) КАТЕР





5. Вставь недостающее число.



$$12+15-16=11$$


$$8+10-17=1$$



УЧИСЬ РЕШАТЬ, СТАРАЯСЬ РАССУЖДАТЬ



8. У Веры 7 орехов, а у Клавы и Светы их поровну, но меньше, чем у Веры. Всего у трёх девочек 11 орехов. Сосчитай, сколько орехов у Клавы и сколько у Светы.



$$1) 11-7=4$$

$$2) 4 : 2=2$$

Ответ : У Клавы и Светы по 2 ореха



К



”

кле́й





,

+

С



,

краски





+

ИЖ

и = а



ластик



+

,



циркуль



P

,



ручка

