


1 Игра «Чего на свете не бывает?»

Сколько рук у поросёнка?

Сколько лап у индюшонка?

Сколько гребней у гуся?

Сколько ног у карася?



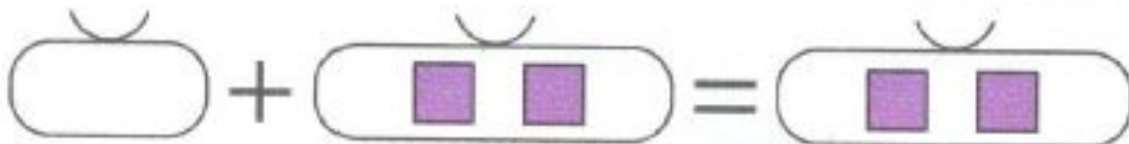
2

Допиши и дорисуй:

$1 + 0 = \boxed{1}$




$0 + 2 = \boxed{2}$



$3 - 0 = \boxed{3}$



$4 - 4 = \boxed{0}$



3

Вставь вместо звёздочек, если возможно, знак «+» или «-». В каких случаях возможны различные варианты решения? Неверные равенства зачеркни.

$3 * 3 = 0$

$2 * 0 = 2$

~~$4 * 3 = 0$~~

$0 + 5 = 5$

~~$0 * 8 = 9$~~

$1 + 0 = 0$

$7 * 0 = 7$

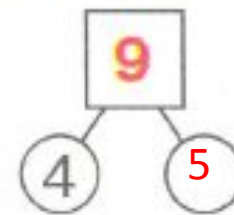
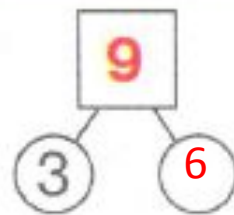
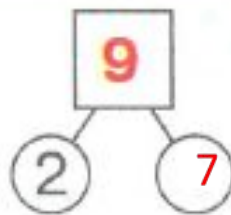
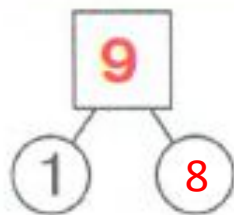
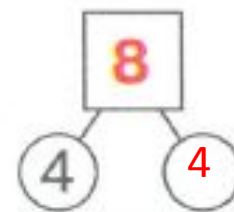
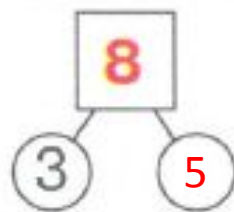
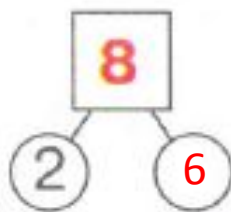
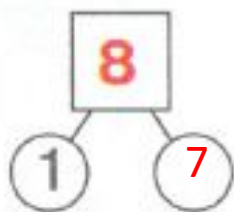
$9 - 9 = 0$

$0 + 4 = 4$

Занятие 26. ЧИСЛО 0. ЦИФРА 0

51

4 Допиши недостающую часть числа.



5

Допиши равенства. Что общего у всех фигур?



$$2 + 4 + 3 = \boxed{9}$$

$$2 + 5 + \boxed{2} = \boxed{9}$$



$$3 + 5 + \boxed{1} = \boxed{9}$$

$$3 + \boxed{3} + \boxed{3} = \boxed{9}$$

6* Раскрась маленькие мячи так, чтобы большой мяч был между красным и синим, жёлтый – слева от красного, но справа от зелёного.



