

Урок – праздник

В гости к Деду Морозу

Математика 2 класс

В гости к Деду Морозу

И прекрасна, и сильна,
Математика – страна!
Тут везде идет работа,
Все подсчитывают что-то,
Всюду можно услышать:
«Раз, два, три, четыре, пять»



Ребята, сегодня мы с вами отправимся в зимний лес в гости к Деду Морозу. Он прислал пригласительный билет – новогоднюю открытку.



Ребята! Приглашаем вас на новогоднюю елку в наш зимний лес.

Дед Мороз и его друзья.

Но путь предстоит не из легких. Сначала нам нужно отгадать ребусы и узнать, чем мы будем заниматься во время нашего путешествия.

ВИ 3 НА

решать

100 л

смекаать

ЛИ 100 К

ОТГАДЫВАТЬ

Правильно: мы будем решать трудные задачи, примеры на умножение и деление, смекаать, отгадывать.

Путь к Деду Морозу – долгий, поэтому мы отправимся туда на вертолете в сопровождении веселого снеговика.

Для того, чтобы получить право занять места в вертолете, мы должны выполнить задание, приготовленное для нас снеговиком.




Назвать число десятков и единиц в каждом числе:

80 52 68 97 41 20 75 66 36 89 74 12 100

Молодцы, ребята! Вы правильно выполнили задание и можете занять места в вертолете.

В салоне вертолета нас встречает дрессированный медвежонок Миша и предлагает решить веселые задачки.



**Мышка зерна собирала,
По два зернышка таскала,
Принесла уж девять раз.
Каков мышки стал запас?**

18

**К трем зайчатам в час обеда
Прискакали три соседа.
В огороде зайцы сели
И по семь морковок съели.
Кто считать, ребята, ловок?
Сколько съедено морковок?**


42

Что помогает нам решать задачи?

МОЛОДЦЫ!

Пока вы решали, вертолет доставил нас к месту посадки. Но вот беда: в лесу нет посадочной площадки.

Придется прыгать с парашютом. Но приземлиться может тот из нас, кто решит примеры, записанные на парашюте.



МОЛОДЦЫ!

Вы все верно нашли ответы, приземлились точно в заданном месте, и мы отправляемся по лесной тропинке на поляну.



Но кто это? Белка!

Она спешит предупредить нас о том, что впереди тропинку завалило сугробом. Мы должны расчистить ее. Но для этого придется решить трудную задачу.

**Саша - 16 игрушек
Миша - ? на 4 больше**

$$16+4=20$$



МОЛОДЦЫ!

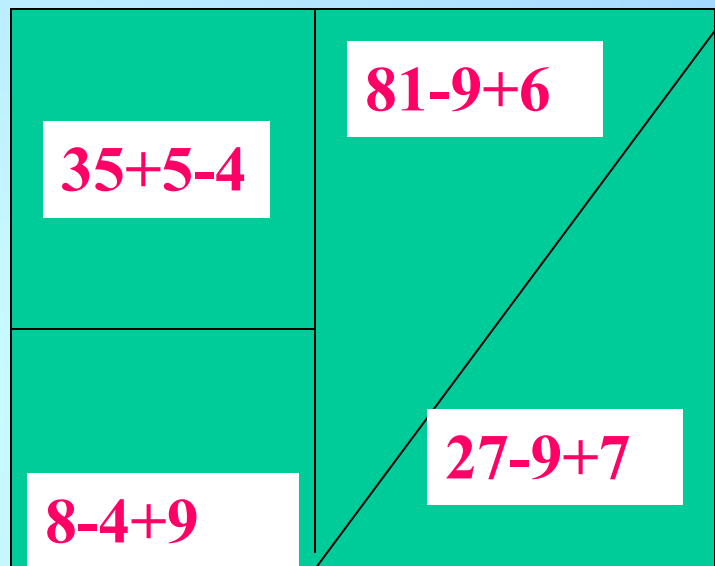
Нам нужно ОТДОХНУТЬ.





Смотрите, нам навстречу спешит заяц. Он дает нам квадрат.


Квадрат составлен из разных геометрических фигур, на каждом из которых записан пример. Решите их.



Из каких геометрических фигур состоит квадрат?

МОЛОДЦЫ!

**И вот, наконец, мы на сказочной, занесенной
снегом поляне. Нас встречает Дед Мороз, его друзья
и красавица – елка.**





Но как вы думаете, ребята, чего не хватает на елке?

Правильно, игрушек. Давайте украсим елку. Украсить елку может только тот, кто решит примеры правильно.

 $15+4$

19

 $16+8$

 $17-9$

8

МОЛОДЦЫ!



**Дед Мороз и его друзья
очень рады, что вы на уроке
прошли все препятствия.**



Ваши новые друзья прощаются с вами .

**С Новым Годом всех вас поздравляем,
Счастья и здоровья всем желаем.
Пусть у всех все, что ни пожелается,
В году новом тотчас исполняется!**

С НОВЫМ ГОДОМ!