



**ГУ «Средняя школа № 35 имени А. Гайдара
отдела образования акимата города Тараз»**



**Кузнецова Наталья
Николаевна**

**Панорамный урок -
проект по математике
«Строим дом»
(2 класс)**

Тема: «Устные приемы сложения и вычитания трехзначных чисел вида $699+300$, $900-300$ »

Цели:

Обучающая:

Формировать умения складывать и вычитать трехзначные числа вида $600+300$, $900-300$, учить самостоятельно добывать знания.

Развивающая:

Развивать внимание, креативное и логическое мышление.

Воспитывающая:

Воспитывать желание достичь успехов в умственном развитии, культуру поведения.



Устный счет

Игра «Домино»

(таблица сложения и вычитания с переходом через десяток)

Карточки по количеству детей

| Ответ | Вопрос |
|-------|--------|
| | $7+8$ |

| Ответ | Вопрос |
|-------|--------|
| 15 | $16-9$ |

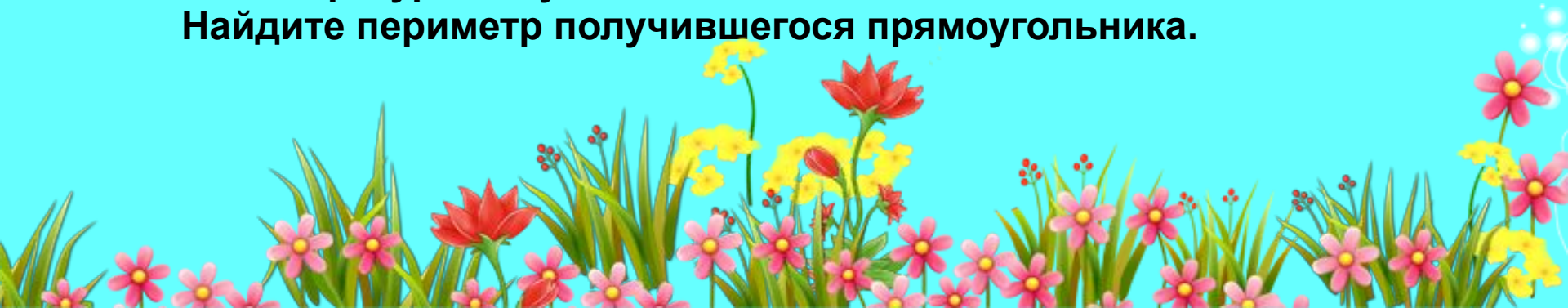


Математический диктант с заданием

Записываются ответы в 3 столбика.

| | | |
|-----|----|-----|
| 100 | 24 | 100 |
| 7 | 12 | 10 |
| 100 | 10 | 100 |

- Сколько лет в одном веке?
 - Сколько часов в сутках?
 - Сколько см в метре?
 - Сколько дней в неделе?
 - Сколько месяцев в году?
 - Сколько сантиметров в дециметре?
 - Сколько кг в центнере?
 - Сколько мм в 1 см?
 - Сколько мм в 1 дм?
 - Какие числа повторились?
 - Соедините их при помощи карандаша и линейки.
 - Какая фигура получилась?
- Найдите периметр получившегося прямоугольника.





SEABOIS




- Раскрась картинку, решив примеры



200+400
600-200
500-500
800-500
600+300

300+300
500-100
800-800
600+200-500
400+300+200

400+500-300
200+700-500
400+400-800
200+400-300
500+500-100



Составь и реши задачу по картинке



- 7 м















9 м больше

- ? на


? м.





Весёлый аукцион

400кг



300кг



61кг



52кг



16кг



11кг



4кг



3кг



2кг




Рефлексия

Вот и закончили строительство дома, нас ждет новоселье, а для этого давайте украсим двор флажками

- Кому легко было справиться со всеми заданиями?



- Кому было интересно, но он испытывал трудности?



- Кому было трудно?





СПАСИБО

СПАСИБО

СПАСИБО

mirgif.com