

Муниципальное бюджетное общеобразовательное учреждение
«Средняя общеобразовательная школа № 11 поселка Нового»
Георгиевского района Ставропольского края

ИНТЕГРИРОВАННЫЙ УРОК

(МАТЕМАТИКА, РУССКИЙ ЯЗЫК, ОКРУЖАЮЩИЙ МИР)

4 КЛАСС

ТЕМА: ПРИРОДНЫЕ ЗОНЫ РОССИИ.

УЧИТЕЛЬ НАЧАЛЬНЫХ КЛАССОВ
АЛТУНИНА ЭЛЬВИРА АНАТОЛЬЕВНА

ЦЕЛИ УРОКА:

- Формирование вычислительных навыков
 - Отработка навыков правописания безударных гласных
 - Систематизация знаний о природных зонах России
-

ГЛАВНЫЙ ВОПРОС УРОКА

КАКОЙ ПРЕДМЕТ ВАЖНЕЕ?



ЧИСТОПИСАНИЕ

1; 6; 10; 16; 33

ЧИСТОПИСАНИЕ

А	Б	В	Г	Д	Е	Ё	Ж	З	И
1	2	3	4	5	6	7	8	9	10
Й	К	Л	М	Н	О	П	Р	С	Т
11	12	13	14	15	16	17	18	19	20
У	Ф	Х	Ц	Ч	Ш	Щ	Ъ	Ы	Ь
21	22	23	24	25	26	27	28	29	30
Э	Ю	Я							
31	32	33							

ПРОВЕРИМ!

А, Е, И, О, Я

ГРАФИЧЕСКИЙ СЛОВАРНЫЙ ДИКТАНТ

- В...гон, б...лет, д...рога, пут...шествие, б..гаж,
г...р...зонт, к..лометр, ч..сы.

Проверь себя!

а и о е а о и и а

ВЕРИШЬ ЛИ ТЫ?

$$15 \text{ км} = 15000 \text{ м}$$



$$3 \text{ м } 34 \text{ см} = 3340 \text{ см}$$



$$3 \text{ км} = 300 \text{ м}$$



$$2 \text{ ч} = 200 \text{ мин}$$



$$150 \text{ мин} = 2 \text{ ч } 30 \text{ мин}$$

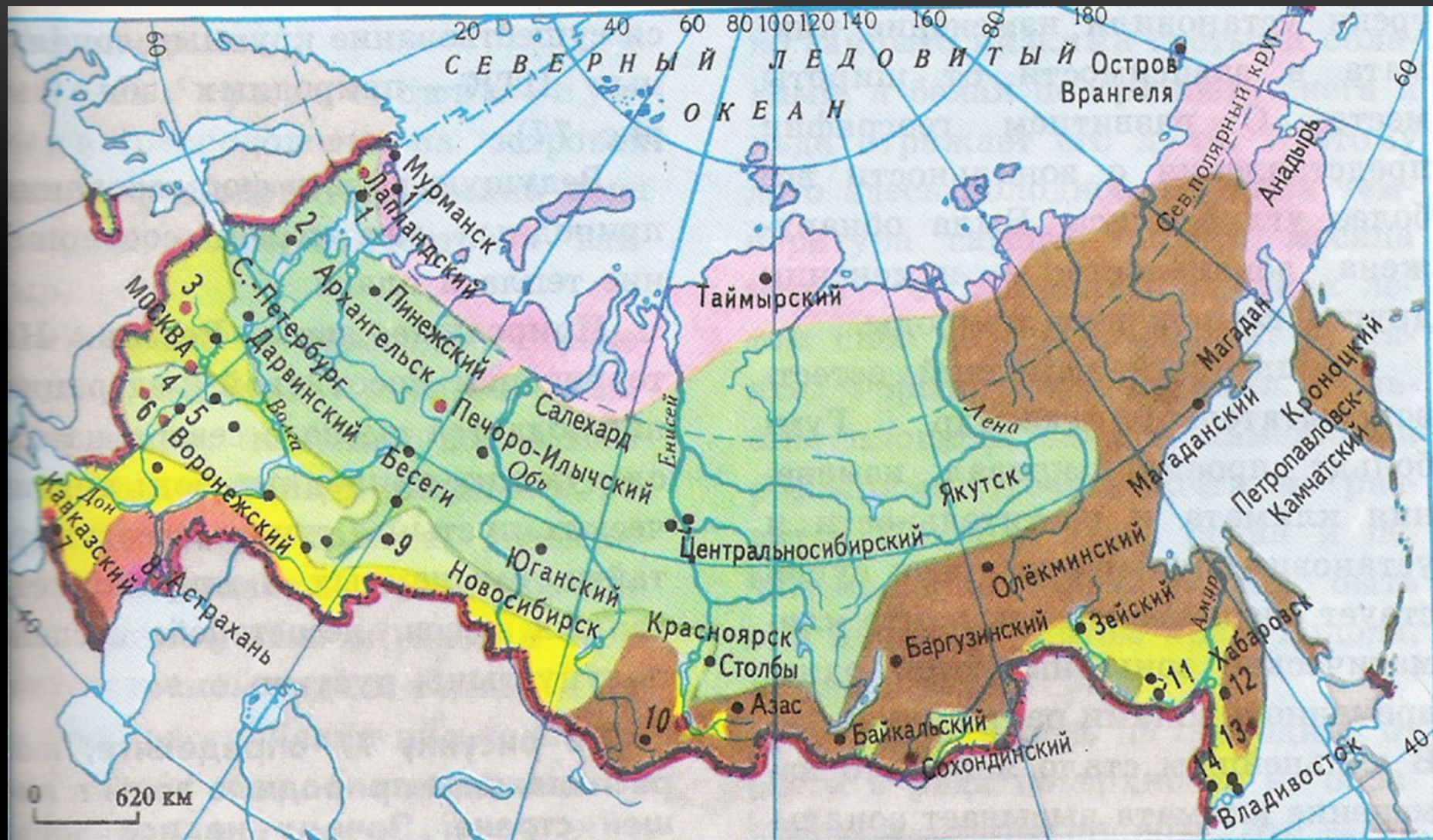


$$5 \text{ т } 600 \text{ кг} = 560 \text{ кг}$$



$$45000 \text{ г} = 45 \text{ кг}$$



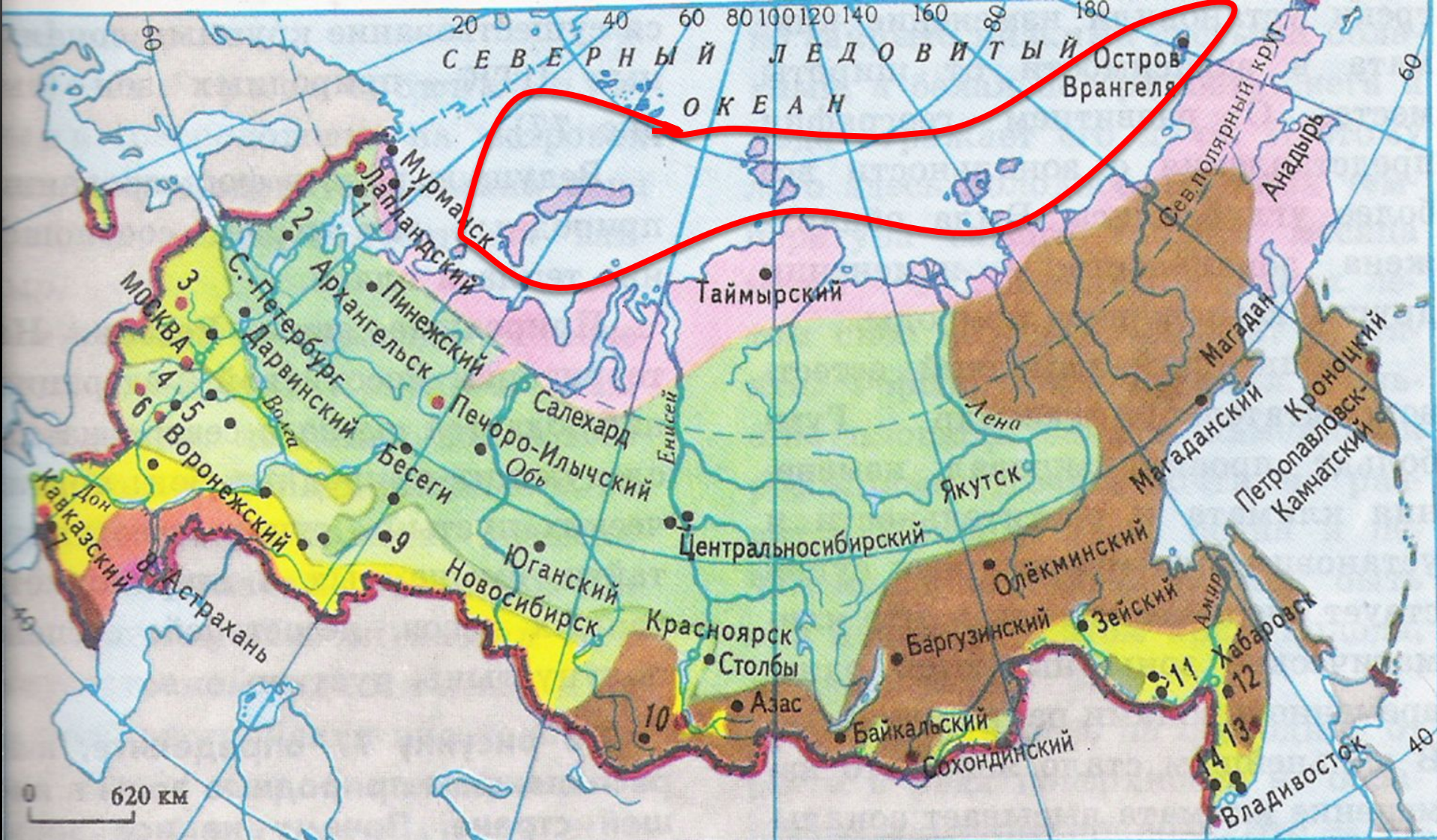


ОБЩАЯ ПРОТЯЖЕННОСТЬ ГРАНИЦ РОССИИ –
60933 КМ

ИЗ НИХ **38808 КМ** – МОРСКИЕ

НАЙДИТЕ ДЛИНУ СУХОПУТНЫХ ГРАНИЦ

$$60933 - 38808 = \mathbf{22\ 125\ (км)}$$



- Арктические пустыни
- Тундра и лесотундра
- Тайга

- Смешанные и широколиственные леса
- Лесостепи
- Степи

- Полупустыни
- Пустыни
- Горные области с высотной поясностью

ПРОВЕРЬ!

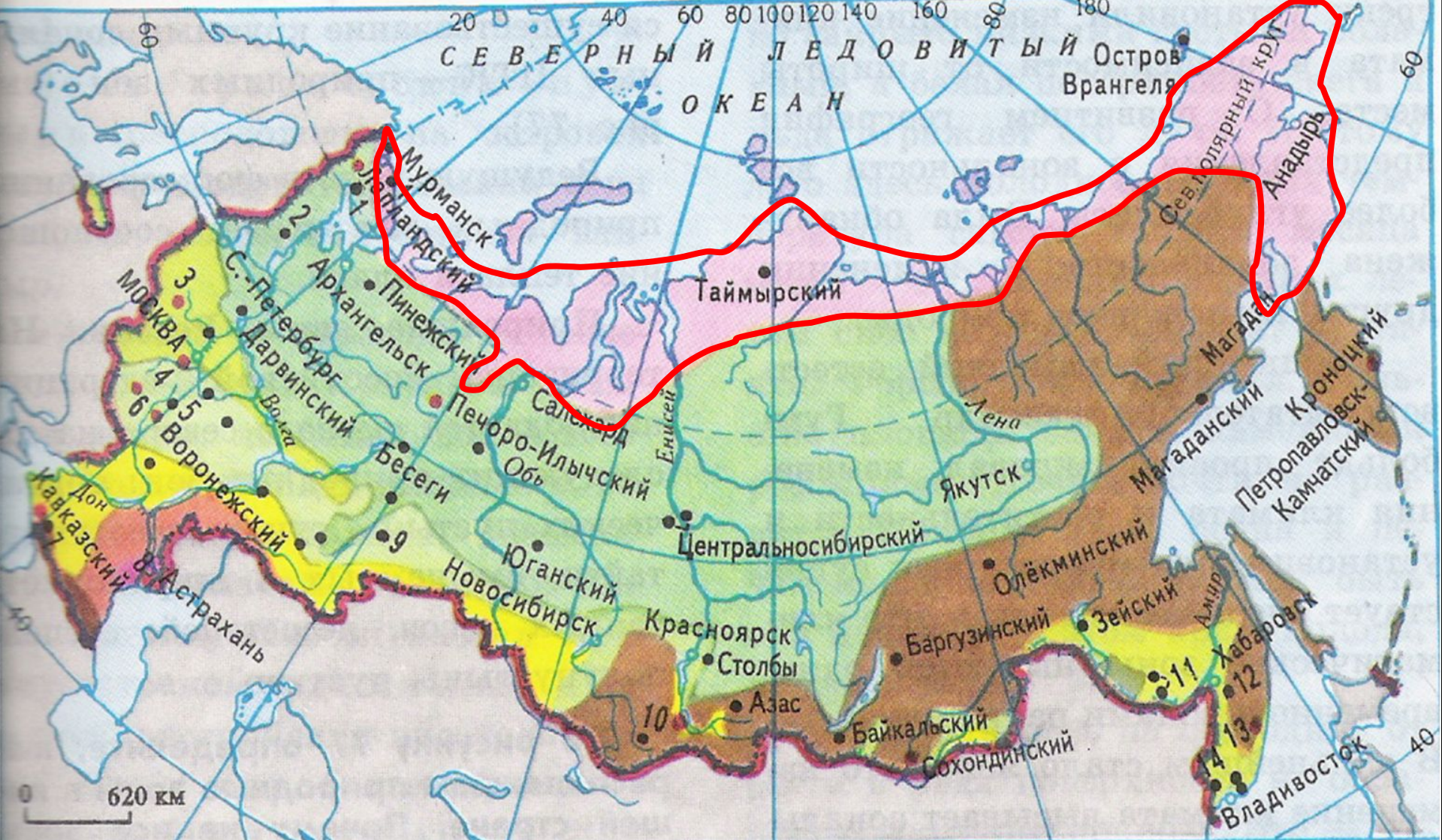
В Арктике продолжительная
холодная зима.

холодная

The word 'холодная' is annotated with yellow lines: a horizontal line under the first part, a vertical line under the second part, a curved line above the first part, and a small triangle above the second part.

ФИЗМИНУТКА





- Арктические пустыни
- Тундра и лесотундра
- Тайга

- Смешанные и широколиственные леса
- Лесостепи
- Степи

- Полупустыни
- Пустыни
- Горные области с высотной поясностью

ЗАДАЧА

Одно нанайское поселение держит 3 стада оленей по 197 голов в каждом, а эскимосское поселение – 4 стада оленей по 158 голов в каждом. Сколько всего голов оленей в этих поселениях?

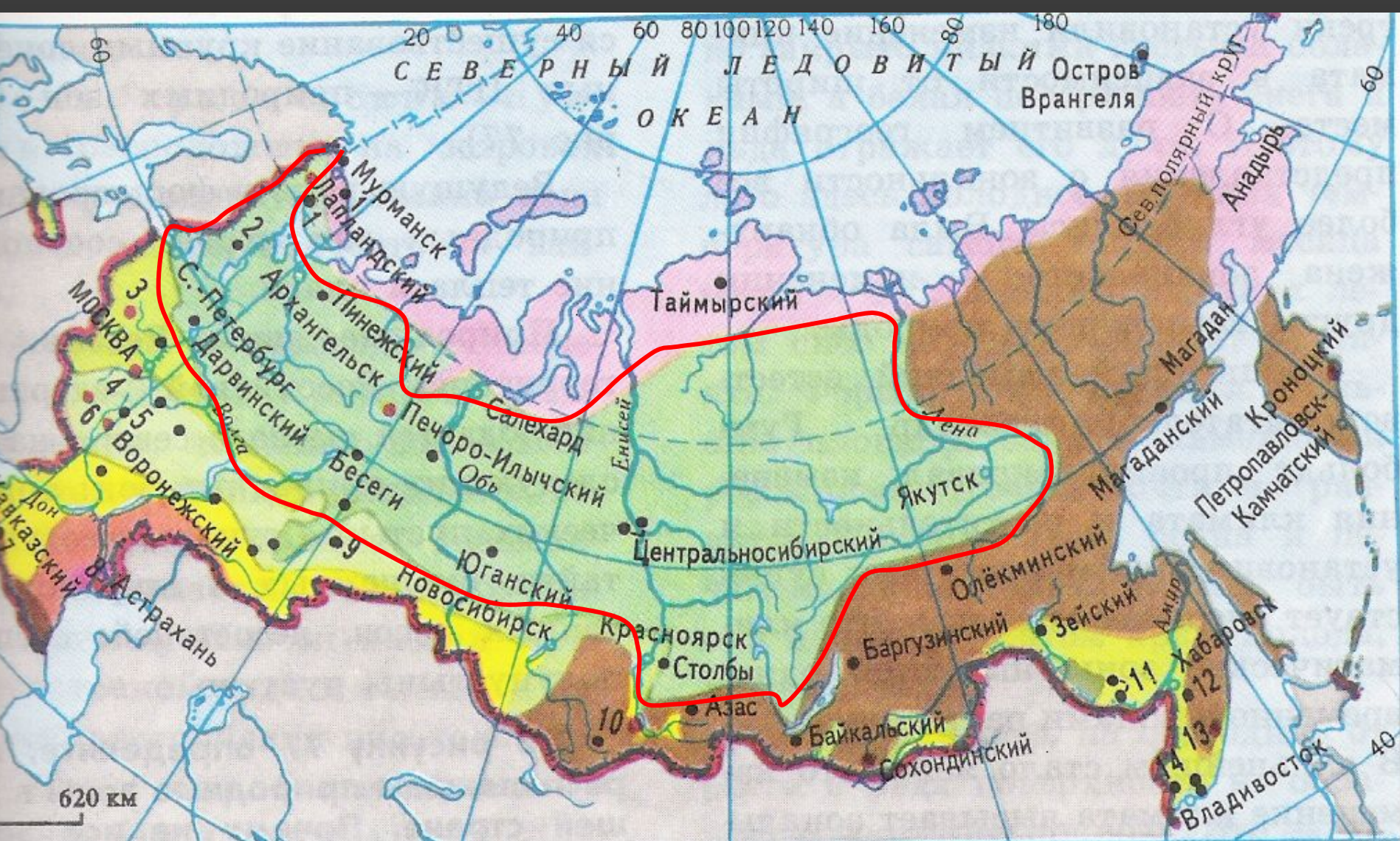
1) $197 \times 3 = 591$ (гол.)

2) $158 \times 4 = 632$ (гол.)

$197 \times 3 + 158 \times 4 = 1223$ (гол.)

3) $591 + 632 = 1223$ (гол.)





- Арктические пустыни
- Тундра и лесотундра
- Тайга

- Смешанные и широколиственные леса
- Лесостепи
- Степи

- Полупустыни
- Пустыни
- Горные области с высотной поясностью

РЕШАЕМ УСТНО!

Самая широкая часть тайги 2000 км, самая узкая часть – 500 км. Во сколько раз узкая часть тайги меньше широкой?

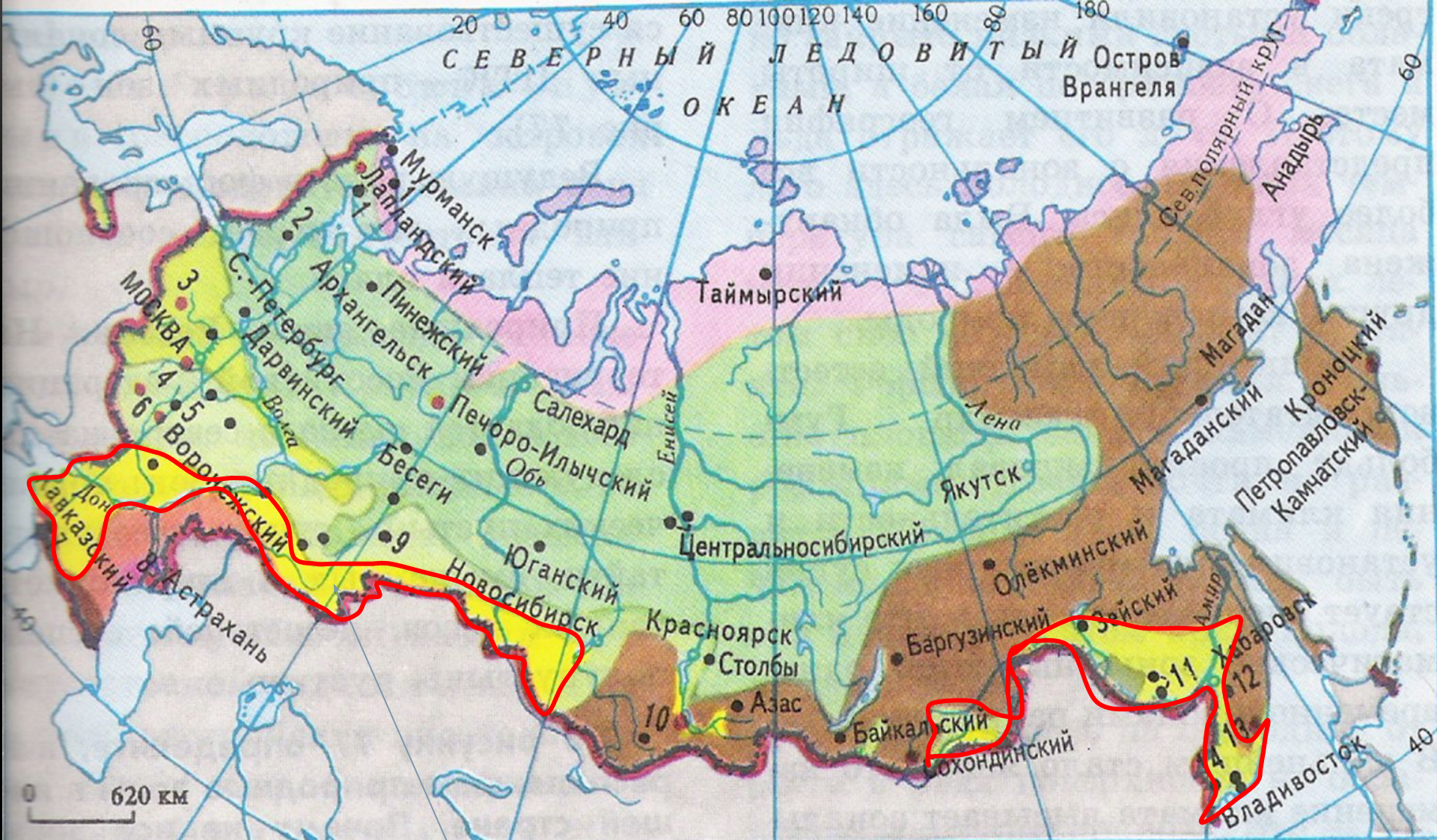
$$2000 : 500 = 4 \text{ (раз)}$$

ЗАПИШИТЕ ПРЕДЛОЖЕНИЕ

В тайге живут разнообразные животные:



И



- Арктические пустыни
- Тундра и лесотундра
- Тайга

- Смешанные и широколиственные леса
- Лесостепи
- Степи

- Полупустыни
- Пустыни
- Горные области с высотной поясностью

ОСОБЕННОСТИ СТЕПНОЙ ЗОНЫ:

- Для степной зоны характерны жаркое лето и холодная зима
- Часто дуют сильные ветры – суховеи и пыльные бури
- Осадки выпадают в виде коротких , но сильных ливней

ТЕСТ

I. В какой строчке во всех словах пропущена буква Е?

1. б_жать, цв_сти, ч_рнеть
2. б_лить, б_леть, с_жать
3. св_стеть, к_петь, св_тить
4. вр_дить, в_зять, р_бить

II. Сколько будет $2+2\cdot 2$?

1. 8
2. 10
3. 18
4. 12
5. 14
6. 16
7. 6

III. В какой строчке все имена существительные стоят в родительном падеже?

1. На востоке, по площади, у Коли
2. В апреле, в роще, к реке
3. От ёлки, без дороги, с крыши

IV. Площадь прямоугольника со сторонами 5 см и 6 см равна:

1. 22 см^2
2. 22 см^2
3. 32 см^2



ПРОВЕРЬ!

173 513

КОЛИЧЕСТВО ЛЮДЕЙ, ПРОЖИВАЮЩИХ В
НАШЕМ РАЙОНЕ И ГОРОДЕ.

ГЛАВНЫЙ ВОПРОС УРОКА

КАКОЙ ПРЕДМЕТ ВАЖНЕЕ?



**Все науки хороши –
выбирай на вкус!**

РЕФЛЕКСИЯ



