


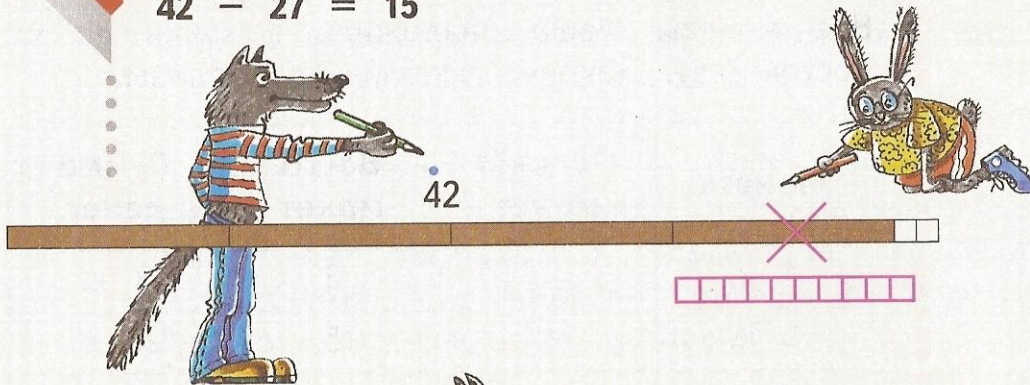
«Начальная школа 21 века»  
Математика 2 класс

# Вычитание двузначных чисел (общий случай)



Баранник Ирина Алексеевна  
Учитель начальных классов  
МБОУ СОШ №12  
Г. Белая Калитва п.Коксовый  
Ростовской области

1. Как Заяц и Волк выполняли действия?  
 $42 - 27 = 15$



$\begin{array}{r} \cdot 10 \\ 42 \\ - 27 \\ \hline 15 \end{array}$	$\begin{array}{r} \cdot 10 \\ 57 \\ - 48 \\ \hline 9 \end{array}$	$\begin{array}{r} \cdot 10 \\ 60 \\ - 57 \\ \hline 3 \end{array}$
--	---	---
















7. Спортсмен должен пробежать 100 м. Он уже пробежал 52 м. Сколько метров ему осталось пробежать?

КАРТОЧКА-ПОМОЩНИЦА















11. На завтрак детям приготовили 25 порций манной каши. После завтрака нетронутыми остались 8 порций. Сколько порций манной каши съели дети?

Выбери верное решение.

$$25 - 8 = 7 \qquad 25 + 8 = 33$$

$$25 - 8 = 17$$







13.

Рассмотри примеры. Понаблюдай, как в столбцах изменяются числа. Как изменяются результаты: увеличиваются или уменьшаются и на сколько? Выскажи предположение об ответах в остальных примерах.

$$15 + 10 = 25$$

$$50 - 10 = 40$$

$$15 + 20$$

$$50 - 15$$

$$15 + 30$$

$$50 - 20$$

$$15 + 40$$

$$50 - 25$$

$$15 + 50$$

$$50 - 30$$

$$15 + 60$$

$$50 - 35$$

**Проверь своё предположение:** выполни вычисления.






## ВСПОМИНАЕМ ПРОЙДЕННОЕ

14\*.

Длина комнаты 5 м, а ширина 3 м 50 см.  
Подойдёт ли для этой комнаты ковёр, длина каждой стороны которого 4 м?





# Физминутка





















































Молодцы!



15. Увеличь: 30 на 10, 40 на 20, 50 на 30.  
Уменьши: 70 на 50, 60 на 40, 50 на 30.  
На сколько 20 больше 19; 30 больше 29;  
40 больше 39?  
На сколько каждое из чисел 45, 58, 95 больше 10?





16.



В парке поставили 15 синих и 9 зелёных скамеек. Сколько скамеек поставили в парке?

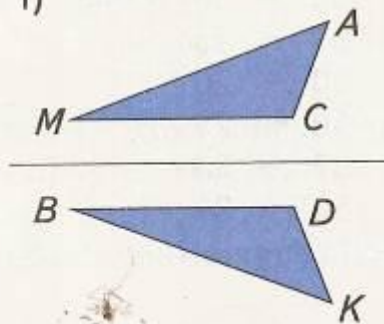
Сколько действий надо выполнить, чтобы решить задачу? Измени текст так, чтобы задача решалась двумя действиями.



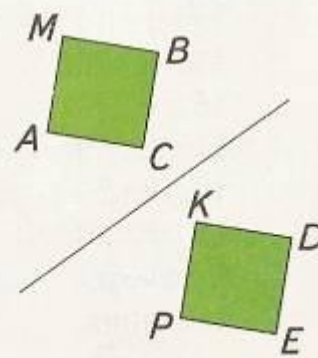


17. Скопируй рисунки на кальку. Докажи, что пары фигур на чертеже симметричны относительно оси. Назови пары симметричных вершин и сторон многоугольников.

1)



2)





18\*.

На рыбалку пошли 12 ребят. Мальчиков среди них было на 4 больше, чем девочек. Сколько девочек и сколько мальчиков пошли на рыбалку?

Реши задачу подбором.



19. Сравни попарно числа: 38, 64, 70.  
Составь высказывания со словом *больше* и  
изобрази их с помощью стрелок.





20. У Маши есть 3 десятка открыток. Подруга подарила ей ещё 6 открыток. Сколько открыток стало у Маши?

Катя решила задачу так:  $3 + 6 = 9$ .

Юра решил задачу так:  $10 + 6 = 16$ .

В чём ошибка каждого из них?

Запиши правильное решение задачи.

21. Вычисли.

$35 + 55$

$62 + 18$

$41 + 34 - 34$

$29 + 11$

$77 + 13$

$53 + 29 + 0$

$17 + 71$

$52 + 48$


$37 + 46 - 0$


$39 + 39$

$46 + 18$

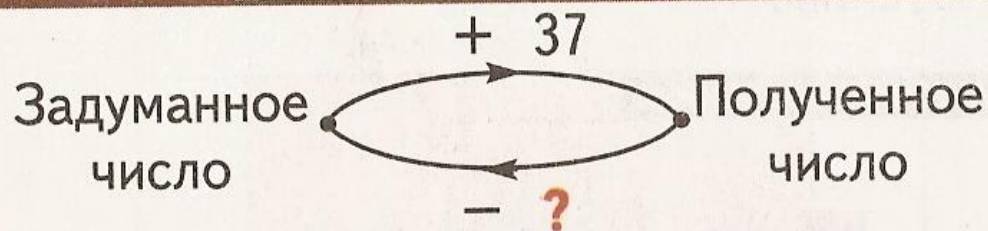
$27 - 16 + 16$



22.  Какое из трёх чисел является результатом сложения двух других? Запиши равенство.  
52, 37, 15.      12, 78, 90.

23.  Задумали число и к нему прибавили 37. Сколько нужно вычесть из полученного числа, чтобы снова получить задуманное число?

КАРТОЧКА-ПОМОЩНИЦА




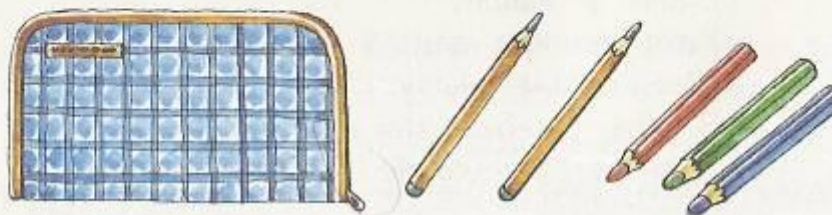
Приведи несколько примеров, подтверждающих твой ответ.







24.  У Кати в пенале 2 простых карандаша и 3 цветных. Какое наименьшее число карандашей надо взять из пенала, не заглядывая в него, чтобы среди них оказался: хотя бы один простой карандаш; хотя бы один цветной карандаш?



25. Отец и сын ловили рыбу. Отец поймал 13 окуней и 5 карасей, а сын — 6 окуней и 7 карасей.
- Кто поймал больше окуней и на сколько?
- Кто поймал меньше карасей и на сколько?
- Сколько рыб поймал каждый?
- На сколько меньше рыб поймал сын, чем отец?
- Каков общий улов отца и сына?

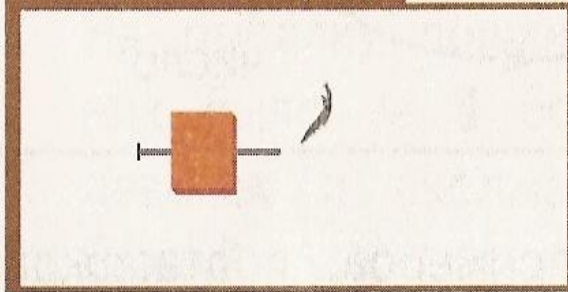




26.

Нарисуй цепочку из 9 бусин двух цветов. В этой цепочке после каждой красной квадратной бусины следуют две зелёные круглые бусины.

КАРТОЧКА-ПОМОЩНИЦА



# Источник

Физминутка:Королёва Ирина Николаевна

<http://wallbox.ru/download/25680/1920x1080/>

<http://www.artleo.com/download/3524/1920x1080/>

<http://www.fotokanal.com/images/27/krasnaya-pugovica.jpg>

<http://www.fotokanal.com/images/66/wolf.jpg>

<http://smayli.ru/jivotniea.html>

<http://acidic-gif.narod.ru/gif/animals/elep/elep4.gif>

[http://cool-pictures.su/photo/animacija/foto\\_animashki/prikolnyj\\_utenok/12-0-14174](http://cool-pictures.su/photo/animacija/foto_animashki/prikolnyj_utenok/12-0-14174)

<http://smayli.ru/smile/jivotniea-1336.html>

<http://justclickit.ru/other/anim.php?str=50>

<http://justclickit.ru/other/anim.php?anim=155>

