

Урок математики в 4 классе по теме: «**Диаграммы**»

**Диаграмма –
графическое
изображение информации**

Статья расхода	Сумма, р
Питание	5000
Жилье	2500
Одежда	2000
Хоз. нужды	2000
Развлечения	1000
Транспорт	500
Школа	1000

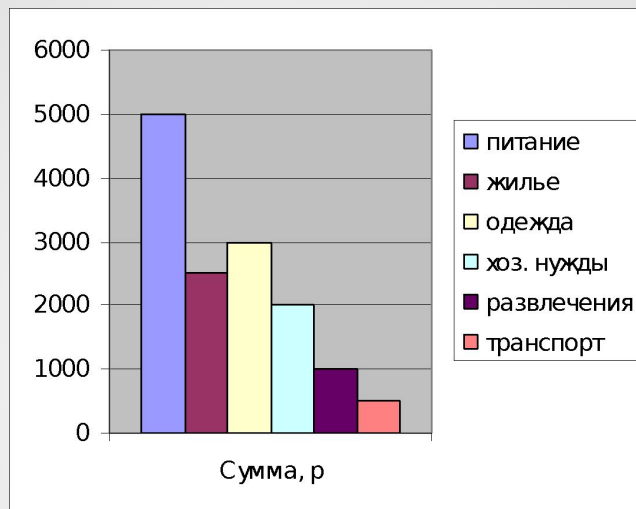
Внимательно рассмотрите таблицу, на ней показан бюджет семьи за месяц, постарайтесь рассказать, о том, что вы видите увидели

Эти показания можно изобразить с помощью диаграмм.

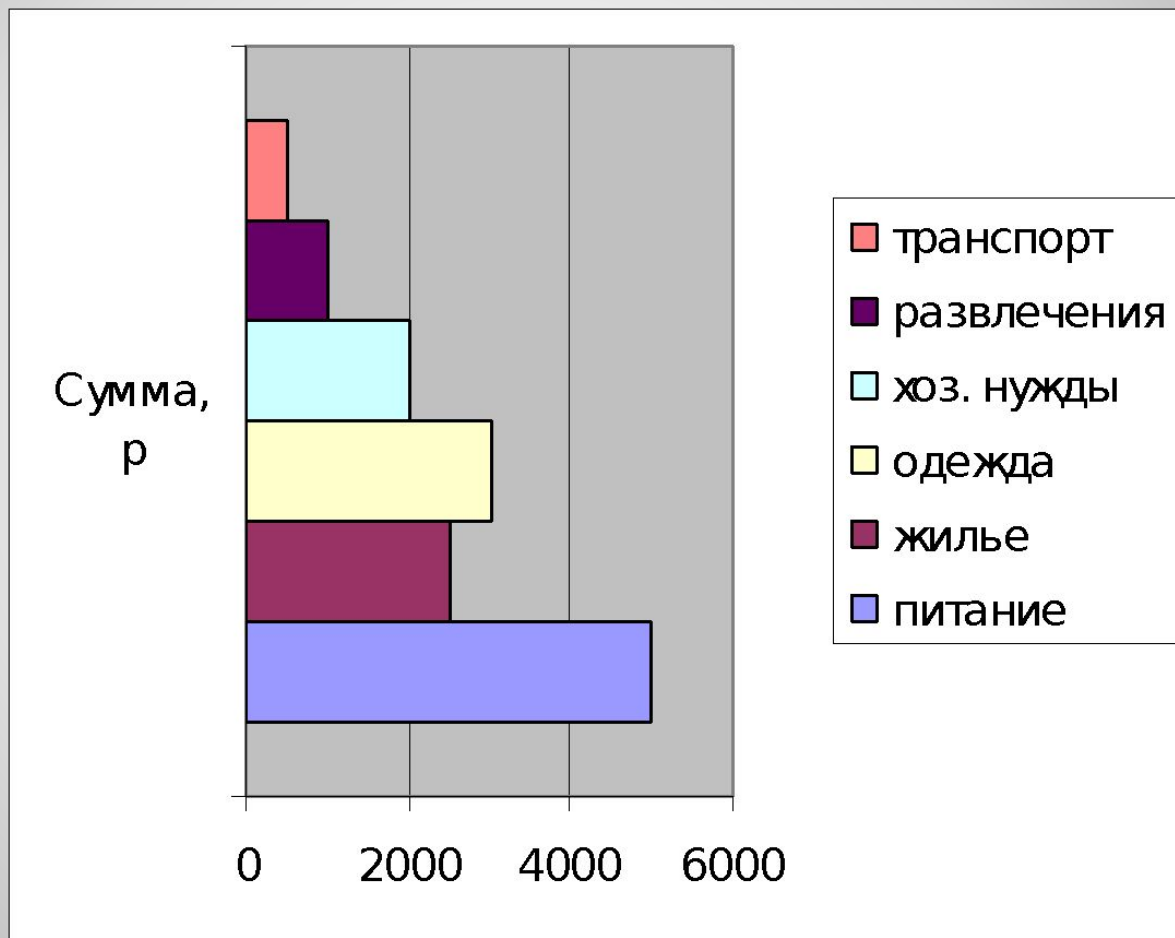
Диаграммы бывают: столбчатые, линейные, круговые, конические, цилиндрические

Распределение расходов в семье из 3 человек

С
Т
О
Л
Б
Ч
А
Т
А
Я

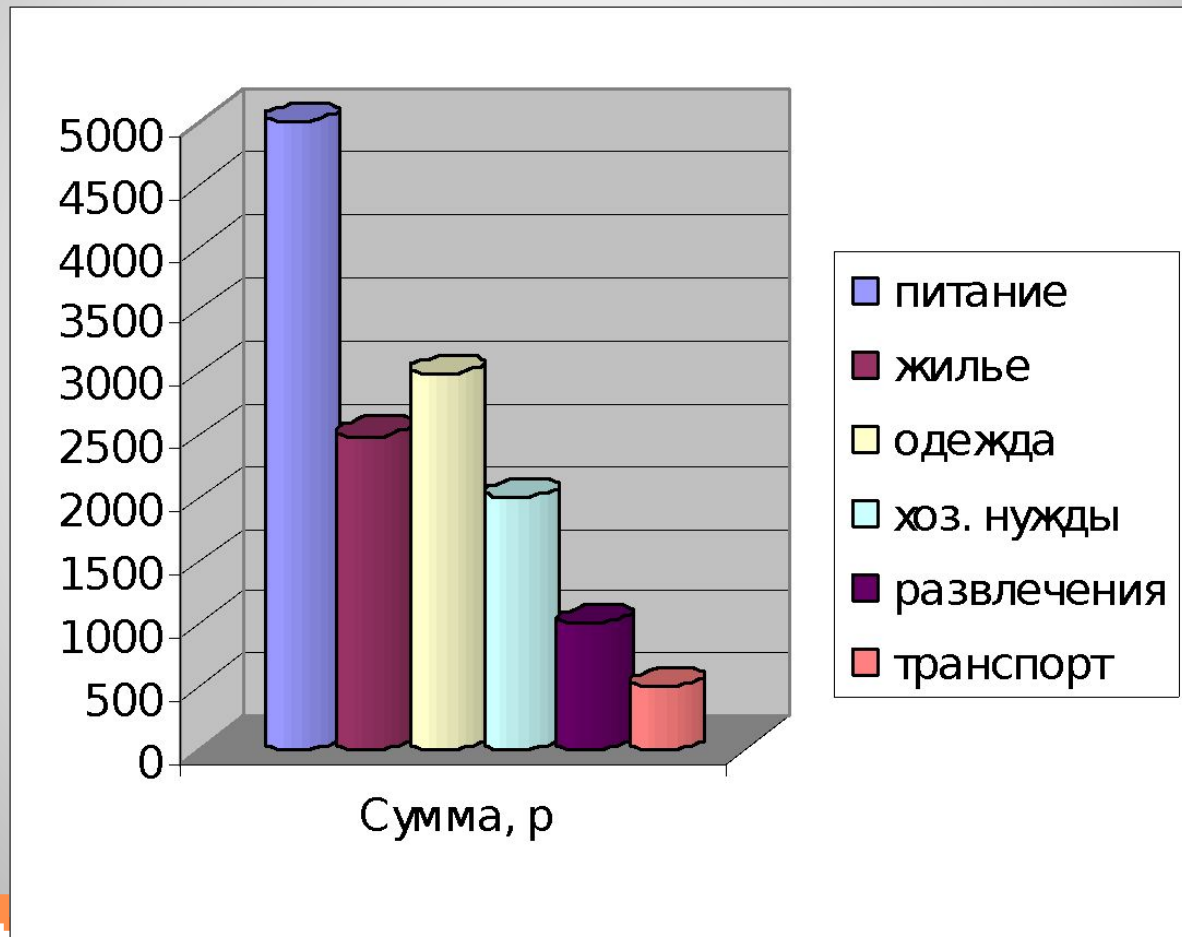


Л
И
Н
Е
Й
Н
А
Я

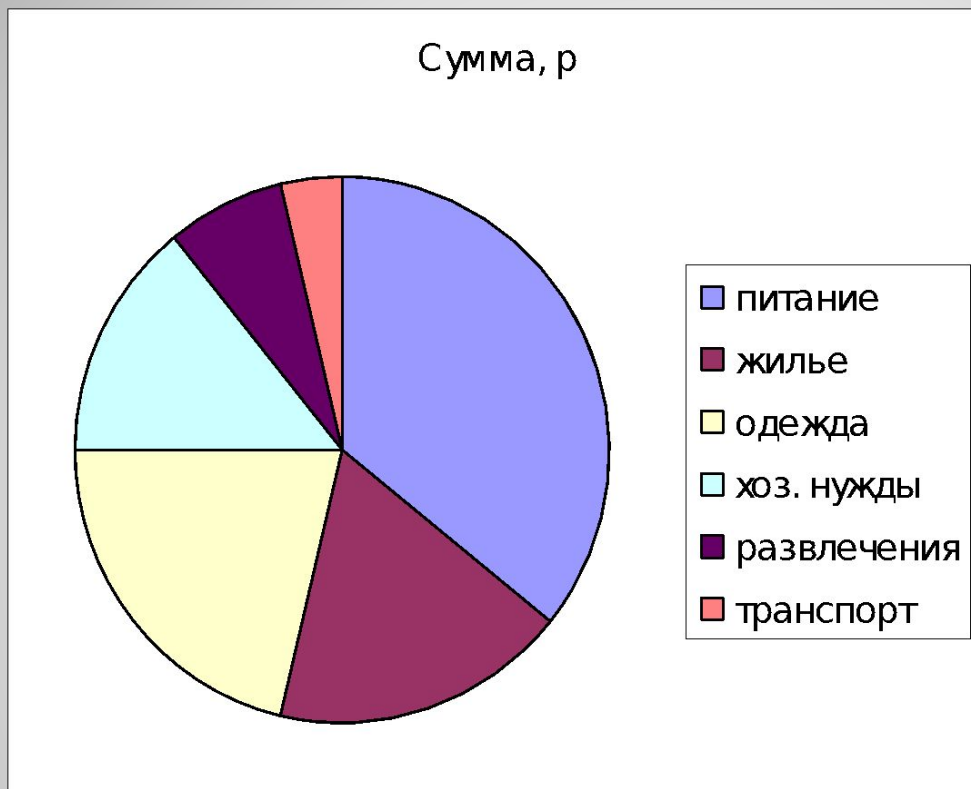


Распределение расходов в семье из 3 человек

Ц
И
Л
И
Н
Д
Р
И
Ч
Е
С
К
А
Я



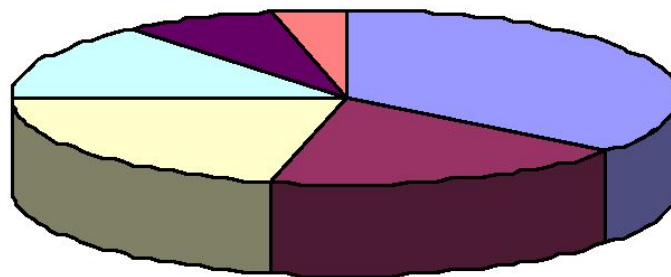
Распред
Я



Распределение расходов в семье из 3 человек

К О
Р Б
У Ъ
Г Е
О М
В Н
А А
я я

Сумма, р

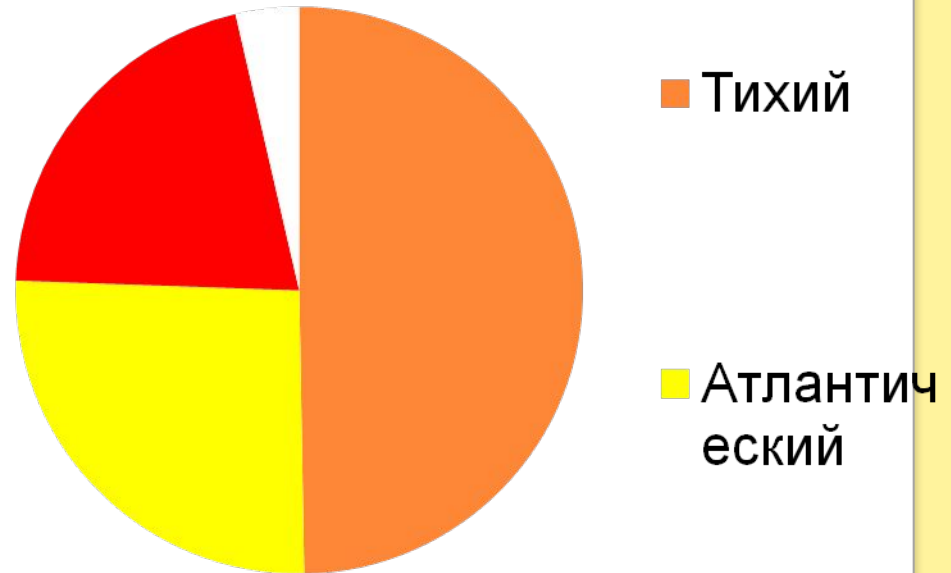


- питание
- жилье
- одежда
- хоз. нужды
- развлечения
- транспорт

Распределение

Диаграмма площадей океанов

Название океана	Пл-дь млн. км.
Северный Ледовитый	13
Индийский	75
Атлантический	93
Тихий	179



Выполните в тетради

Составьте столбчатую диаграмму по следующим данным.

Реки России	Волга	Москва	Ока	Лена	Нева	Енисей	Дон
Длина, км	3530	473	1500	1440	74	3487	1870

Реки Республики Коми	Вашка	Мезень	Сысола	Вымь	Вычегда	Луза	Печора
Длина, км	605	996	487	499	1130	574	1809

Выполните в тетради

- Составьте круговую диаграмму «Города Республики Коми»:

Название города				
Количество населения				

Спасибо за урок!

