

**Подготовил
Учитель нач. классов ГБОУ СОШ
№ 501
Маркова Е. К.**



Классная работа

16.1
2


8

**Цифра 8 в виду как игрушка -
Неваляшка-погремушка.
Не удариться ей о землю.
Всем понятно - это...**



УСТНЫЙ СЧЕТ





**Расположи числа в порядке
возрастания**

85

12

25

49

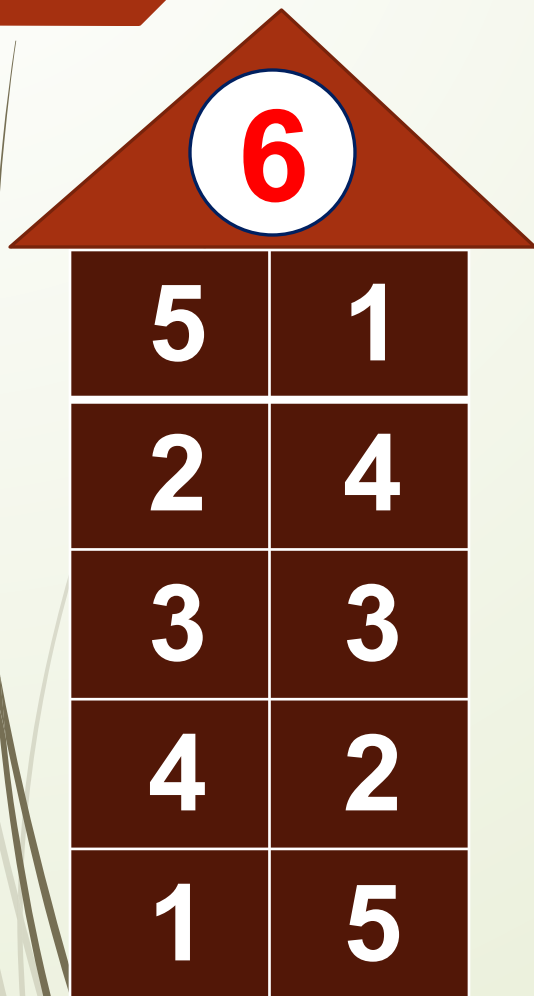
36

61

99


12, 25, 36, 49, 61, 85, 99

Засели жильцов в домики




A house with a red roof and a white circle containing the number 6. The body of the house is a 5x2 grid of dark red cells.

5	1
2	4
3	3
4	2
1	5



A house with a red roof and a white circle containing the number 8. The body of the house is a 7x2 grid of dark green cells.

1	7
6	2
3	5
4	4
5	3
2	6
7	1



A house with a red roof and a white circle containing the number 7. The body of the house is a 7x2 grid of dark brown cells.

1	6
5	2
3	4
3	4
5	2
1	6

Дополни до круглого числа

$$26 + 4 = 30$$

$$38 + 2 = 40$$

$$15 + 5 = 20$$

$$73 + 7 = 80$$

$$49 + 1 = 50$$

$$54 + 6 = 60$$

$$67 + 3 = 70$$

$$82 + 8 = 90$$

$$21 + 9 = 30$$

$$95 + 5 = 100$$



Найдите значения

выражений

$$32 + 2 =$$

$$13 + 20 =$$

$$40 - 7 =$$

$$53 - 20 =$$

$$x + 3 = 33$$



УРАВНЕНИЕ

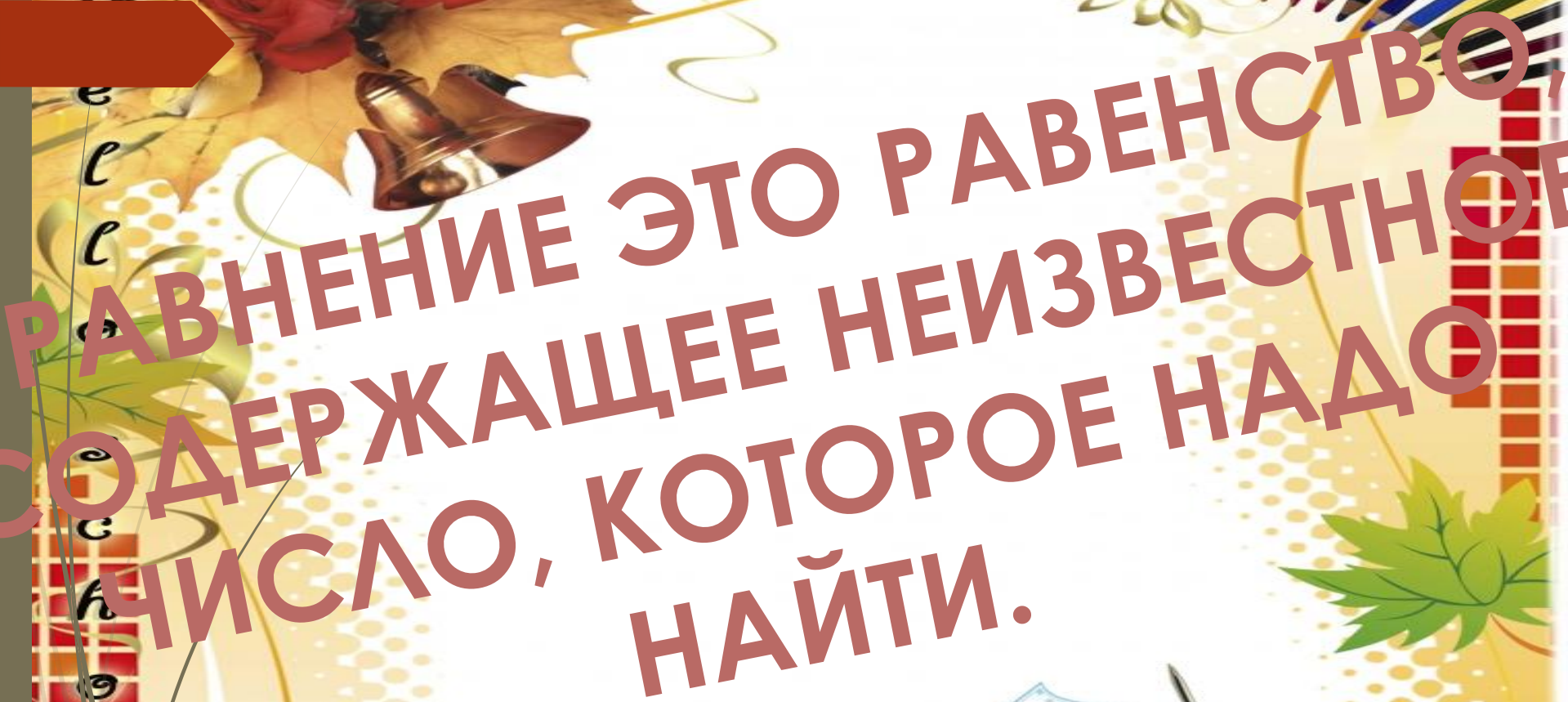

$$\dots \rightarrow 4 = 6$$

$$2 + \dots = 8$$


$$\dots + 3 = 7$$

$$9 - \dots = 5$$





РАВНЕНИЕ ЭТО РАВЕНСТВО,
СОДЕРЖАЩЕЕ НЕИЗВЕСТНОЕ
ЧИСЛО, КОТОРОЕ НАДО
НАЙТИ.



$x + 4 =$
 12

-ЭТО

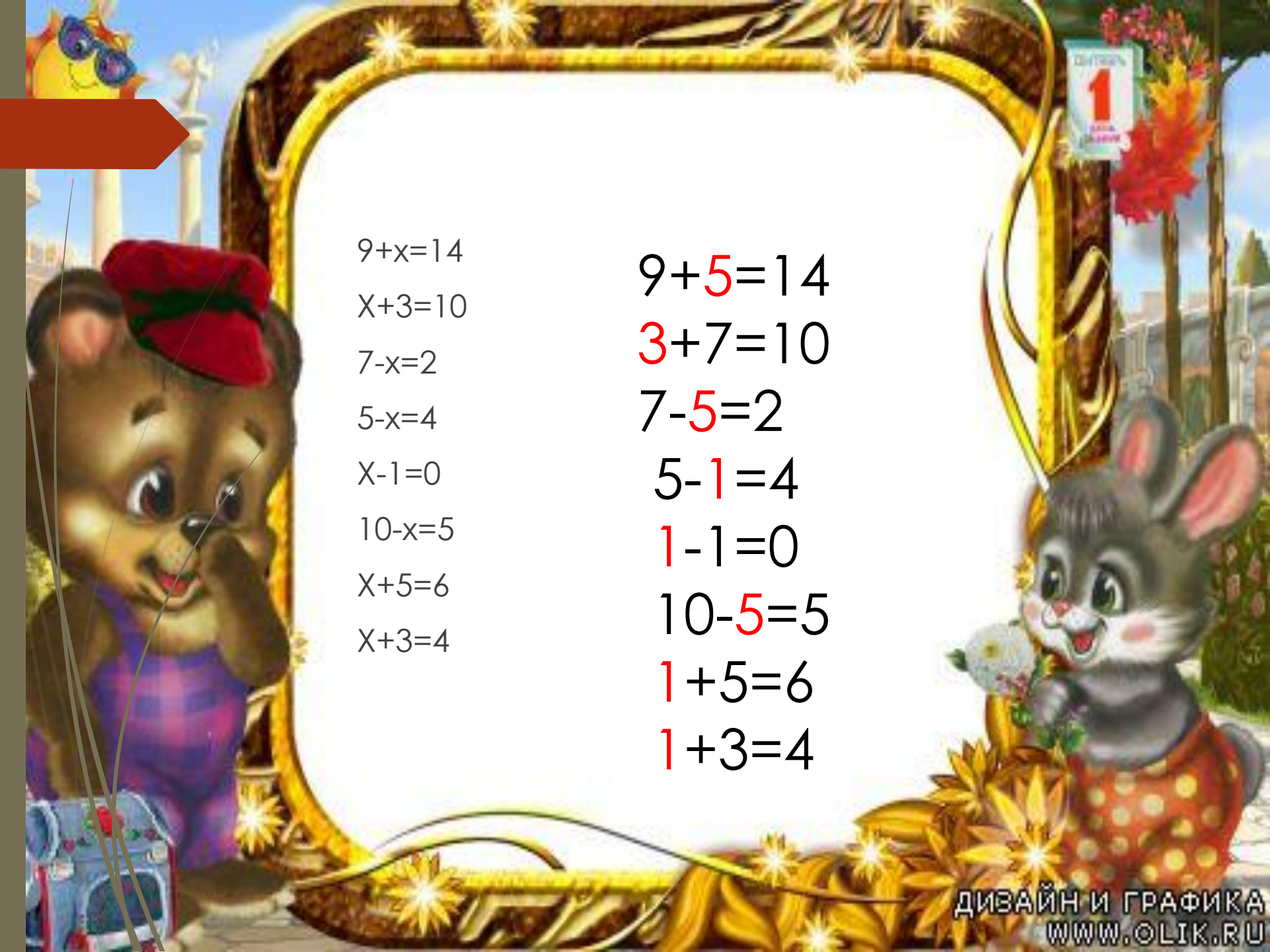
уравнение

Проверка

а:

$$8 + 4 = 12$$

$$12 = 12$$


$$9+x=14$$

$$x+3=10$$

$$7-x=2$$

$$5-x=4$$

$$x-1=0$$

$$10-x=5$$

$$x+5=6$$

$$x+3=4$$

$$9+5=14$$

$$3+7=10$$

$$7-5=2$$

$$5-1=4$$

$$1-1=0$$

$$10-5=5$$

$$1+5=6$$

$$1+3=4$$



C. 80 №2.

$$18+2=20$$

$$34-14=20$$

$$56-50=6$$

$$70-50=20$$

$$13-7=6$$



С 81№6

Тане.-5л.

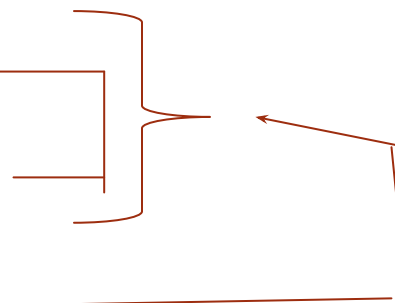
Мама.- ?л на 19л. б, чем

Папа. - ?л.

1). $5+19=24$ (г.)- мама.

2). $5+24=29$ (л.) _____



Ответ: 29 лет папе.



BEN



**Самостоятель
ная
работа
С 81
№5**



Итог урока

