

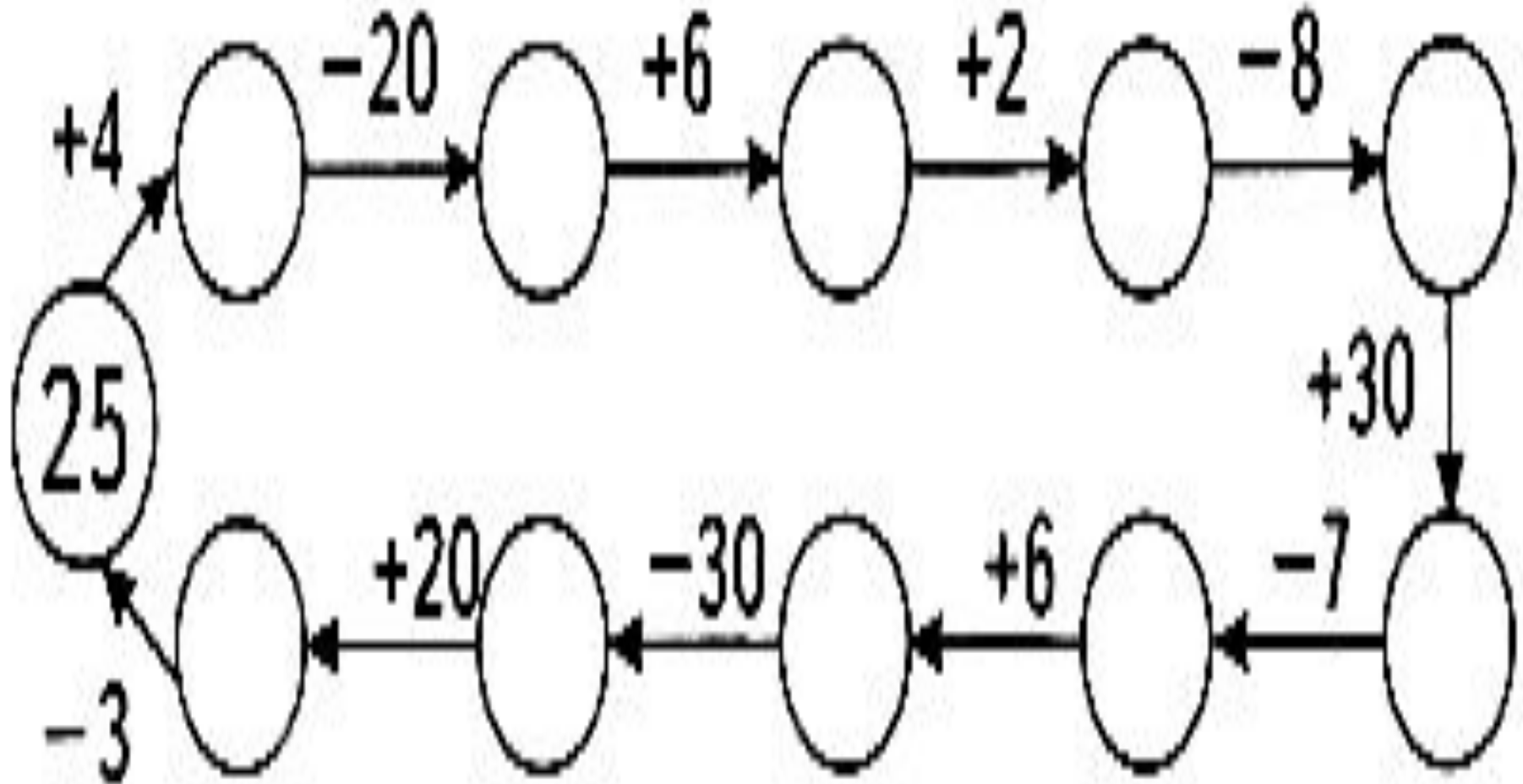


Считаем устно.

Математика-
гимнастика ума

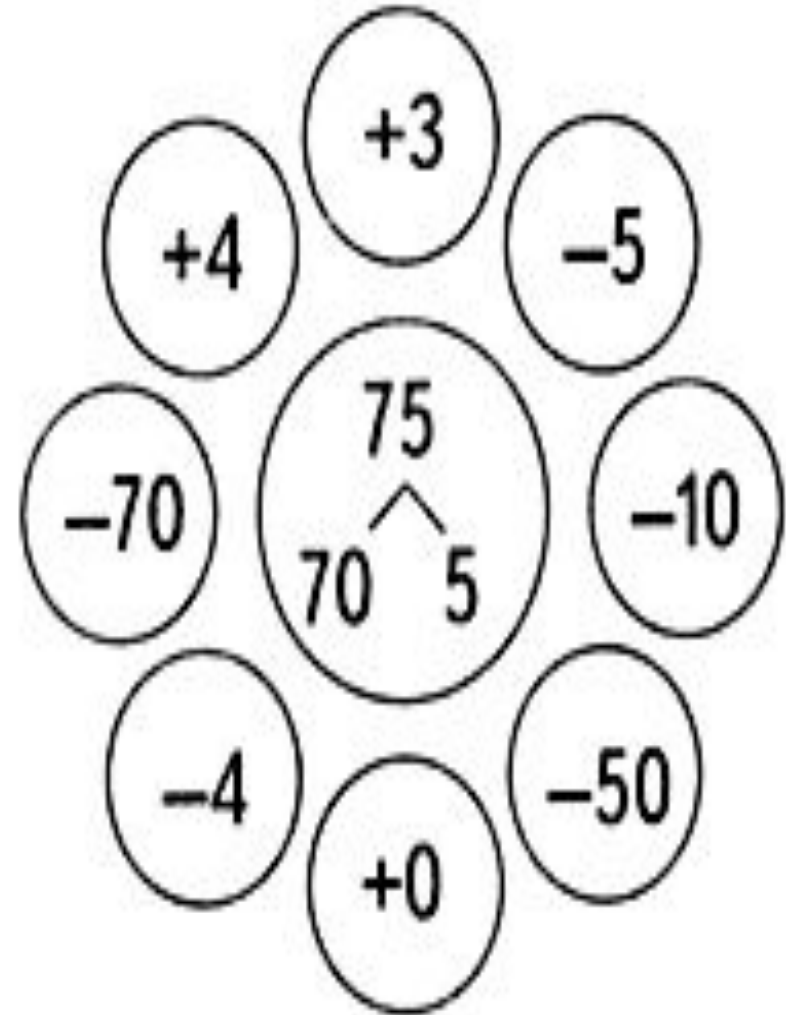
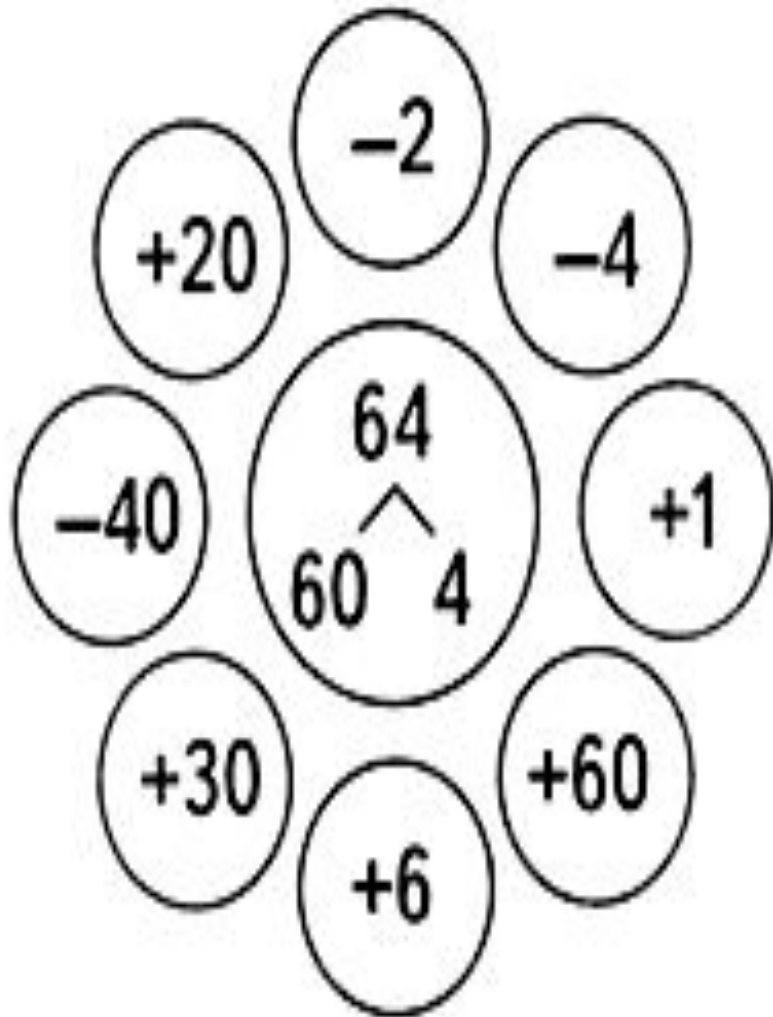


Впишите числа.





Игра «Молчанка».





4. Назовите пропущенные числа.



20, 21, 22, 23, ... , ... , ... , 27, ... , 29;

30, ... , ... , 33, ... , 35, ... , ... , ... ,



39,

... , ... , 42, ... , ... , ... , 46, ... , ... ,



... ;

... , ... , ... , ... , 54, ... , ... , ... , ... ,



... .





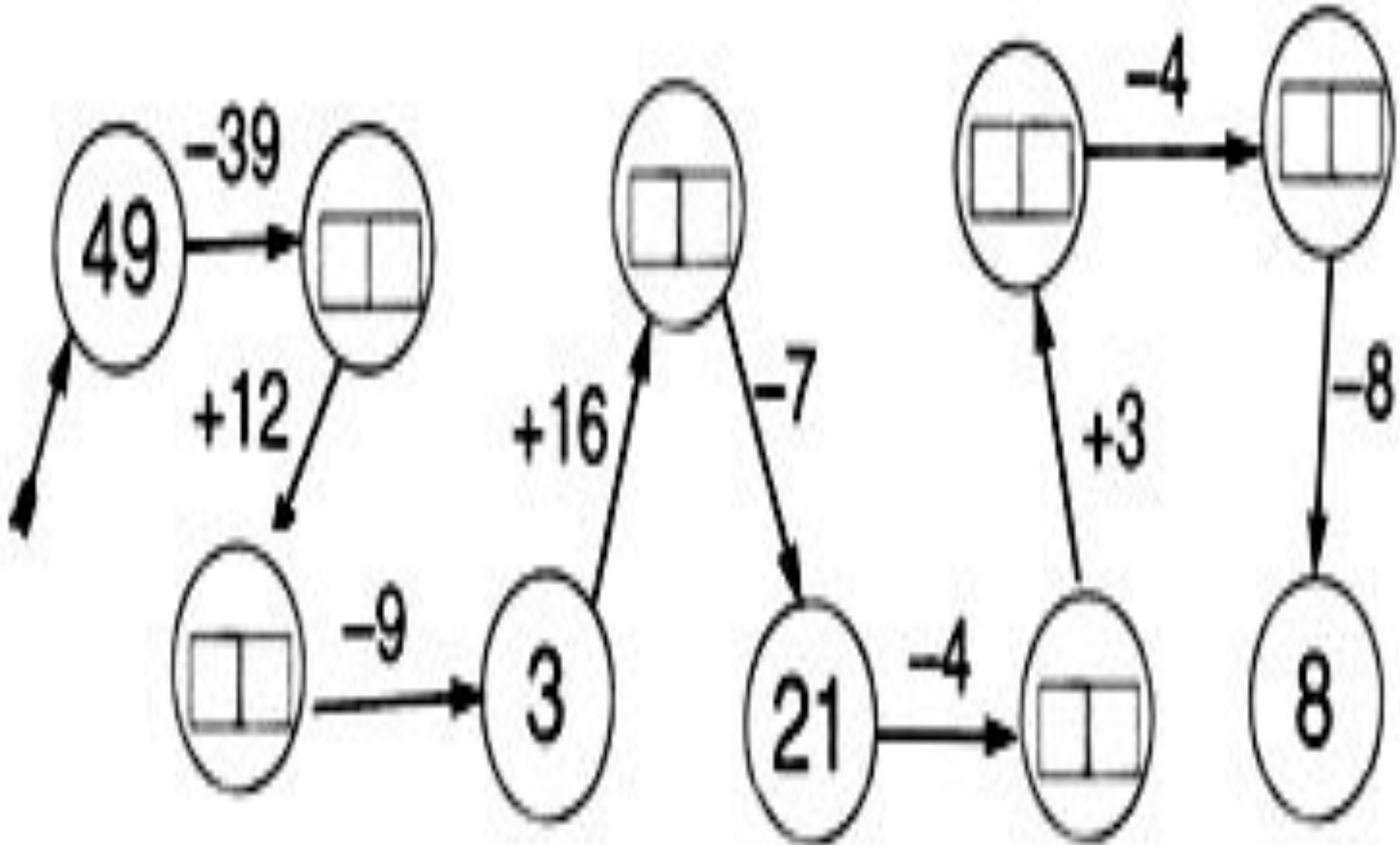
Там, где возможно,
поставьте знаки
сравнения между
числами (вместо может
стоять любая цифра).

5 ... 8 3 ... 3 7

... 2 ...



Найдите и исправьте ошибки.





Составьте по рисункам произведения и найдите их значения:

а) б)





Сравните выражения:

$$36 \cdot 3 \dots 36 + 3$$

$$29 \cdot 2 \dots 30 + 30$$

$$17 \cdot 4 \dots 17 + 17 + 17$$

$$8 \cdot 5 \dots 8 + 8 + 8 + 8$$



Поставьте числа в пустых клетках так, чтобы суммы любых трёх чисел подряд были одинаковыми.



3

5 4



7

8

4



1

9

1

3

9



Заполните таблицу.



Множитель

2

2

2

2

2

2

2

2



Множитель

5

3

8

6

4

9

7

2



Произведение





Запишите выражения и найдите их значения.



а) Из суммы чисел 47 и 18 вычесть 39.



б) Число 2 умножить на 6.



в) К разности чисел 80 и 27 прибавить 29.





Решите примеры:

$$17 - 9 + 8$$

$$32 + 32 - 47 + 77 - 69$$

$$14 - 5 + 7$$

$$27 + 33 - 24 + 59 - 72$$