




A decorative banner with a light beige background and a green border. The banner is adorned with various school supplies: two pencils in a holder on the left, a yellow triangle ruler, and two pencils in a holder on the right. Several butterflies are scattered across the banner. The background is a green field with white daisies.

## II. Үй тапсырмасын тексеру.

**1. «Бәйге» ойыны**

**2. Көзбен көр,  
есте сақта.**









# III. Жаңа сабақ.

**Тақырыбы: Шаршы және шаршының қасиеті**

**Мақсаты:**

Геометриялық фигураларды еске түсіре отырып, шаршы жайлы түсінік беру, есепті әртүрлі тәсілмен шығаруға үйрету.

Ой-өрісін, есте сақтау қабілеттерін дамыту.

Логикалық ойлау, есте сақтау қабілеттерін және зейінін дамыту. Үйренгендерін күнделікті өмірде пайдалан білуге дағдыландыру.

Оқушылардың өз ойын толық, дұрыс жеткізе білуге, тапқырлыққа, жылдамдыққа, ептілікке тәрбиелеу.





Тест жауаптары:

1. Шаршы деп қандай фигураны айтамыз?

- а) барлық қабырғалары тең тіктөртбұрышты
- ә) қарама-қарсы қабырғалары тең тіктөртбұрыш
- б) қабырғаларының ұзындығы әртүрлі

2. Қосудың қандай қасиеттері білесің?

Ауыстырымдылық, терімділік.

3. 1 сантиметрде неше миллиметр бар?

- а) 10 мм
- ә) 100 мм
- б) 1 мм

4. Бір тәулікте неше сағат бар?

- а) 30 сағ.
- ә) 24 сағ.
- б) 10 сағ.




# Шығармашылық тапсырма:






I топ: Бірдей екі шаршыдан 4 үшбұрыш қалай бөліп алуға болады?


II топ: Бірдей екі шаршыдан қалай тік төртбұрыш жасауға болады?

III топ: Неше шаршы бар?



# Семантикалық карта

Геометриялық фигуралардың қасиеттері	Төрт бұрышы бар	Бұрыштары тік	Үш бұрышы бар	Төрт қабырғасы тең	Қарама қарсы қабырғалары тең	Үш төбесі бар
						
						
						





Үйге тапсырма:

91 – бет, №3





# Бағалау

15-14 -үпай



13-9 -үпай



8-5-үпай

