

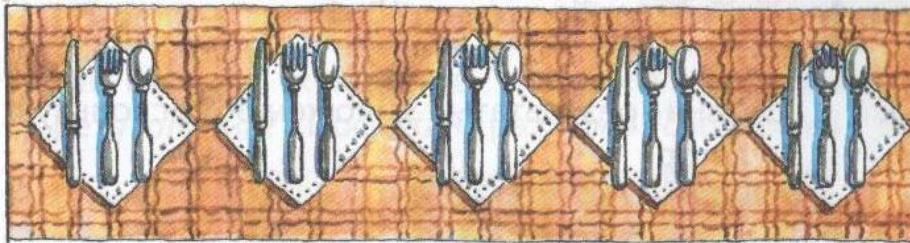
Умножение числа 3



1.



Для гостей разложили столовые приборы: ложки, ножи, вилки. Сколько на рисунке столовых приборов?



Как решил задачу Волк и как — Заяц? Кто из них быстрее справился с заданием? Почему?



3	+	3	=	6
6	+	3	=	9
9	+	3	=	12
12	+	3	=	15

Таблица умножения числа 3

3	·	1	=	3
3	·	2	=	6
3	·	3	=	9
3	·	4	=	12
3	·	5	=	15
3	·	6	=	18
3	·	7	=	21
3	·	8	=	24
3	·	9	=	27



2. Вычисли.

$3 \cdot 2$

$3 \cdot 7$


$3 \cdot 9$

$3 \cdot 6$

$3 \cdot 4$

$3 \cdot 5$

КАРТОЧКА-ПОМОЩНИЦА



$3 \cdot 4 = 12$



$$\begin{array}{r} 3 \cdot \\ 4 \end{array}$$

$$\begin{array}{r} 3 \cdot \\ 8 \end{array}$$

$$\begin{array}{r} 3 \cdot \\ 2 \end{array}$$

$$\begin{array}{r} 3 \cdot \\ 7 \end{array}$$


$$\begin{array}{r} 3 \cdot \\ 5 \end{array}$$

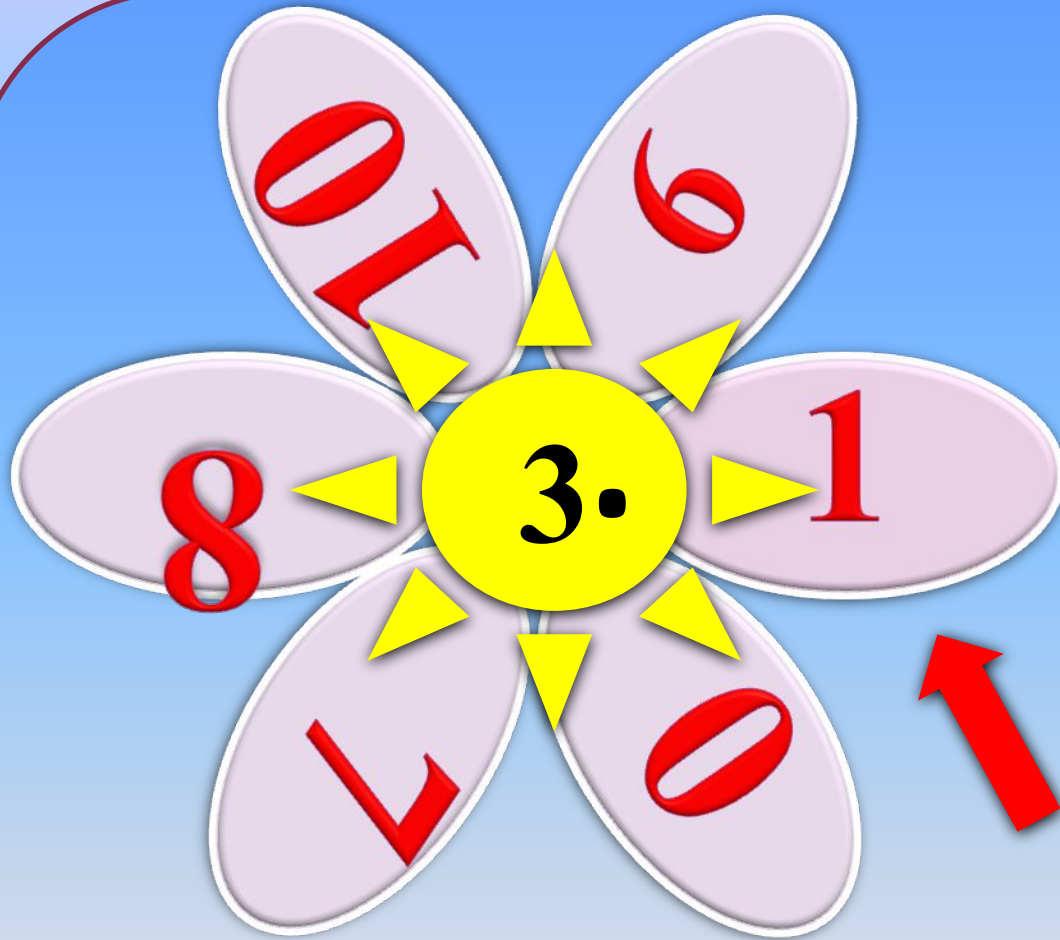
$$\begin{array}{r} 3 \cdot \\ 6 \end{array}$$

$$\begin{array}{r} 3 \cdot \\ 9 \end{array}$$

$$\begin{array}{r} 3 \cdot \\ 3 \end{array}$$







7. Сколько литров сока в девяти трёхлитровых банках?



3

3

3

3

3

3

3

3

3

