

Урок



Учитель начальных классов
МБОУ «Майнский
многопрофильный лицей»
Кабанова Т.А.

Я очень люблю общаться с детьми,
помогать им в учёбе, люблю, когда дети
учатся, сам люблю учиться с Дядей
Фёдором.

Он – очень умный и много знает. Дядя
Фёдор,
знает, что значит учиться, как и вы.



Посмотрите внимательно на все эти числа.

Как называются эти числа?

Что вы умеете делать с двузначными числами?
Сегодняшний урок и будет посвящен действиям
с двузначными числами.



45 40 35 30 25

36 32 28 24 20


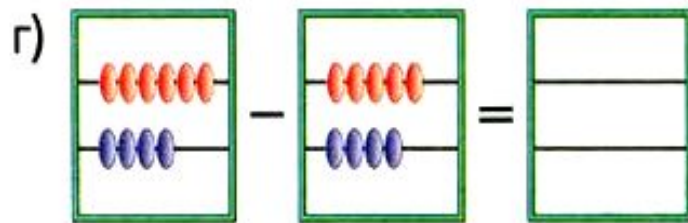
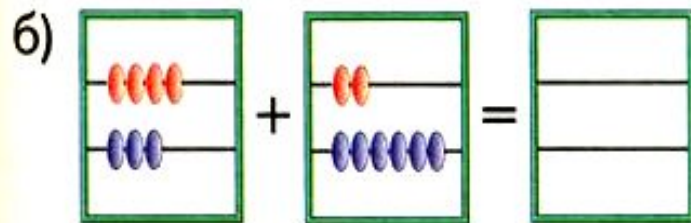
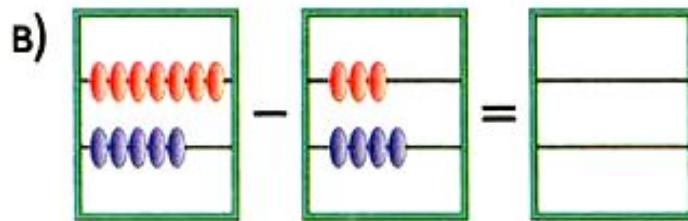
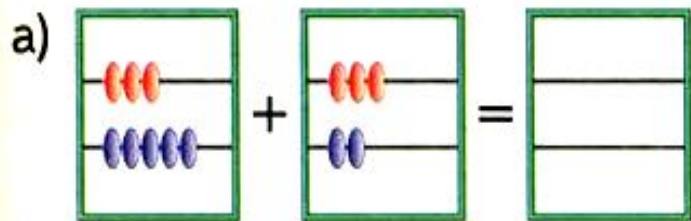
Посмотрите на первый ряд чисел, назовите наименьшее число.
Посмотрите на второй ряд чисел, назовите самое большое число.
Задуманное число больше 36 на 12. Какое число задумали?
Объясните решение примера $36 + 12$ известными вам способами.
Задуманное число меньше 35 на 12. Какое число задумали?
Какими способами можно вычесть из 35 число 12?
Вспомним правило сложения и вычитания двузначных чисел.



45 40 35 30 25

36 32 28 24 20

1. Красные косточки на верхней спице — десятки, синие косточки на нижней спице — единицы. Нарисуй ответы в тетради. Запиши равенства числами.





2. В первый день Вася подтянулся 4 раза. На следующий день на 3 раза больше. А в третий день на 5 раз больше, чем во второй день. Сколько раз Вася подтянулся за три дня?



3. Вычисли:

$$\begin{array}{r} \text{а) } 52 + 27 \\ 74 + 12 \end{array} \quad \begin{array}{r} 5 + 53 \\ 80 + 17 \end{array}$$

$$\begin{array}{r} \text{б) } \quad 66 \\ + \quad 32 \\ \hline \end{array} \quad \begin{array}{r} \quad 41 \\ + \quad 46 \\ \hline \end{array} \quad \begin{array}{r} \quad 27 \\ + \quad 70 \\ \hline \end{array}$$

$$\begin{array}{r} \text{в) } 76 - 35 \\ 52 - 41 \end{array} \quad \begin{array}{r} 25 - 13 \\ 49 - 22 \end{array}$$

$$\begin{array}{r} \text{г) } \quad 67 \\ - \quad 52 \\ \hline \end{array} \quad \begin{array}{r} \quad 85 \\ - \quad 35 \\ \hline \end{array} \quad \begin{array}{r} \quad 96 \\ - \quad 76 \\ \hline \end{array}$$

4. Буква С обозначает сумму чисел А и В: $A + B = C$. Заполни пропуски в таблице.

A	43	56	73		14	42		37	63	
B	26	21		34	55		35	61		26
C			85	67		84	78		94	56





5. а) Человек весит 67 кг, а чемодан 12 кг.

Сколько весит человек вместе с чемоданом?

б) Другой турист с чемоданом весит 98 кг.

А без чемодана он весит 76 кг. Сколько весит чемодан?

в) Чемодан весит 28 кг. Из него вынули гири, и он стал весить 14 кг. Сколько весят гири?

г) Пустой чемодан весит 2 кг, а полный 18 кг. Сколько весит содержимое чемодана?





6. Игра. Кто быстрее прочтёт зашифрованное слово?

Шифр



А	В	Р	О	Б	Н	Т	С
$31 + 22$	$12 + 40$	$25 + 25$	$31 + 24$	$84 - 30$	$88 - 37$	$79 - 21$	$69 - 12$

1-й игрок

54	53	50	58	55

2-й игрок

51	55	57	55	52



7. а) Какие числа можно прибавить к числу 6 так, чтобы сумма была меньше 10? Выпиши все такие суммы.

$$6 + 1 = 7 \quad 6 + \dots = \dots$$

- б) Вместо квадратика можно поставить только одну цифру. Придумайте несколько равенств для каждого случая.

$$5 + \blacksquare = \blacksquare \quad \blacksquare + 8 = \blacksquare \quad 2 + \blacksquare = \blacksquare$$

$$\blacksquare + \blacksquare = 2$$

- в) Вставь недостающие цифры. Постарайся найти все возможные способы для каждого равенства.

$$37 + 2\blacksquare = 5\blacksquare \quad 54 + 1\blacksquare = 6\blacksquare \quad 8\blacksquare + 18 = \blacksquare\blacksquare$$



Список использованных источников

Изображение Матроскина:

http://pictures.ucoz.ru/photo/detskie_kartinki/personazhi_multifilmov_kot_matroskin/3-0-2140

Изображение Шарика:

http://pictures.ucoz.ru/photo/detskie_kartinki/geroi_multifilmov_pjos_sharik/3-0-2143

Изображение мамы Риммы, Дяди Фёдора и Матроскина:

http://pictures.ucoz.ru/photo/detskie_kartinki/mama_rimma_djadja_fjodor_i_matroskin_prostokvashino/3-0-2150

Изображение почтальона Печкина на велосипеде с Галчонком:

http://pictures.ucoz.ru/photo/detskie_kartinki/personazhi_multikov_pochtalon_pechkin_i_galchonok/3-0-2146

Изображение папы Димы и Шарика:

http://pictures.ucoz.ru/photo/detskie_kartinki/geroi_multifilmov_papa_dima_i_pjos_sharik/3-0-2144

Изображение Дяди Фёдора и зайца:

http://pictures.ucoz.ru/photo/detskie_kartinki/geroi_multikov_djadja_fjodor_i_zajac/3-0-2145

Изображение анимация зарядка:

http://anime.wayy.ru/photo/sport/sportivnaja_animacija_zarjadka/39-0-955

Изображения из учебника «Математика» М.И.Башмакова