



– ? штук



– 5 штук

9 штук

1 класс

ПРОСТЫЕ ЗАДАЧИ ДЛЯ УСТНОГО СЧЁТА

Автор: Ярасова Е.К., учитель начальных классов,
МАОУ «СОШ № 38», г. Сыктывкар, Республика Коми



?




?



Нахождение суммы	1	2	3	4	
Нахождение остатка	1	2	3	4	5
Нахождение слагаемого	1	2	3	4	5
Нахождение уменьшаемого	1	2	3	4	5
Разностное сравнение	1	2	3	4	5
Увеличение числа	1	2	3	4	5
Уменьшение числа	1	2	3	4	5





Было – 8 синичек
Прилетели – 3 воробья
Стало - ?

Сколько птичек стало у кормушки?


$8 + 3 = 11$ (пт.) – стало у кормушки

Ответ: 11 птичек.

На сколько синичек больше, чем воробьёв?

$8 - 3 = 5$ (с.) – на столько больше.

Ответ: на 5 синичек больше, чем воробьёв.





Вова собирал грибы в лесу...

– 8 штук



– 9 штук

?

Сколько грибов всего собрал Вова?

$8 + 9 = 17$ (г.) – всего собрал Вова.

Ответ: 17 грибов.

На сколько подосиновиков больше?

$9 - 8 = 1$ (г.) – на столько больше.

Ответ: на 1 подосиновик больше.






Мама купила пряники...

Катя – 2 штуки

Петя – 3 штуки



Сколько пряников всего съели брат с сестрой ?

$2 + 3 = 5$ (п.) – всего съели дети.


Ответ: 5 пряников.





Арбуз разрезали на
несколько кусочков ...

Митя – 4 куска
Петя – 3 штуки



**Сколько кусков арбуза всего съели
мальчики?**

$4 + 3 = 7(\text{к.})$ – арбуза всего съели дети.

Ответ: 7 кусков.




У кормушки были ...



– 3 ПТИЦЫ



– 7 ПТИЦ



Сколько воробьёв было у кормушки?

$7 + 3 = 10$ (в.) – было у кормушки

Ответ: 10 воробьёв.



Для музыкальной школы купили...



– 6 штук



9 штук



?

Сколько баянов купили для музыкальной школы?

$6 + 9 = 15$ (б.) – купили для музыкальной школы.

Ответ: 15 баянов.



На праздник приготовили...



– 10 штук



– 10 штук



Сколько жёлтых шаров приготовили на праздник?

$10 + 10 = 20(\text{ш.})$ – жёлтых приготовили

Ответ: 20 жёлтых шаров.



В саду растут ...



– 4 куста



– 2 куста



?

Сколько кустов пионов растёт в саду?

$4 + 2 = 6$ (к.) – пионов растёт в саду.

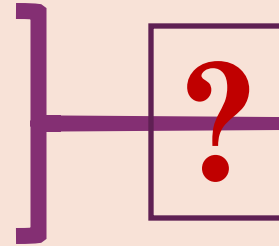
Ответ: 6 кустов пионов.






Стояли на полке...

**Света – 4 книги
Таня – столько же**




Сколько книг взяли девочки с полки?


**$4 + 4 = 8(\text{к.})$ – взяли девочки
Ответ: 8 книг.**



Подружки покупали тетради...



Катя – 6 штук



Таня – столько же

?

Сколько тетрадей купили девочки?

$6 + 6 = 12$ (т.) – купили девочки


Ответ: 12 тетрадей.





- 5 букетов

- столько же



**Сколько всего букетов тюльпанов
приготовили к празднику?**

$5 + 5 = 10$ (б.) – тюльпанов всего.

Ответ: 10 букетов.





- 7 штук



- столько же

?


Сколько всего игрушек подарили детям в детском саду?

$7 + 7 = 14$ (иг.) –всего подарили детям.

Ответ: 14 игрушек.



На стоянке остались стоять ...



- 5 штук



- 7 штук



Сколько машин осталось на стоянке?

$7 + 5 = 12$ (м.) –осталось на стоянке.

Ответ: 12 машин.



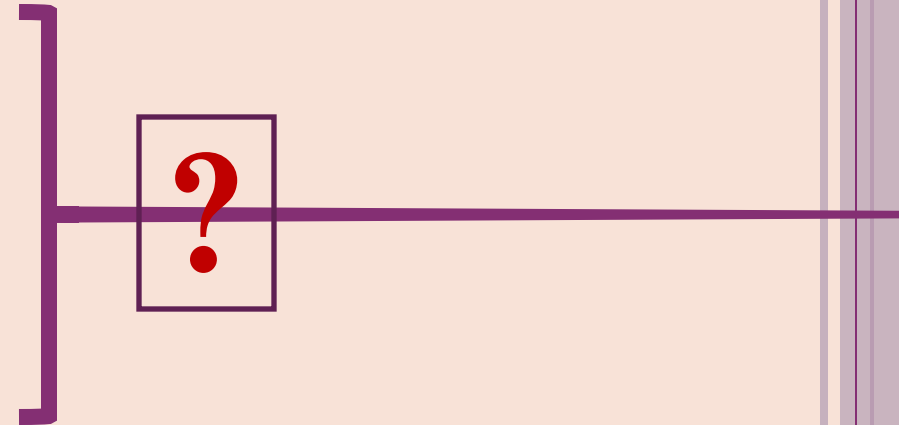
У бабушки остались ...



- 4 штуки



- 8 штук



Сколько клубков шерсти всего осталось у бабушки?

$8 + 4 = 12$ (к.) – шерсти осталось у бабушки.

Ответ: 12 клубков шерсти.



У кормушки остались ...



- 5 птичек



- 6 птичек

?


Сколько птичек всего осталось у кормушки?

$6 + 5 = 11$ (п.) –осталось у кормушки.

Ответ: 11 птичек.




В вагоне остались ...



Дети - 7 человек

Взрослые – 6 человек



Сколько человек всего осталось в вагоне трамвая?

$7 + 6 = 13$ (ч.) –осталось в вагоне трамвая.

Ответ: 13 человек.





Было – 20 страниц

Прочитала – 10 страниц


Осталось - ?

Сколько страниц осталось читать Тамаре?

$20 - 10 = 10(\text{с.})$ – осталось читать.

Ответ: 10 страниц.



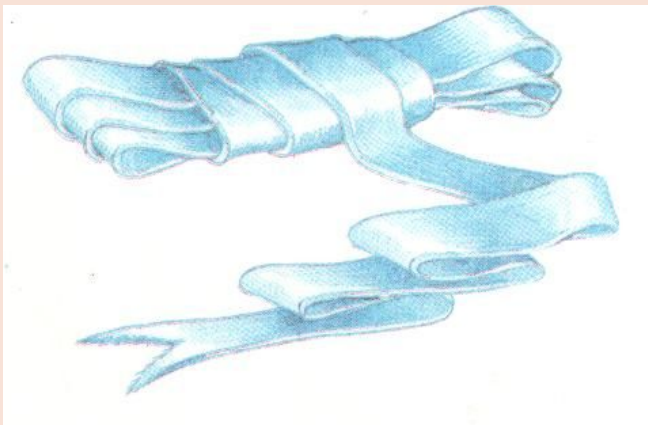


Было – 18 карандашей
Взяли – 8 карандашей
Осталось - ?

**Сколько карандашей осталось
в пенале?**

$18 - 8 = 10$ (к.) – осталось в пенале.
Ответ: 10 карандашей.






Было – 15 дм
Отрезали – 8 дм
Осталось - ?

Сколько дм ленты осталось в мотке?

$15 - 8 = 7$ (дм) – ленты осталось в мотке.

Ответ: 7 дм ленты.





Было – 12 груш

Съели – 9 груш

Осталось - ?

Сколько груш осталось в вазе?

$12 - 9 = 3(\text{г.})$ –осталось в вазе.

Ответ: 3 груши.





Было – 10 мотков

Использовали – 6 мотков

Осталось - ?

Сколько мотков шерсти осталось у бабушки?

$10 - 6 = 4$ (м.) – шерсти осталось у бабушки.

Ответ: 4 мотка шерсти.





– ? штук



– 5 штук


9 штук

Сколько синих клубков шерсти было у мамы?

$9 - 5 = 4$ (к.) – синей шерсти было у мамы.

Ответ: 4 клубка.





– ? букетов



– 6 букетов

11 букетов

Сколько букетов с тюльпанами было у продавца?

$11 - 6 = 5$ (б.) – тюльпанов было у продавца.

Ответ: 5 букетов тюльпанов.





– 5 штук



– ? штук

10 штук

Сколько мишек купили для детей?

$10 - 5 = 5$ (м.) – купили для детей.

Ответ: 5 мишек.





Дети играли во дворе ...

Девочек – 9 человек

Мальчиков – ?

19 человек

Сколько мальчиков играло во дворе?

$19 - 9 = 10$ (м.) – играло во дворе.

Ответ: 10 мальчиков.





Д. – ? ч.

М. – 10 ч.

17 человек

Сколько девочек было на горке?

$17 - 10 = 7$ (д.) – было на горке.

Ответ: 7 девочек.





У Мити была
коллекция марок ...

Подарил другу – 5 марок

Осталось – 10 марок

Было – ?

Сколько марок было в коллекции?

$10 + 5 = 15$ (м.) – было в коллекции.

Ответ: 15 марок.






Прочитала – 10 страниц
Осталось читать – столько же
Было – ?

Сколько страниц было в книге, которую читала Лена?

$10 + 10 = 20(\text{с.})$ – было в книге.

Ответ: 20 страниц.





Вышли – 8 пассажиров

Осталось – 10 пассажиров

Было – ?

Сколько пассажиров было в троллейбусе?

$8 + 10 = 18(\text{п.})$ – было в троллейбусе.

Ответ: 18 пассажиров.



На выставку – 5 рисунков
Осталось – 9 рисунков
Было – ?



**Сколько рисунков сделали ученики
класса?**

$9 + 5 = 14$ (р.) – сделали ученики класса.
Ответ: 14 рисунков.



Съели – 7 кусков
Осталось – 8 кусков
Было – ?




На сколько кусков разрезали торт?

$8 + 7 = 15(\text{к.})$ – было в торте.

Ответ: 15 кусков.




Марина нарисовала...



- 10 ЛИСТОВ



на ? больше



- 7 ЛИСТОВ

**На сколько больше листов клёна
нарисовала Марина?**

$10 - 7 = 3$ (л.) – на столько больше.


**Ответ: на 3 листа клёна больше, чем
листов осины.**



В вазе были фрукты...



- 9 штук



- 7 штук

на ? меньше

На сколько меньше груш, чем яблок было в вазе?

$9 - 7 = 2(\text{г.})$ – на столько меньше.

Ответ: на 2 груши меньше, чем яблок.





- 8 рыбок



- 10 рыбок

на ? меньше

На сколько меньше рыбок в первом аквариуме, чем во втором ?

$10 - 8 = 2(\text{р.})$ – на столько меньше.

Ответ: на 2 рыбки меньше.





- 9 дм



- 6 дм


на ? дм длиннее

**На сколько дм длиннее банное полотенце,
чем кухонное?**

$9 - 6 = 3$ (дм) – на столько длиннее.

**Ответ: на 3 дм длиннее банное полотенце,
чем кухонное.**





- 8 клубков

- 5 клубков

на ? меньше

На сколько синих клубков меньше, чем красных?

$8 - 5 = 3(\text{к})$ – на столько меньше.

Ответ: на 3 клубка синих меньше, чем красных.



Для школьной мастерской купили...



- 6 штук



- ?, на 10 штук больше

**Сколько молотков купили для
мастерской?**


$6 + 10 = 16(\text{м.})$ – купили для мастерской.

Ответ: 16 молотков.





- 3 этажа



- ?, на 10 этажей больше

Сколько этажей в жилом доме?

$3 + 10 = 13$ (эт.) – в жилом доме.

Ответ: 13 этажей.





- 6 колечек



- ?, на 4 колечка больше

Сколько колечек во второй пирамидке?

$6 + 4 = 10(\text{к.})$ – во второй пирамидке.

Ответ: 10 колечек.

Сколько колечек в двух пирамидках?

$6 + 10 = 16(\text{к.})$ – в двух пирамидках.

Ответ: 16 колечек.





– 11ч.



– ?, на 5ч. больше

Сколько мальчиков в классе?

$11 + 5 = 16$ (м.) –в классе.

Ответ: 16 мальчиков.

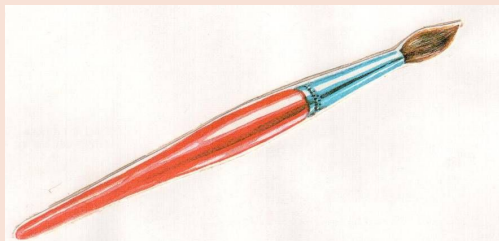
Сколько всего учеников в классе?

$11 + 16 = 27$ (уч.) –в классе.

Ответ: 27 учеников.



Для учащихся купили...



- 10 штук



- ?, на 7 штук больше

Сколько карандашей купили?

$10 + 7 = 17$ (к.) – купили детям.


Ответ: 17 карандашей.

Сколько ручек и карандашей всего?

$10 + 17 = 27$ (п.) – всего.

Ответ: 27 предметов всего.





- 12 человек



- ?, на 2 человека меньше

Сколько человек было в жёлтой палатке?

$12 - 2 = 10$ (ч.) – было в жёлтой палатке.

Ответ: 10 человек.





- 20 листов



- ?, на 8 листов меньше

Сколько листов было в тетради?

$20 - 8 = 12(\text{л.})$ – было в тетради.

Ответ: 12 листов.





- 18 штук




- ?, на 10 штук меньше

СКОЛЬКО СТОЛОВ КУПИЛИ ДЛЯ ШКОЛЫ?

$18 - 10 = 8(\text{с.})$ – купили для школы.

Ответ: 8 столов.





- 7 раз



- ?, на 3 раза меньше

Сколько раз поднял гирию Петя?

$7 - 3 = 4$ (раза) – поднял гирию Петя.

Ответ: 4 раза.



Синяя – 7 дм

Красная – ? на 2 дм короче

Какой длины красная лента?


$7 - 2 = 5$ (дм) – длина красной ленты.


Ответ: 5 дм

Какова общая длина двух лент?

$7 + 5 = 12$ (дм) – общая длина двух лент.

Ответ: 12 дм





Успехов в учёбе!



**Автор: Ярасова Евгения Кимовна, учитель начальных классов,
МАОУ «СОШ № 38», г. Сыктывкар, Республика Коми**

Данный материал предназначен для работы над разными видами простых задач в 1 классе по любому УМК. Задачи представлены в краткой форме, что позволяет развивать мыслительную деятельность, так как ученики должны составить сам текст задачи. Дополнительные вопросы к задачам позволяют «заглянуть в будущее», чем создают условия для решения составных задач. А разные вопросы к одному условию развивают гибкость мышления.