




Цифра

7

Число

7


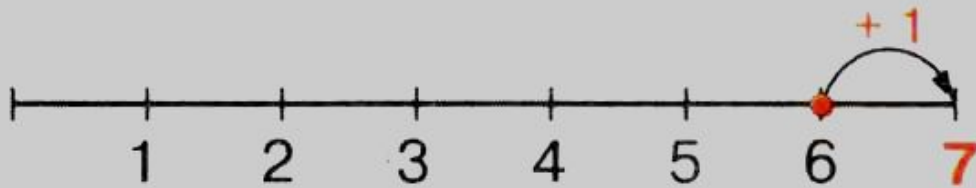
**Сколько яблок на ветках висит?  
Сколько на траве лежит?  
А сколько всего?**






**Сколько яблок съели дети?  
А сколько ещё осталось?  
А сколько было?**



1



$$6 + 1 = 7$$




*Семь — точно острая коса.  
Коси, коса, пока остра!*

*Т. Вьеру*

Какой седьмой день недели?  
Какой седьмой месяц года?

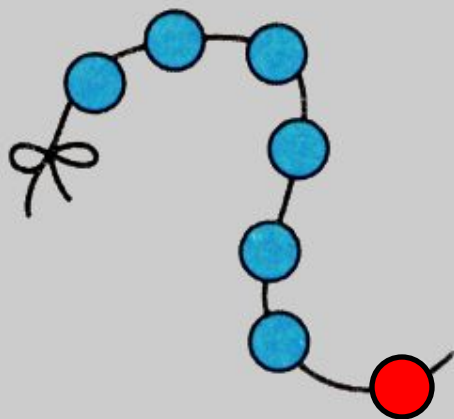
# Учимся писать 7.



# Дорисуй и допиши

3

Дополни до семи:



$$6 + \boxed{1}$$



$$\boxed{5} + \boxed{2}$$



$$\boxed{4} + \boxed{3}$$

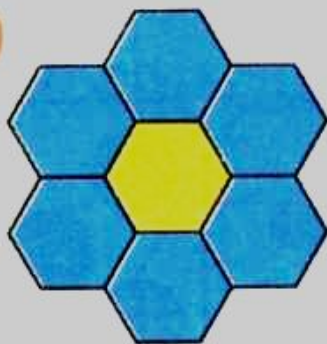




Сосчитай контуры и выбери соответствующую цифру.

# Посчитай и запиши

4

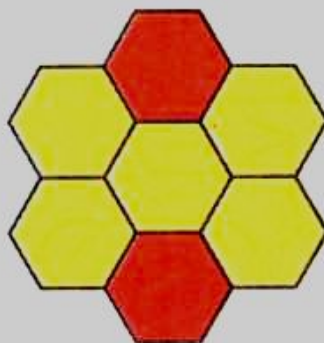


$1 + 6 = 7$

$6 + 1 = 7$

$7 - 1 = 6$

$7 - 6 = 1$

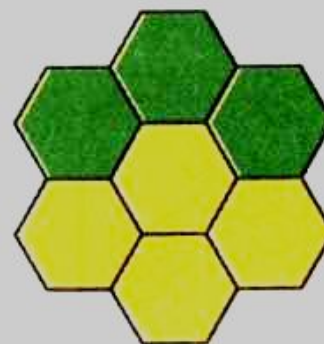


$2 + 5 = 7$

$5 + 2 = 7$

$7 - 2 = 5$

$7 - 5 = 2$



$3 + 4 = 7$

$4 + 3 = 7$

$7 - 3 = 4$

$7 - 4 = 3$







Посмотри внимательно. Кого не хватает в ряду?



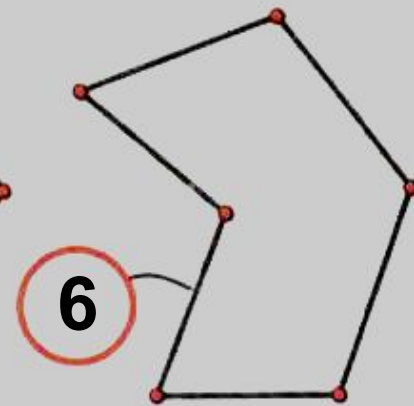
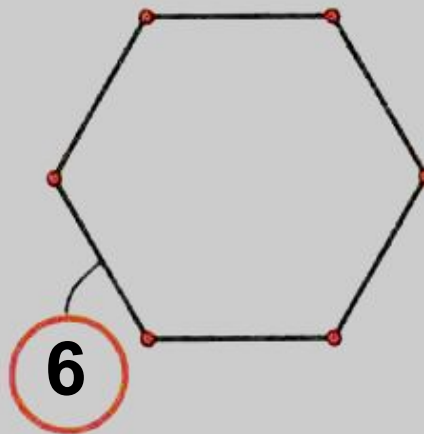
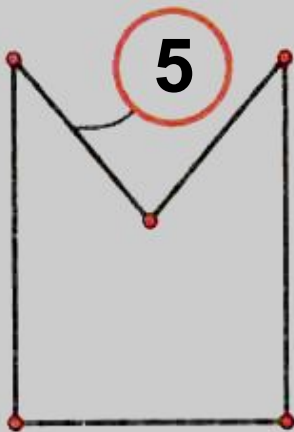
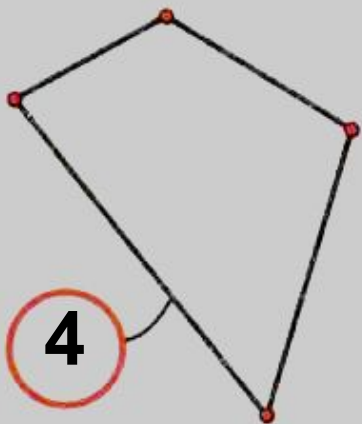
Посмотри внимательно. Чего не хватает в ряду?



Посмотри внимательно. Кого не хватает в ряду?

# Сосчитай число сторон многоугольника и назови их

5





6 Нарисуй фигуры так, чтобы изменялось три признака.

