


«Ойлан, тап» сайысы






Сайыстың кезеңдері:
I кезең: Қызыл конверт
«Логикалық есептер»
II кезең: Жасыл конверт
«Математика»
III кезең: Көк конверт
«7 жұмбақ»
IV кезең: Сары конверт
«Мақал-мәтелдер»
V кезең: Түрлі түсті
конверттер «Ұйқасын тап»




Топтардың таныстыруы.



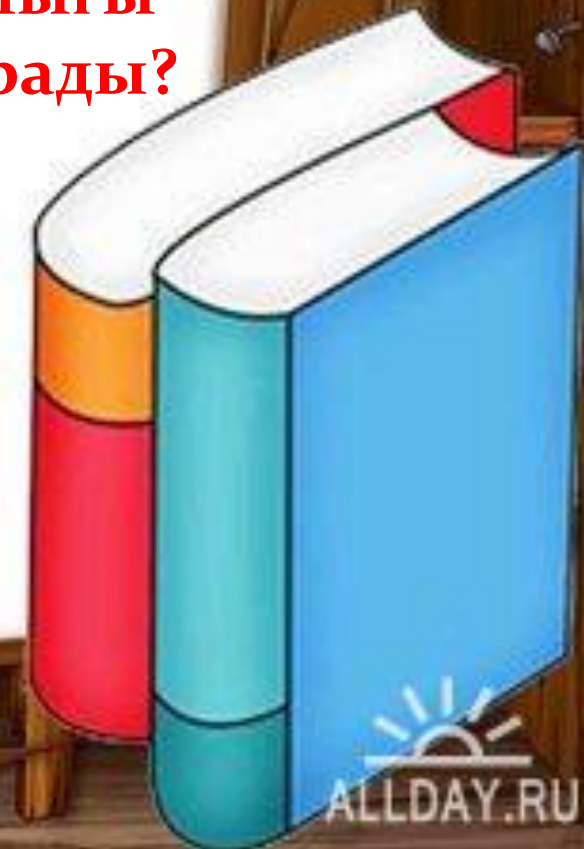
1 - айналым.
Қызыл конверт
«Логикалық
есептер»

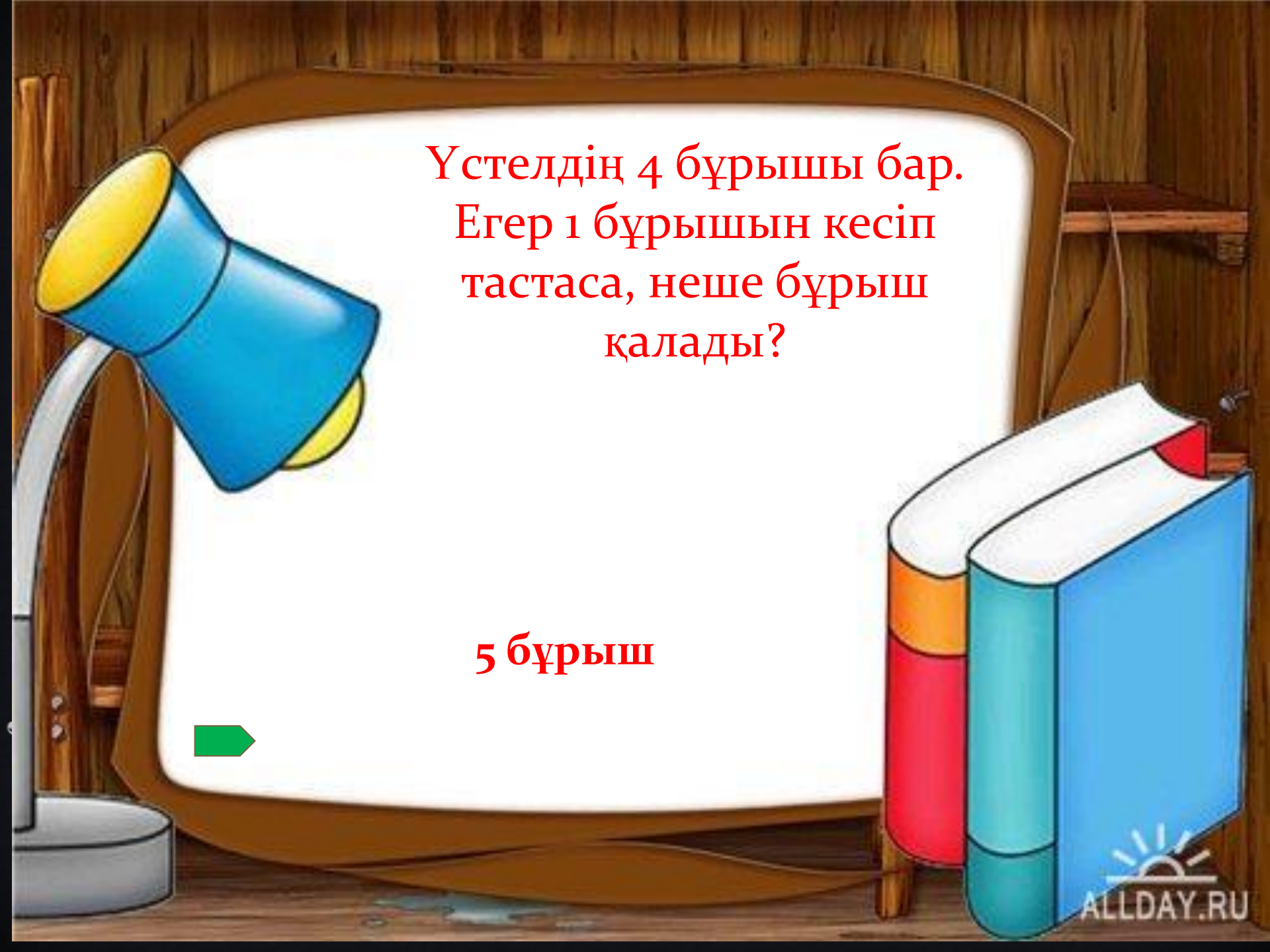




Аспанда бір қатар
үйректер ұшып барады.
Біреуі алдында, екеуі
артында, екеуі артында,
біреуі алдында. Барлығы
неше үйрек ұшып барады?

3 үйрек

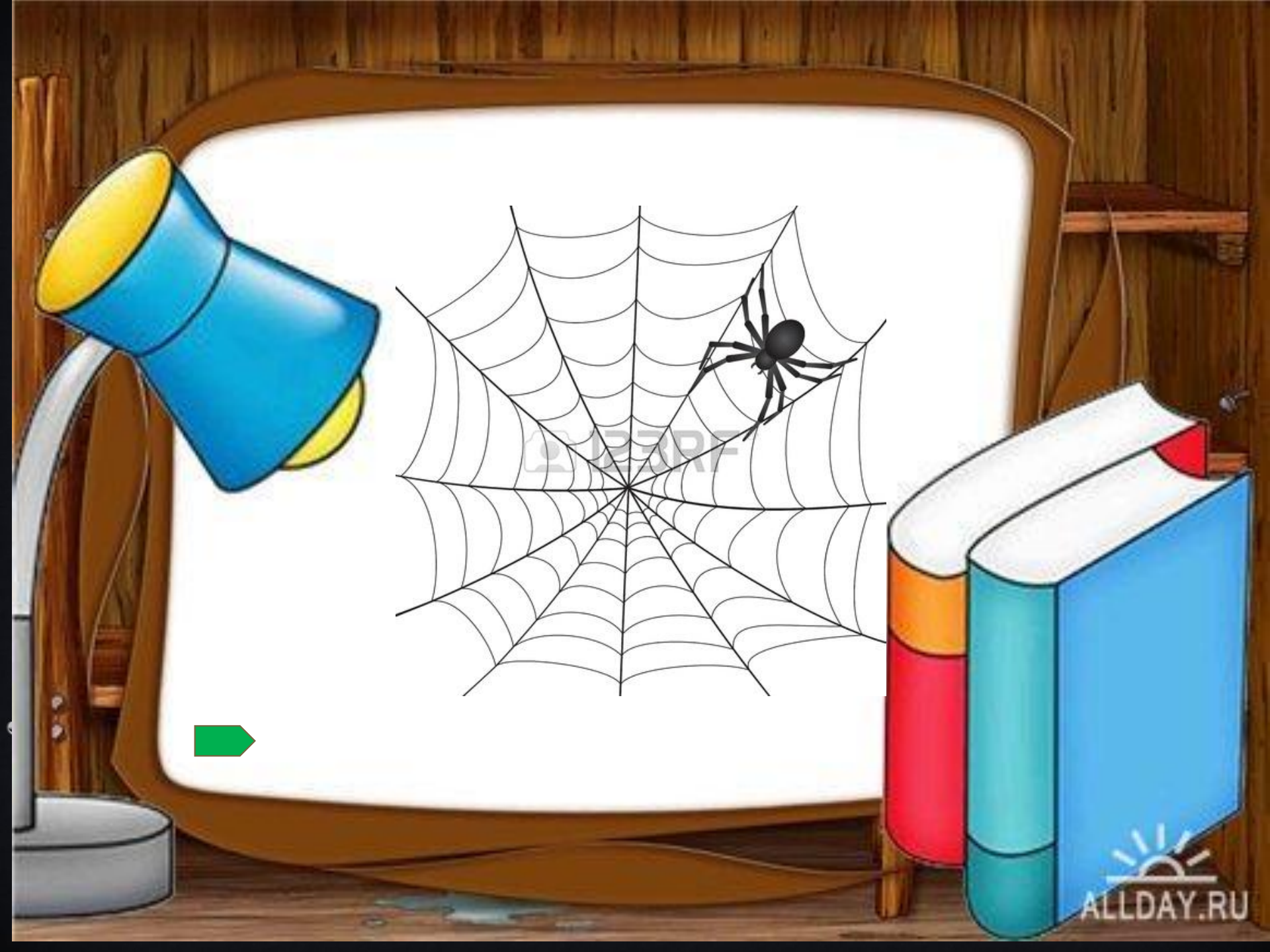


A cartoon illustration of a desk with a lamp, a whiteboard, and books. The lamp is blue and yellow, the whiteboard is white with a brown frame, and the books are blue, orange, and red. The background is a wooden wall.

Үстелдің 4 бұрышы бар.
Егер 1 бұрышын кесіп
тастаса, неше бұрыш
қалады?

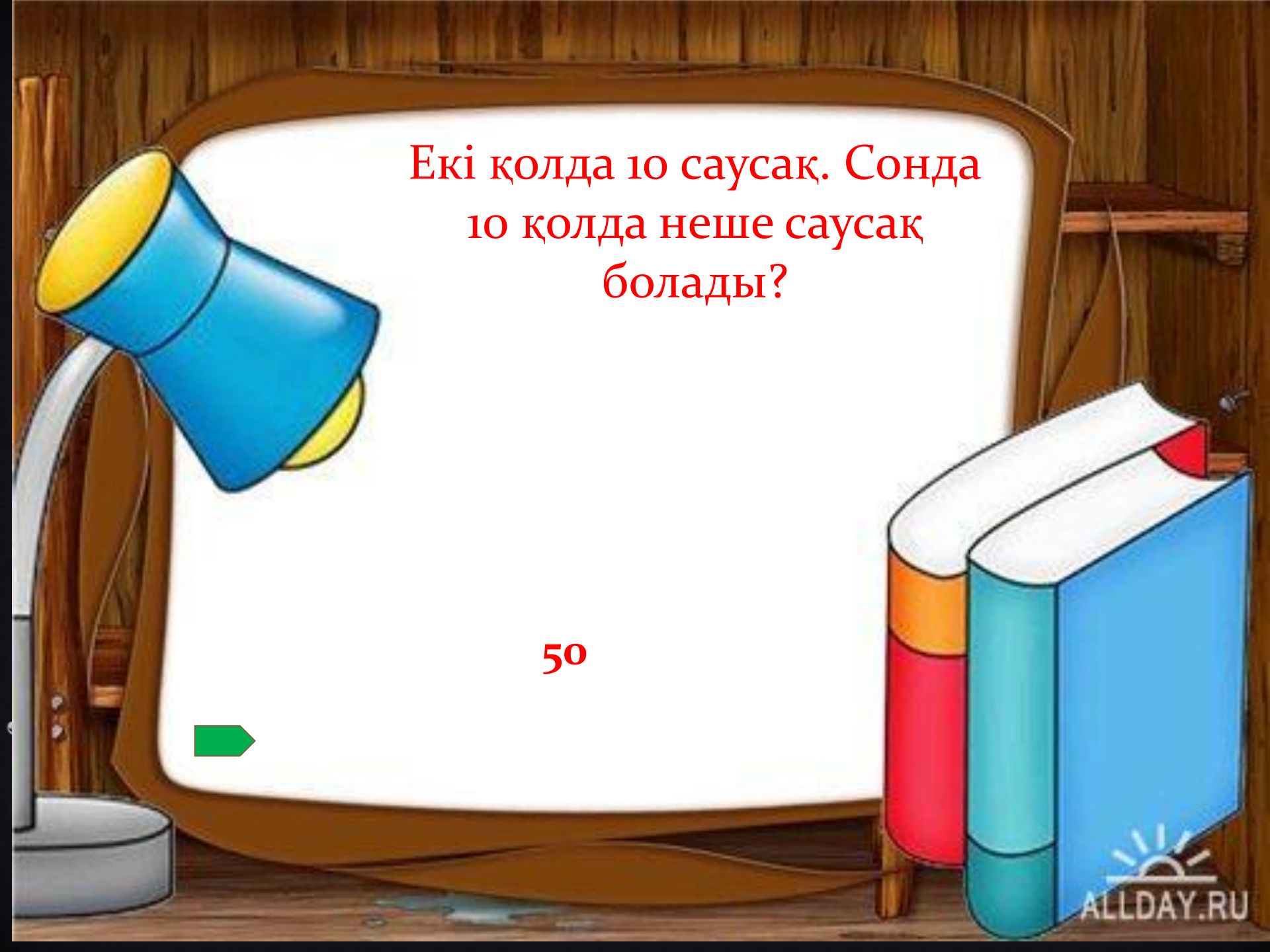
5 бұрыш





© 2017

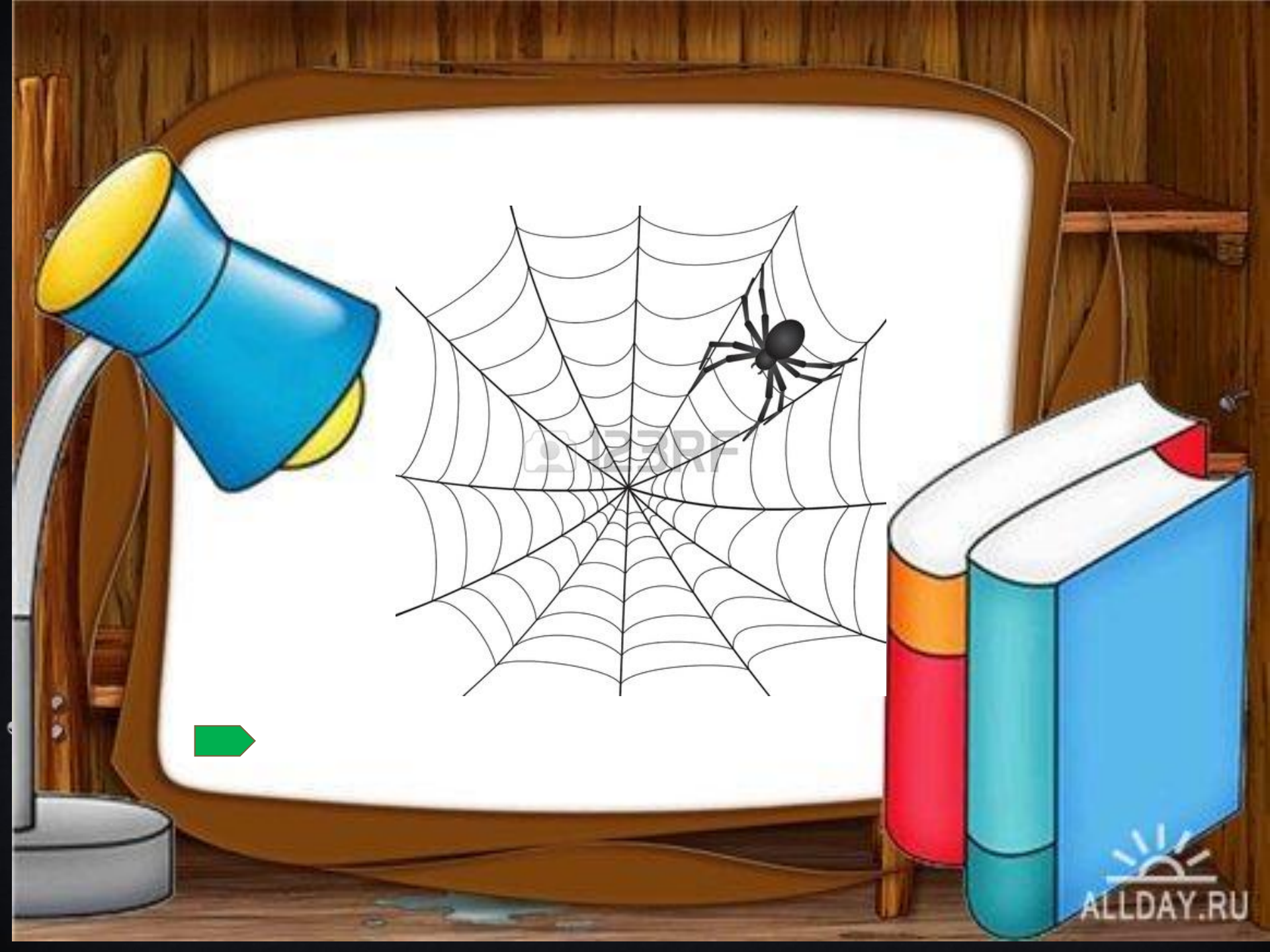


A cartoon illustration of a desk with a lamp and books. The desk is made of wood and has a whiteboard on it. A blue desk lamp with a yellow shade is on the left. On the right, there are three books with orange, red, and blue covers. The background is a wooden wall.

Екі қолда 10 саусақ. Сонда
10 қолда неше саусақ
болады?

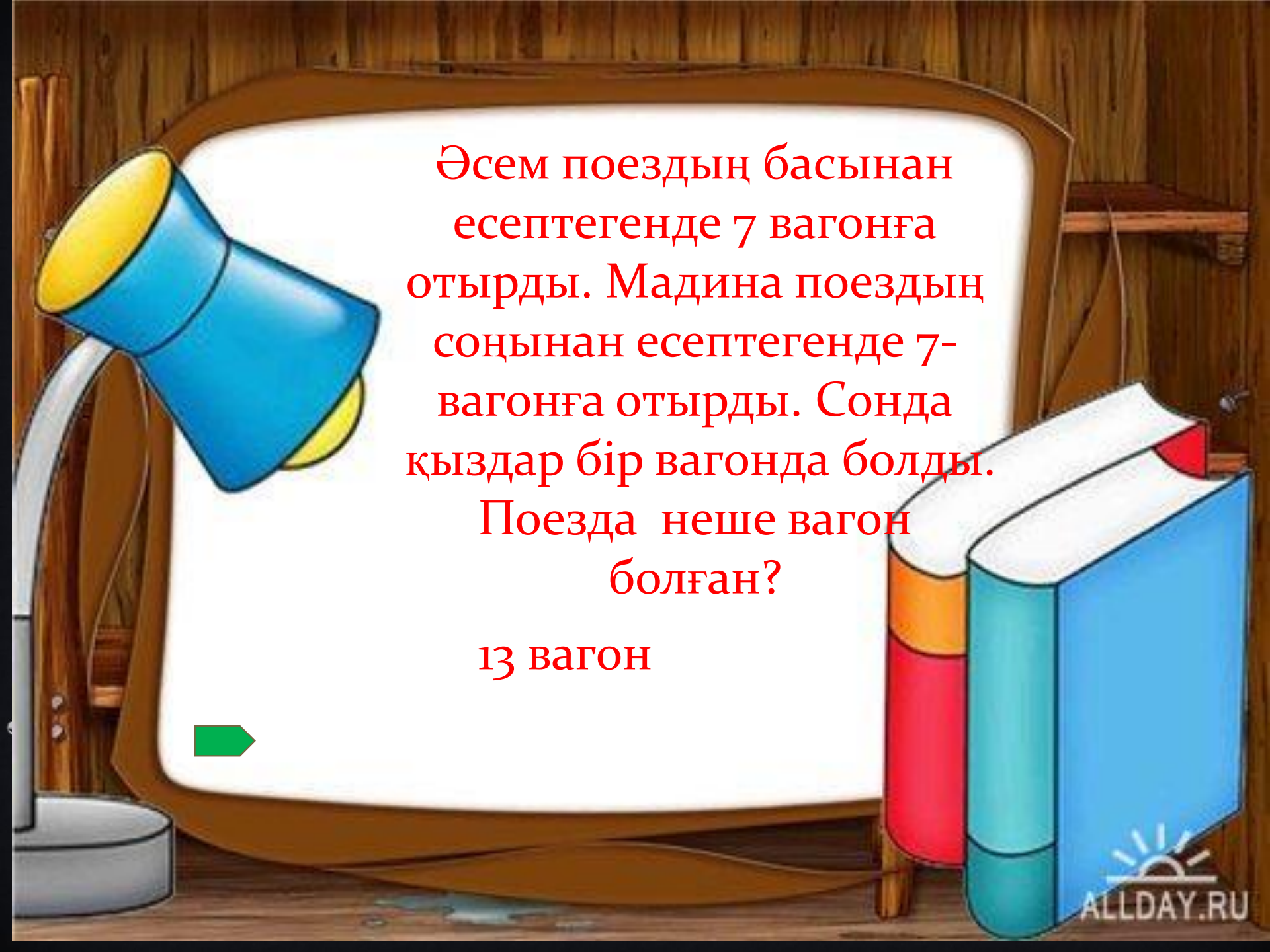
50





© 2017





Әсем поездың басынан
есептегенде 7 вагонға
отырды. Мадина поездың
соңынан есептегенде 7-
вагонға отырды. Сонда
қыздар бір вагонда болды.
Поезда неше вагон
болған?

13 вагон



**2 – айналым:
Жасыл конверт
«Математика»**





**Кез келген санды
1-ге көбейткенде
қандай сан шығады?**

➡ СОЛ САН ШЫҒАДЫ

Кез келген санды нөлге
көбейткенде қандай
сан шығады?



НӨЛ

Санды нөлге
бөлуге бола ма?



болмайды

Берілген өрнекте
алдымен қандай
амалдар орындалады?

$$5+18:3$$

$$6+4*2$$

$$8:4-1$$



БӨЛУ, КӨБЕЙТУ

Лоторея билеті.
5 ұпай



Көбейткіштердің
орындарын
ауыстырғаннан
көбейтіндінің
мәні өзгере ме?



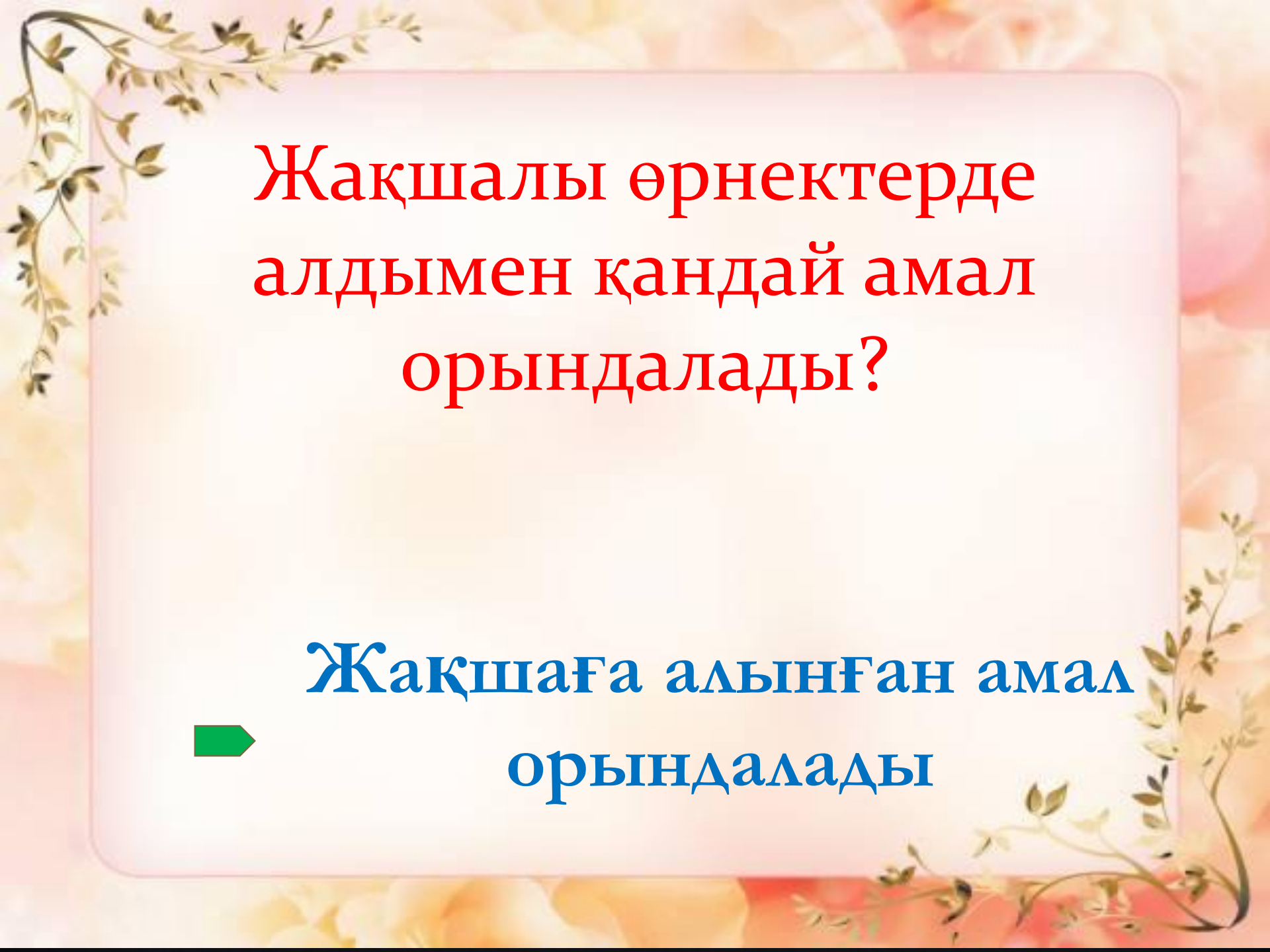
Өзгермейді



Көбейту мен бөлу - өзара
қандай амалдар?



кері амалдар




**Жақшалы өрнектерде
алдымен қандай амал
орындалады?**

**Жақшаға алынған амал
орындалады**



**3 - айналым:
Көк конверт
«7 жұмбақ»**





*Аяғы бар ,басы бар
Арқалаған тасы бар
Бұл не ?*



Тасбақа



*Жапалақтап жауады
Жердің бетін жауады
Бұл не аппақ мақтадай ?
Қанекей кім табады.*



Қар





*Табаныма байладым
Қосаяқпен айдадым.*

Шаңғы





*Өзі айлакер ,өзі қу
Жүрген жері айқай да шу*

Түлкі



*Сол аяқпен оң аяқ
Кезек оны тебеді
Ол тынымсыз домалап
Зыр жүгіре береді.*



Доп



Ұрлап ішіп

Үйде сүтті қоймайды

Өз құйрығын

өзі қуып ойнайды.



МЫСЫҚ





Білімнің дәнін тереді,
Балаға тәлім береді

Ұстаз



4 – айналым.
Сары конверт
«Мақал-мәтелдер»





1. Өнер-алды.....

ҚЫЗЫЛ ТІЛ.

2. Тіл тас жармаса ...

Бас жарады.

3. Білекті бірді жығады, ...

Білімді мыңды жығады.



4. Оқу - инемен



Құдық қазғандай.

1. Тіліңмен жүгірме ,.....

Біліміңмен жүгір.

2. Оқусыз білім жоқ,

Білімсіз күнің жоқ

3. Өтіріктің құйрығы
Бір-ақ тұтам.

Бір-ақ тұтам.

4. Атаңа не қылсаң



Алдына сол келеді.



5-айналым: Түрлі түсті конверттер



Ұйқасын тап

*Жағасында бұлақ
Жайылып жүр-*



*Бата алмас түлкі
Үсті тікен-*



*Құйрығы оң қарыс
Бұл айбатты-*



Ұйқасын тап

*Айбат шашар алыстан
Аң патшасы -*



*Өзінше ноян
Қорқақ кім -*



*Шоқыр жерден тауып,
Жемді көрсе -*



Ұйқасын тап

*Тым ойыншыл, пысық,
Мияулаған-*



*Жұртқа аты аян,
Улы жәндік-*



*Басы ұлна аппақ,
Бақта өсер-*



Ұйқасын тап

*Тыным таппас ебелек,
Гүлге қонған-*



*Тарғыл түсті -
Ұқсамайтын басқаға.*



*Келе жатыр жұмысқа
Ұзын мұртты -*





Марапаттау

