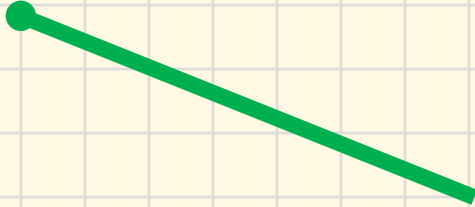
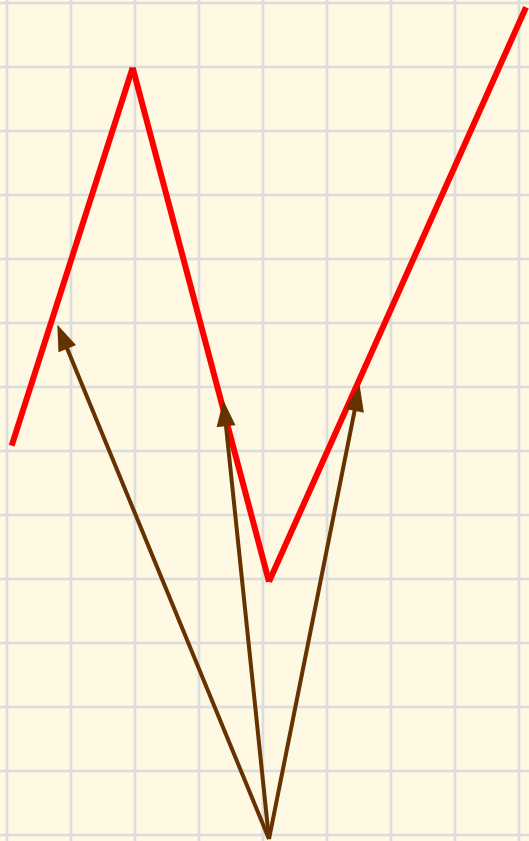




И прекрасна, и сильна
Геометрия-страна!
Начинается урок,
Он пойдет ребятам впрок.
Постарайтесь все понять-
Тему новую узнать.

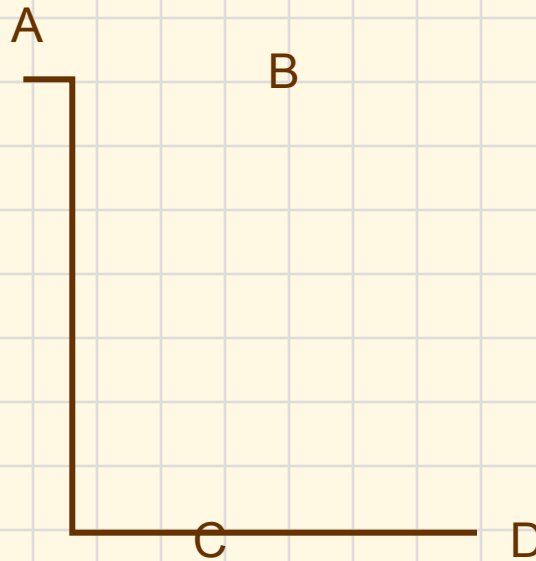
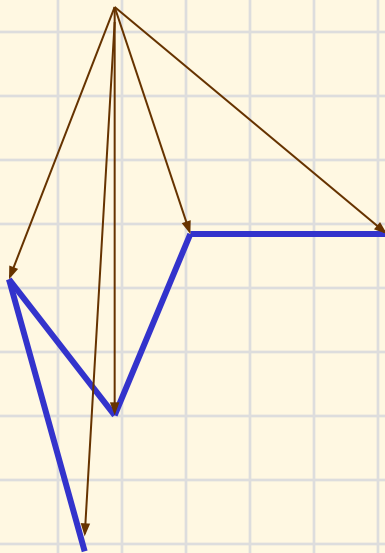


ЛОМАНЫЕ



звенья

вершины



$AB=2\text{см}$

$BC=4\text{см}$

$CD=2\text{см}$

ЧТОБЫ НАЙТИ ДЛИНУ
ЛОМАННОЙ, НАДО
СЛОЖИТЬ ДЛИНЫ ВСЕХ ЕЕ
ЗВЕНЬЕВ



ЕДИНИЦЫ ИЗМЕРЕНИЯ ДЛИНЫ

$$1 \text{ CM} = 10 \text{ MM}$$

$$1 \text{ DM} = 10 \text{ CM}$$

$$1 \text{ DM} = 100 \text{ MM}$$



Самостоятельная работа.

$$AB=42 \text{ мм}$$

$$BC=38 \text{ мм}$$

$$CD=19 \text{ мм}$$

Длина ABCD-? мм

$$ABCD= 42 + 38 + 19 = 99 \text{ мм}$$