

Баға, сан, құн

шамалар арасындағы

тәуелділік



Сабақтың мақсаты:

1. Білімділігі: Тақырыпты меңгеру, баға сан, құн шамалар арасындағы тәуелділік туралы баланың ұғымын кеңейту.
2. Дамытушылық: Баланың ойлау қабілетін арттыра отырып, жылдам есептеуге, ептілікке нақтылыққа үйрету.
3. Тәрбиелік: Ұйымшылдыққа, мейірімділікке бір-біріне көмектесуге, достық қарым-қатынасты нығайтуға тәрбиелеу.

- Психологиялық дайындық.
- Әрбір адам? Досым, сыныптасым.
- Әрбір сабақ? Үйрену ,оқу,іздену.
- Әрбір ісің? Тірлік,тірек, адамдық.
- Әрбір сөзің ? Шындық,бірлік, адамдық.

Біздің ұранымыз

- **МАҚСАТЫМЫЗ БІЛІМ АЛУ,**
- **МІНДЕТІМІЗ ЕҢБЕКТЕНУ.**

$4 * 2$

8

$9 * 2$

18

$25 : 5$

5

$24 : 8$

3

$7 * 4$

28

$80 * 2$

160

$90 : 3$

30

$60 * 3$

180

$12 : 4$

3

**Шаршының
периметрі**

?



4

*Тіктөртбұрыштың
периметрі*

?



2

ұзындығы



ені

*

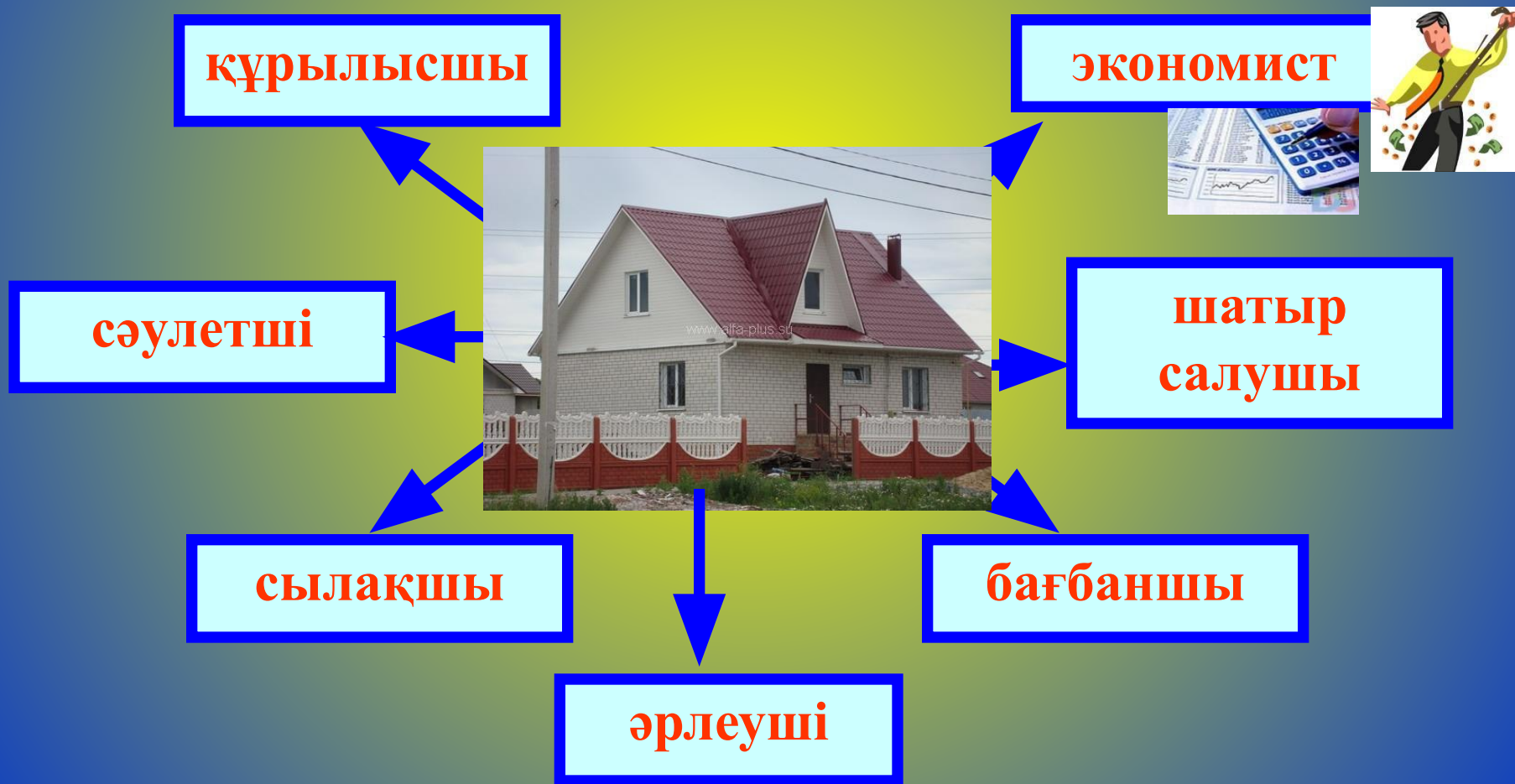
Сәйкестікті анықта

Шама	Атауы
1. 5 теңге	А) Бағасы
2. 7 қарындаш	Ә) Саны
3. Бірнеше дәптер 35 тг	Б) құны

“Үй тұрғызу”

Сен де бір кірпіш дүниеге,
Кетігін тап та бар қалан.

Абай



МАҒЫНАНЫ ТАНИ БІЛУ

$$4 * (10 - 4) =$$

Баға

$$6 * 4 + 16 =$$

Сан

$$(60 - 30) * 10 =$$

Құн

$$2 * 4 + 260 =$$

Тәуелді
лігі



ЭКОНОМИСТ






- Жапалақ 4 шар сатып алды. 1 шардың бағасы 2 теңге. Жапалақтың сатып алған шарларының құны қанша?

Құны

Бағасы

*

Саны




Қонжық 3 шар үшін 6 теңге төледі.
Бір шардың бағасы қанша?

бағасы



құны

Саны



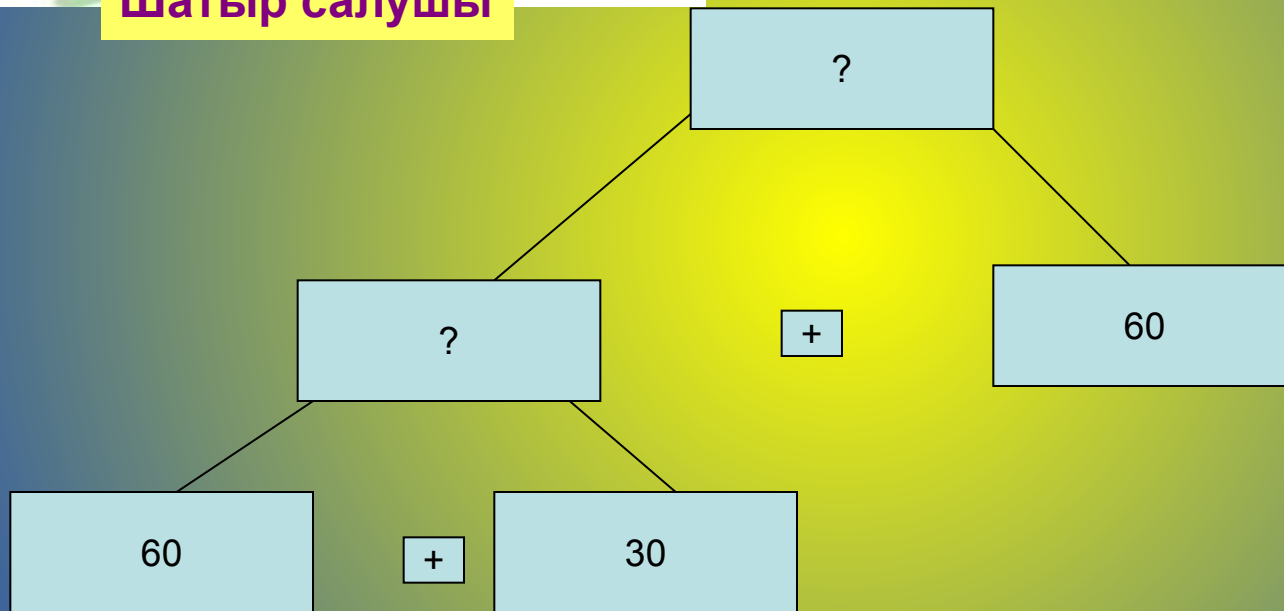
Кестені пайдаланып
есептер құрастыр
және оларды шығар

Бағасы	Саны	Құны
90 тг	2	?
?	4	360
80 тг	320	?



Шатыр салушы

Сызба бойынша есеп құрастыр және оларды шығар



Шешуі:

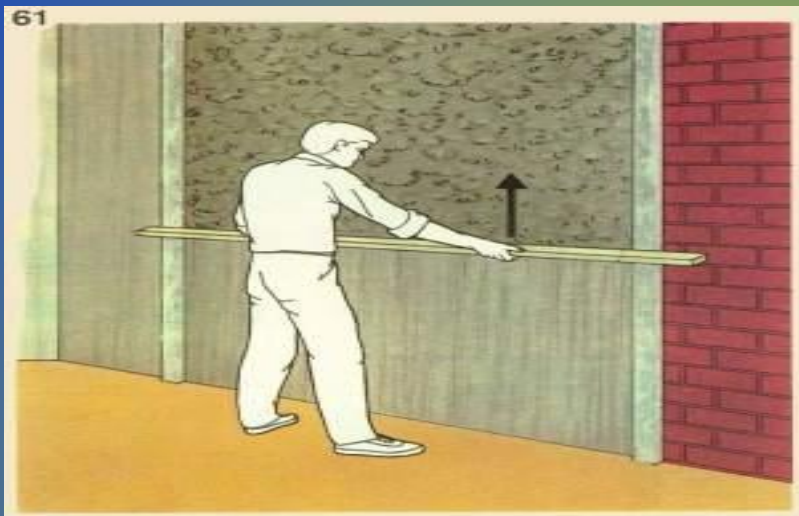
Жауабы:

Сергіту сәті

Бойды сергек тік ұста
Емін-еркін тыныста
Демінді ішке тез ал да,
Оң қолыңды соз алға,
Қол ұшына қара да,
Үшбұрыш сыз ауа да,
Сол қол босқа тұрмасын
Шеңбер жасап тынбасын.



сылақшы



Тура теңдік шығу
үшін “+”, “-”
таңбаларын және
жақшалар қой

$$46 \quad \square \quad 9 \quad \square \quad 5 \quad = \quad 50$$

$$91 \quad \square \quad 9 \quad \square \quad 32 \quad = \quad 68$$

$$39 \quad \square \quad 8 \quad \square \quad 53 \quad = \quad 100$$

$$65 \quad \square \quad 6 \quad \square \quad 2 \quad = \quad 69$$

әрлеу
ші



Теңдеуді шеш

$$89 + x = 134 \quad x * 9 = 18 \quad x : 3 = 9$$



ТЕСТ ЖҰМЫСЫ

Бір конверттің бағасы 5 теңге. Осындай 3 конверт қанша тұрады?



Бағбаншы

A

10

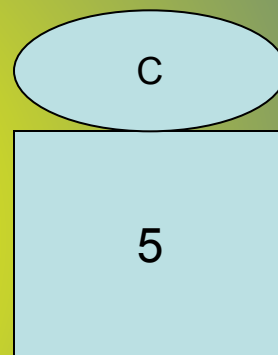
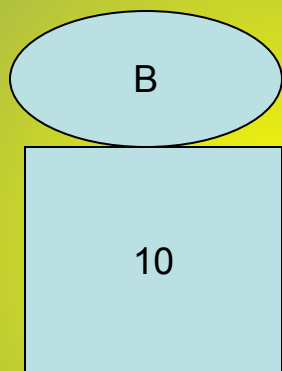
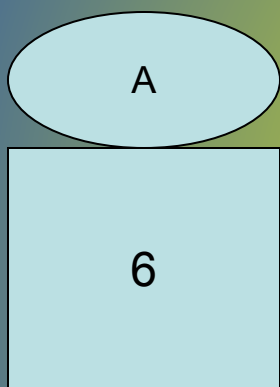
B

15

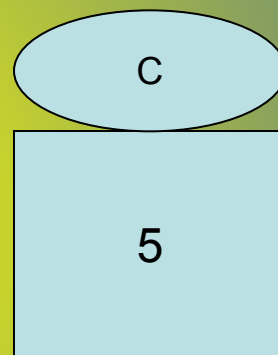
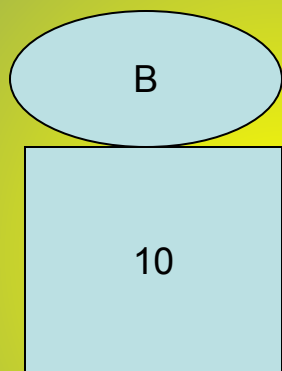
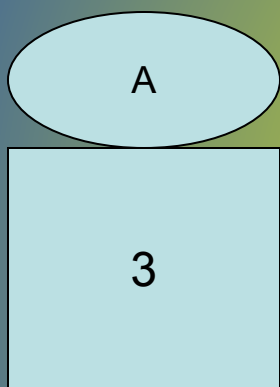
C

30

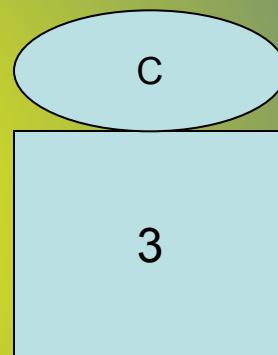
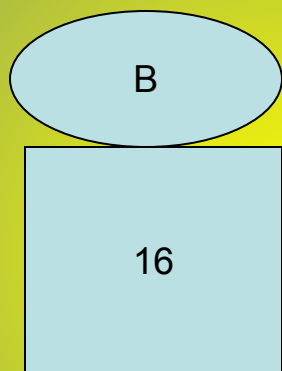
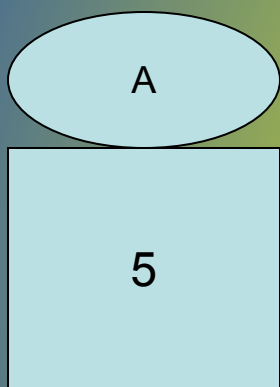
Бірдей 3 конверт үшін 15 теңге төленді. 1 конверт қанша тұрады?



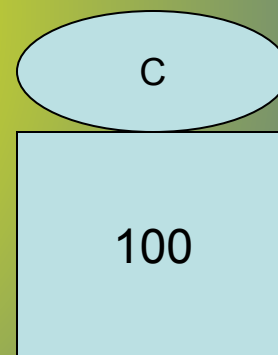
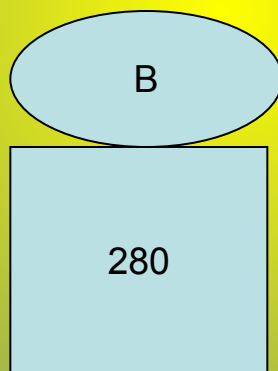
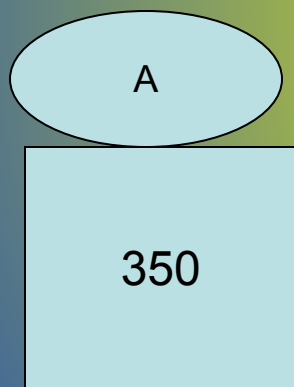
**Бір конверттің бағасы 5 теңге. 15 теңгеге неше
конверт сатып алуға болады?**



3 қорап сіріңке үшін 9 теңге
төленді. 1 қорап сіріңкенің бағасы қанша?



**Ойыншық ұялы телефонның бағасы 70
теңге. Осындай 4 ұялы телефонның
құны қанша?**





*Бүгінгі сабаққа жақсы
қатысқан оқушыларға жаңа
үйдің кілті тапсырылады.*





Үйге тапсырма



*Күнделікті енді ашайық,
Үй тапсырмасын жазайық.
Құн, баға, сан тәуелділігін,
Ұмытпай есте сақтап алайық.*



Назарларыңызға рахмет!

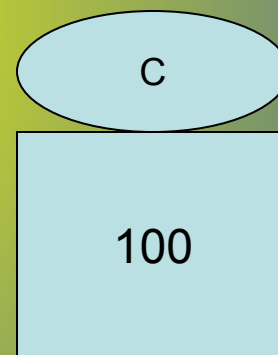
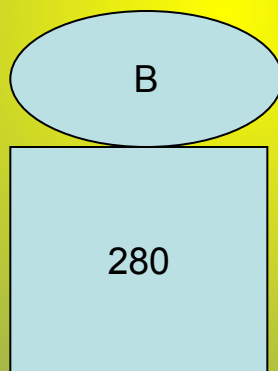
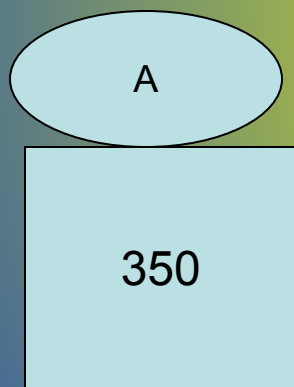


Логикалық есептер

- Шөпте қояндар тығылып отыр, тек 10 құлақ гана көрініп тұр. Қанша қоян тығылып отыр?
- Таразы табақшасына 2 аяғымен тұрғанда тырна 2 кг болды. Бір аяғымен тұрса, оның массасы қандай болады?
- Ауылда 4 күн 4 түн боран соқты. Неше күн боран соқты?
- Бір адам қалаға бара жатыр еді, жолда оған танысы қарсы келді. Қанша адам қалаға барды?
- Мараттың кілең 1 теңгеліктен тұратын барлығы 100 теңге ақшасы бар еді. Құрал – жабдық сатып алған ол дүкенге 97 теңге тиіс еді. Қалай тез есептеп беруге болады?



**Ойыншық ұялы телефонның бағасы 70
теңге. Осындай 4 ұялы телефонның
құны қанша?**



**Ойыншық ұялы телефонның бағасы 70
теңге. Осындай 4 ұялы телефонның
құны қанша?**

