

СЛУЧАИ ВЫЧИТАН ИЯ

11-□

УСТНЫЙ СЧЁТ

ВЫЧИСЛИ.
НАЙДИ
ЛИШНИЙ
ПРИМЕР:

$$1 + 8 = 9$$

$$10 - 1 = 9$$

$$6 + 3 = 9$$

$$2 + 7 = 9$$

$$0 + 9 = 9$$

$$4 + 5 = 9$$

$$2 + 8 = 10$$

	1	
10	1	1
9		2
8		3
7		4
6		5
5		6
4		7
3		8
2		9

$$7+5 = 12$$

$$8+7 = 15$$

$$8+6 = 14$$

$$9+5 = 14$$

$$8+5 = 13$$

$$7+7 = 14$$

$$9+3 = 12$$

$$8+8 = 16$$

$$9+4 = 13$$

$$7+6 = 13$$

**СОСТАВЬ
ЗАДАЧУ ПО СХЕМЕ**



10



на 4 <



?




9 м



?

на 7 м >





6



8




?




7




10



на ? >





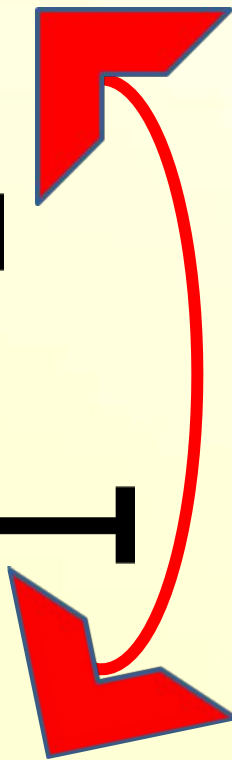
6




10 раз



на ? <





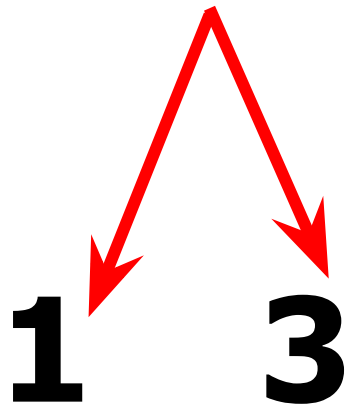
ПОМОГИТЕ МЫШКЕ



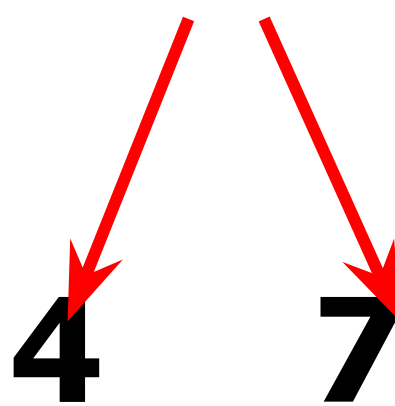
$$11 - 4 =$$

КАК РАССУЖДАЛИ ПРИ ВЫЧИТАНИИ?

$$11 - 4 = 7$$




$$11 - 4 = 7$$



Объясни, как из числа 11 вычесть 4.

11	
2	
3	
4	
5	



$$\begin{array}{r} 11 - 4 \\ \hline 11 - 1 - 3 \end{array}$$

Вычисли и запомни.

$11 - 2$	$11 - 3$	$11 - 4$	$11 - 5$
$11 - 9$	$11 - 8$	$11 - 7$	$11 - 6$

ТРЕНИРОВОЧНЫЕ УПРАЖНЕНИЯ.

$11 - 2$

$11 - 3$

$11 - 4$

$11 - 5$

$11 - 9$

$11 - 8$

$11 - 7$

$11 - 6$

Запомни!

$$11 - 2 = 9$$

$$11 - 3 = 8$$

$$11 - 4 = 7$$

$$11 - 5 = 6$$

$$11 - 6 = 5$$

$$11 - 7 = 4$$

$$11 - 8 = 3$$

$$11 - 9 = 2$$

РЕШЕНИЕ С КОММЕНТИРОВАНИЕМ

3. Сделай рисунки к задачам и реши их.

1) Петя нарисовал 6 больших квадратов и 4 маленьких. Он раскрасил 7 квадратов. Сколько квадратов осталось нераскрашенными?

2) Саша принёс 6 морковок, а Оля — 4. Они отдали кроликам 8 морковок. Сколько морковок осталось?

Нарисовал - ? 6 к. и 4 к.

Раскрасил - 7 к.

Осталось - ? к.

Саша купил 7 тетрадей в
клетку и 3 тетради в линию.
Он отдал 4 тетради сестрёнке.
Сколько тетрадей осталось у
Саши?

Купил -? 7 тет. и 3 тет.

Отдал -4 тет.

Осталось - ? тет.

САМОСТОЯТЕЛЬНАЯ РАБОТА

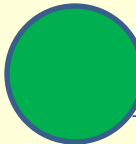
$11 - 4 =$


$11 - 8 =$


$11 - 3 =$

$11 - 6 =$

Рефлексия

 Всё понял, могу объяснить товарищу.

 Многое понял, но мне ещё нужна помощь.

 Мне трудно было на уроке.