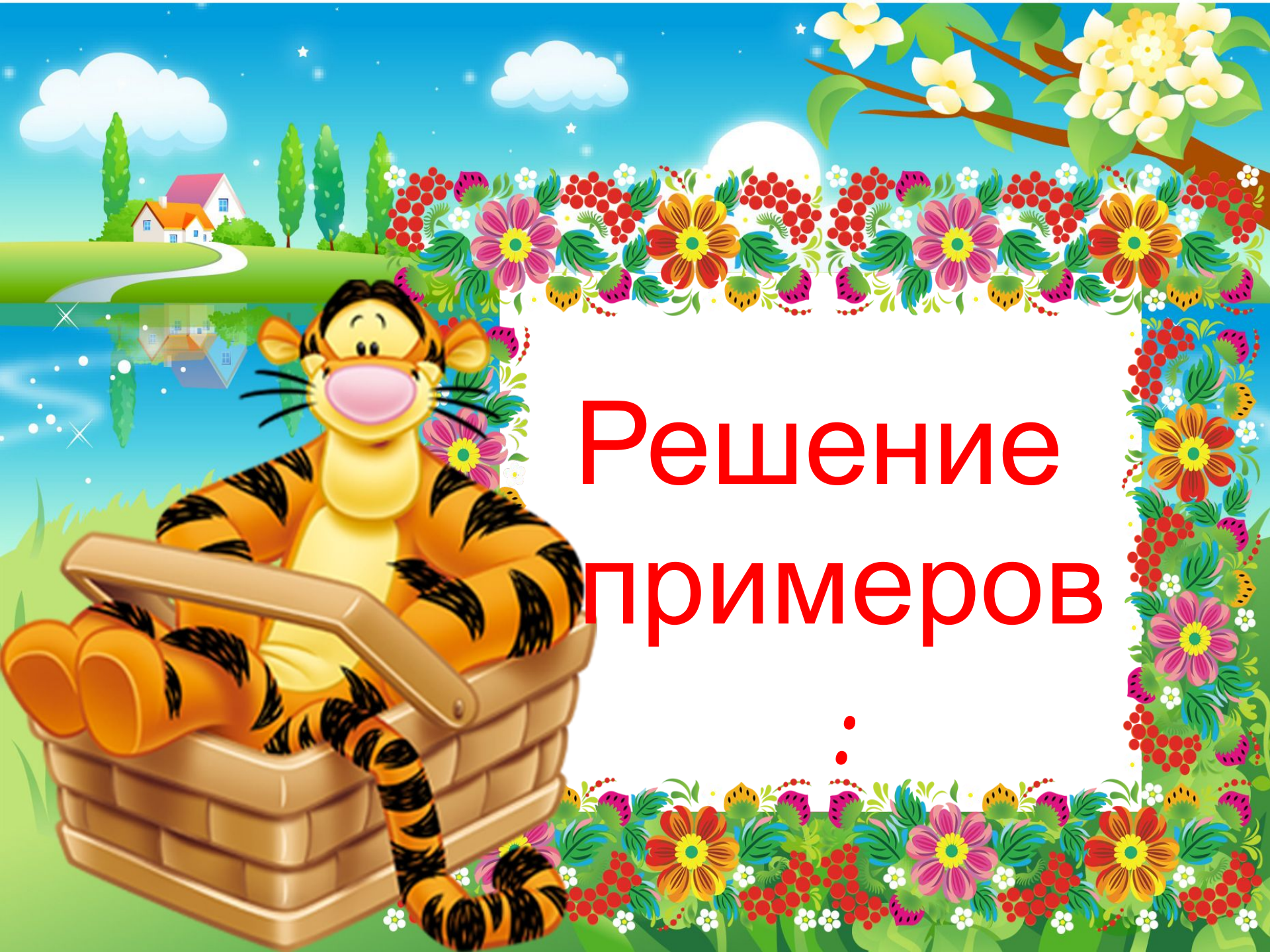


Письменное сложение и вычитание





Решение примеров

:

$23 + 56 =$ $56 + 28 =$ $48 + 9 =$

$37 + 43 =$ $80 - 24 =$ $90 - 42 =$

$237 + 243 =$ $254 + 342 =$

$578 - 437 =$ $256 + 432 =$

$689 - 436 =$ $325 + 384 =$



**Выразите в
других
единицах
измерения**




828СМ = ...М...ДМ...СМ

316СМ = ...М...ДМ...СМ

5ДМ * 5М 6СМ

36СМ * 3М 5СМ



Mickey Mouse and Minnie Mouse are depicted on the left side of the image. Mickey is wearing an orange shirt, blue pants, and blue shoes, holding a large green umbrella. Minnie is wearing a pink jacket, blue pants, and yellow shoes, also holding a large green umbrella. They are both smiling and looking towards the right. The background is a dense field of green clovers.

**Решите
уравнени
я:**


$$(36 - X) + 18 = 47$$

$$X + (56 - 25) = 40$$



Физминутка





Решение задач

1. В столовую привезли
16кг риса, гречки на 4кг
больше, пшена на 18кг
меньше, чем риса.

Сколько всего кг крупы?



2. В воскресенье в музей
пришли 90 человек. Из них
взрослых 43 человека,
подростков на 16 меньше,
остальные дети. Сколько
детей?



3. В саду собрали 18кг
яблок, груш 13кг, а слив
столько, сколько яблок и
груш вместе. Сколько
всего фруктов?



Домашнее задание:

С 126 № 5

