

**Открытый урок по теме в 3 классе
«Закрепление табличного
умножения и деления»**

**Учитель начальных классов
МБОУ «Савгачевская СОШ»
Фадеева Зоя Васильевна
1 квалификационная
категория**



**Прозвенел звонок
веселый.**

Мы начать урок готовы.

**Будем слушать,
рассуждать**

И друг

югать!





**2 декабря.
Классная
работа**





2 22 222

Какую закономерность заметили?

Напишите и продолжите ряд





2 22 222 2222 22222 222222



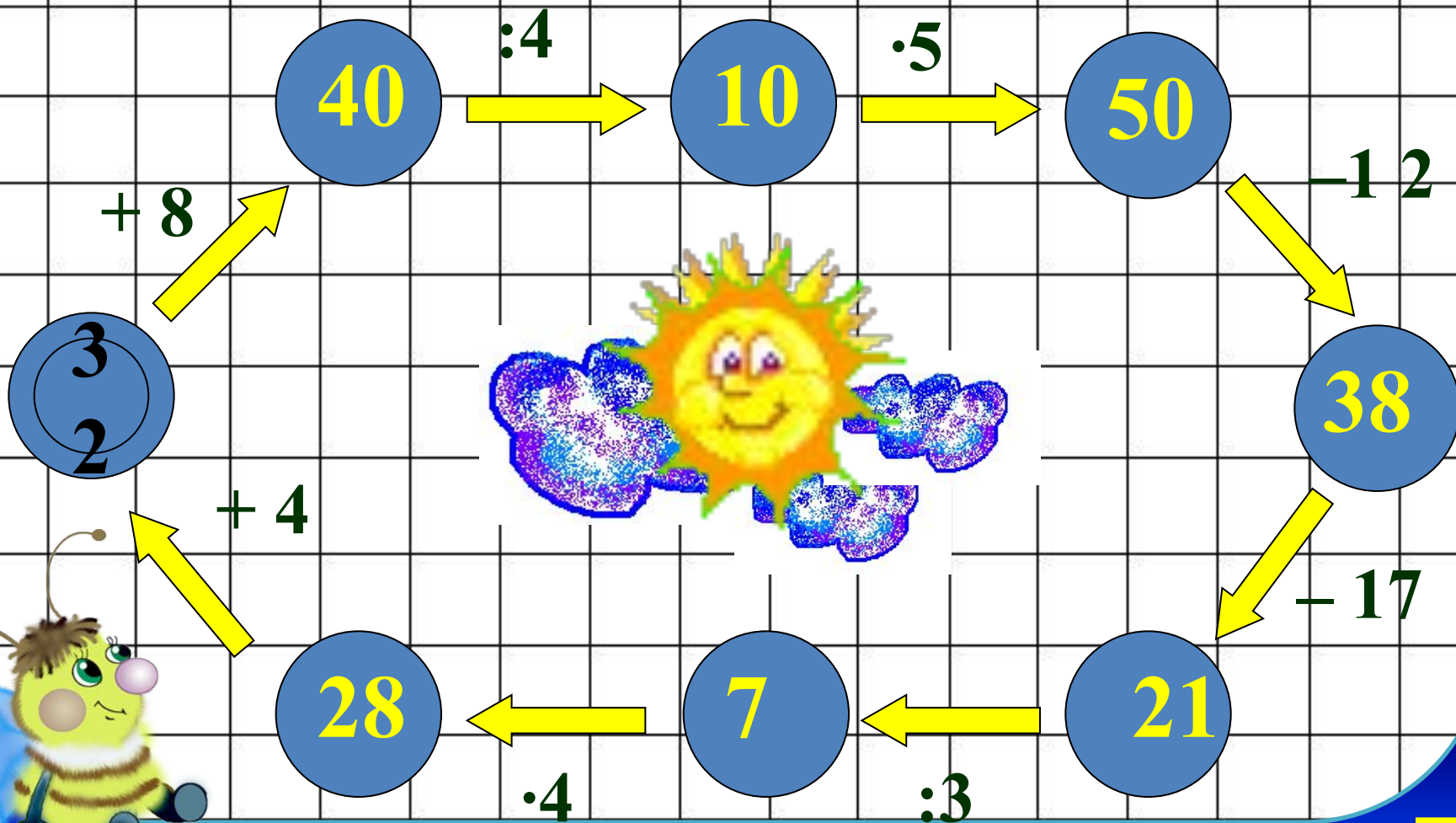
УСТНЫЙ СЧЁТ



**Что мы знаем – будем
повторять,
Что забыли – будем вспоминать.
В математике любая работа
Не обходится без устного счета.**



Игра «Разгони тучи!»



$$30 : 5 \times 3 - 18 : 9 =$$

1

6

$$36 : 4 + (47 - 37) \times 5 =$$

5

9

$$58 - 16 : 4 \times 7 - 10 =$$

2

0




• Оля купила тетради.
Ей дали сдачу 4
монеты по 5 рублей.
Сколько рублей Оля
та сдачи?



20

рублей





Маша раздала 18
тетрадей 6 ученикам.
По сколько тетрадей
получил каждый
ученик? **по 3 тетради**





**Бабушке 60 лет. Внук
в 10 раз моложе
бабушки. Сколько
лет внуку?**

6

лет



**Выбери правильное
решение.**



$$6 \cdot 4$$

$$6 \cdot 5$$

$$6 \cdot 6$$



**Как-то раз в лесу густом
Ёж построил себе дом.
Пригласил лесных
зверей,
Сосчитайте их скорей:
6 зайчат, 6 лисят,
6 весёлых медвежат,
6 бельчат, 6 бобров.**



У кого ответ готов?



$6 \times 2 =$

$21 : 3 =$

$3 \times 6 =$

$6 \times 6 =$

$3 \times 5 =$

$24 : 4 =$

$18 : 2 =$

$3 \times 8 =$

$32 : 8 =$

$7 \times 5 =$

$35 : 7 =$





$6 \times 2 = 12$

$21 : 3 = 7$

$3 \times 6 = 18$

$6 \times 6 = 36$

$5 \times 3 = 15$

$24 : 4 = 6$

$18 : 2 = 9$

$3 \times 8 = 24$

$32 : 8 = 4$

$7 \times 5 = 35$

$35 : 7 = 5$





4 5 6 7 9 12 15 18 24 35 36

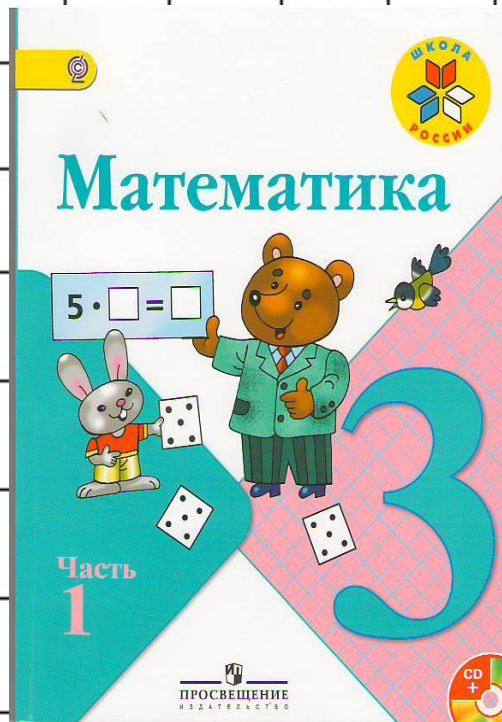
ЗАКРЕПЛЕНИЕ





**Закрепление табличного
умножения и деления**





Решить

ры

С.68, №

24

Решить задачу

С.69, № 1



Физминутка



- Сколько раз ногою топнем? (12:4)

- Сколько раз в ладоши
хлопнем? (36:9)

- Сколько будем приседать? (15:5)

- Сколько руки поднимать? (12:2)

- Сколько раз подпрыгнем
мы? (40:8)

- Лучше всех мы, посмотри!



Работа с карточками



1. Проверка таблицы умножения и деления.

2. Найдите площадь и периметр прямоугольника со сторонами 5 см и 3 см.





Д / З



с. 69, №3



Самооценка результатов



деятельности

Красный – работаю отлично, со всеми заданиями справляюсь. Могу помочь товарищу.

Зеленый – работаю хорошо, иногда нуждаюсь в помощи.

Желтый – работать было интересно, но были проблемы, прошу помощи.



ТИМ ЧИР




Я – молодец!

Мы – команда!

Поработали

отлично!

Супер класс!





Спасибо за урок!



МОЛОДЦЫ!



Задача 1



- На кормушке сидело 2 синицы и 6 снегирей. Во сколько раз больше сидело снегирей, чем синиц?



Решить уравнения



$$21 - x = 14$$

$$x + 9 = 63$$

$$10 + x = 100$$

$$x : 8 = 64$$

$$12 : x = 6$$

$$x * 5 = 25$$





$$? \cdot 8 = 24 \quad 7 \cdot ? = 28 \quad 21 : ? = 7$$

$$24 : ? = 6 \quad ? \cdot 9 = 36 \quad 9 \cdot ? = 27$$

$$20 : ? = 5 \quad 18 : ? = 9 \quad 45 : ? = 9$$



Решить задачу с . 69, № 1.

