

2

••• = ?

4 сентября
Классная работа

Порядок действий в
числовых выражениях.
Сложение и вычитание

7 см

• + • = ?

5

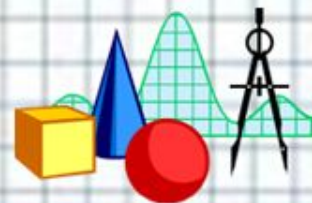
Учитель ГБОУ СОШ № 249
имени М.В.Маневича Санкт-Петербурга
Зарубина Ирина Максимовна

Учитель ГБОУ СОШ № 249
имени М.В.Маневича Санкт-Петербурга
Зарубина Ирина Максимовна



Проверка домашнего задания

- $180 - (52 + 28) = 100$ (стр.)
- $180 - 52 - 28 = 100$ (стр.)





Логические задачи

Полный бидон с молоком весит 34 кг, а бидон, наполненный наполовину, весит 18 кг. Сколько весит пустой бидон?

- 1) $34 - 18 = 16$ (кг) – весит половина молока;
- 2) $18 - 16 = 2$ (кг)

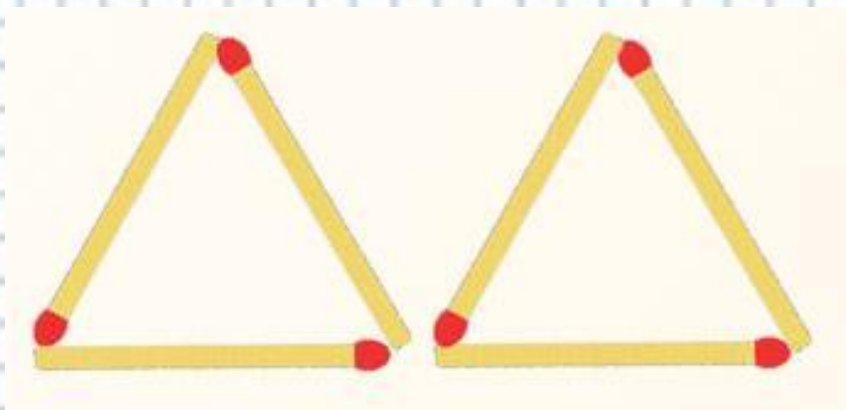
Ответ: пустой бидон весит 2 кг.




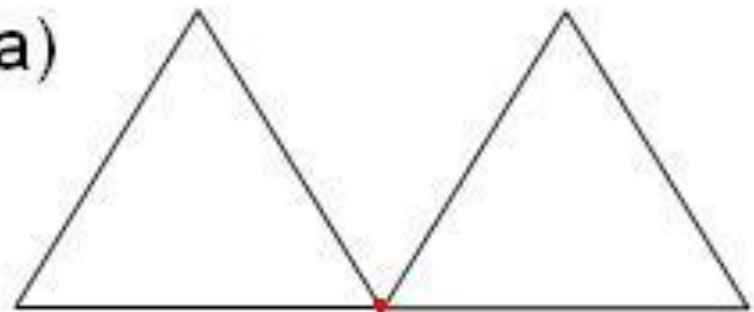


Логические задачи

Боря нарисовал 2 треугольника. Для обозначения треугольников ему понадобилось только 5 букв, Как такое может быть?



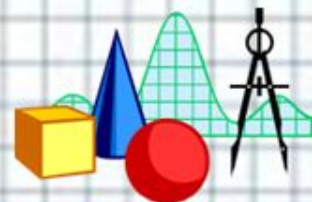
а)





Устный счет

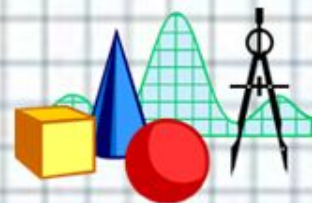
- Сосчитайте от 397 до 402;
- От 788 до 800;
- От 504 до 494;
- От 1000 до 989;





Устный счет

- Прочитайте числа:
- 342, 402, 360, 900, 540.
- Расскажите о каждом числе.
- Прочитайте в порядке убывания и возрастания.
- Какое число может быть лишним?





Самоопределение к теме

- $200 : 5 - 4 \cdot 2 = 32$
- $(200 : 5 - 4) \cdot 2 = 72$
- $200 : (5 - 4) \cdot 2 = 400$

