



Занятие № 10

Разминк

Как **а** это

называется

ШКОЛЬНЫЙ СТОЛ



Устройство для прыжка с самолёта



Болотная порезат



Пространство над землёй, в котором много звёзд.



Главная песня

ва



ГИМН РОССИЙСКОЙ ФЕДЕРАЦИИ

Россия — священная наша держава,
Россия — любимая наша страна.
Могучая воля, великая слава —
Твоё достоянье на все времена!

Славься, Отечество наше свободное,
Братских народов союз вековой,
Предками данная мудрость народная!
Славься, страна! Мы гордимся тобой!

От южных морей до полярного края
Раскинулись наши леса и поля.
Одна ты на свете! Одна ты такая —
Хранимая Богом родная земля!

Славься, Отечество наше свободное,
Братских народов союз вековой,
Предками данная мудрость народная!
Славься, страна! Мы гордимся тобой!

Широкий простор для мечты и для жизни
Грядущие нам открывают года.
Нам силу даёт наша верность Отчизне.
Так было, так есть и так будет всегда!


Славься, Отечество наше свободное,
Братских народов союз вековой,
Предками данная мудрость народная!
Славься, страна! Мы гордимся тобой!

Упаковка для писем

От кого _____

Откуда _____

Индекс места отправления



Кому _____

Куда _____

Индекс места назначения



Катастрофа, случившаяся с автомобилем



Куча снега



Суша возле воды



Остаток дерева, заменяющий в лесу табурет



Послушайте текст и ответьте на

вопросы. На улице играли пятеро детей: Антон, Оля, Гриша, Вася, Ира.

Сколько среди них было девочек?

2

В каком имени ударение падает на второй слог?

АНТОН

Вскоре пришли Вера и Дима. Сколько детей стало играть?

7 детей

Дети были во дворе всего два часа.
Через час ушёл Вася.

Сколько детей осталось на улице?

6 детей

Сколько среди них мальчиков?

3

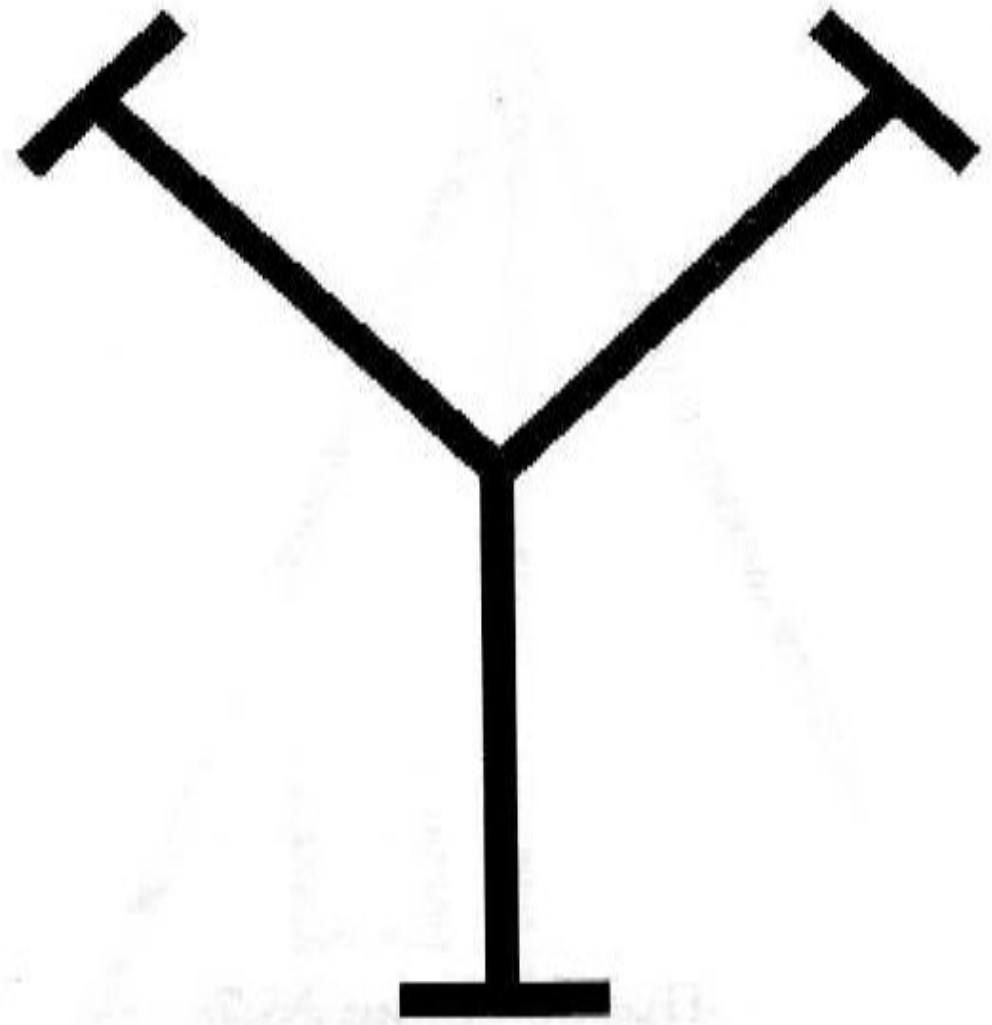
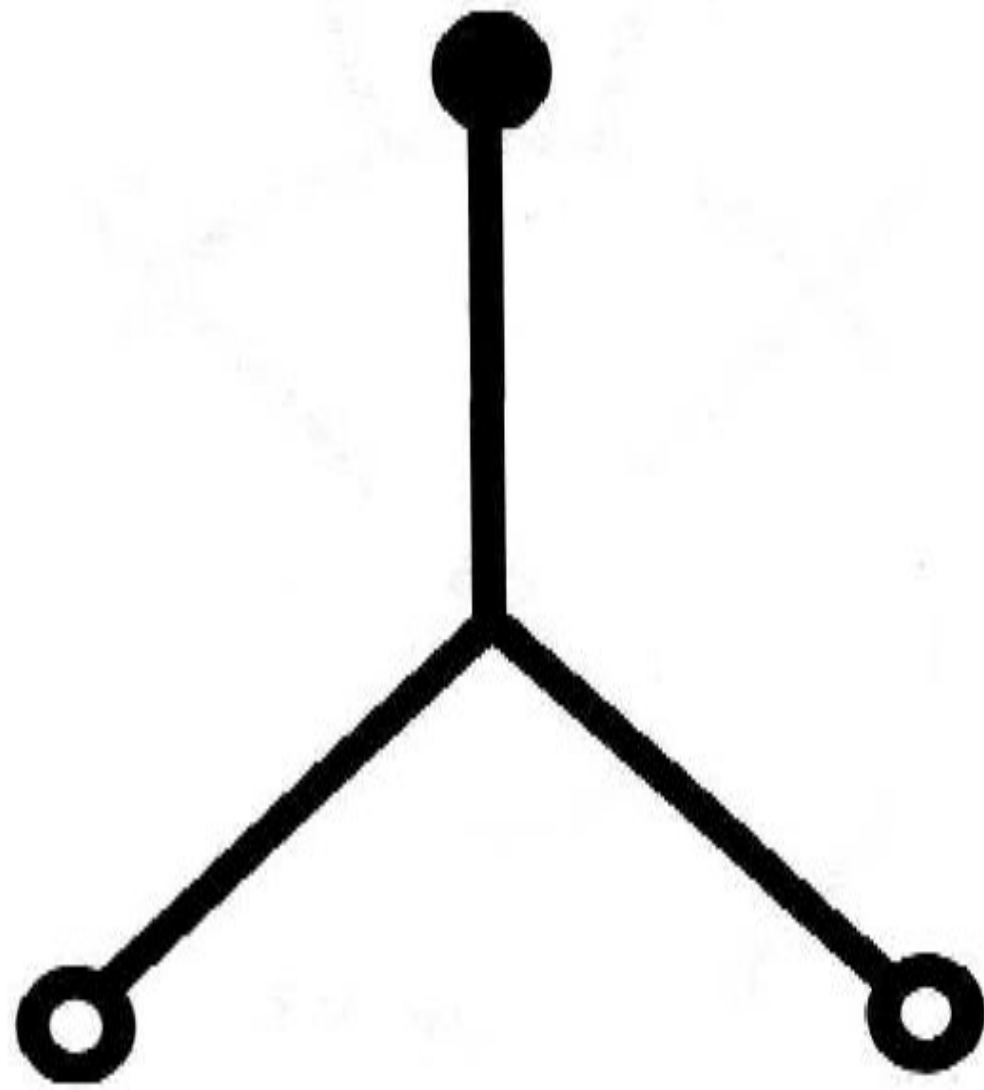
На сколько времени Вася гуляет меньше,
чем Оля?

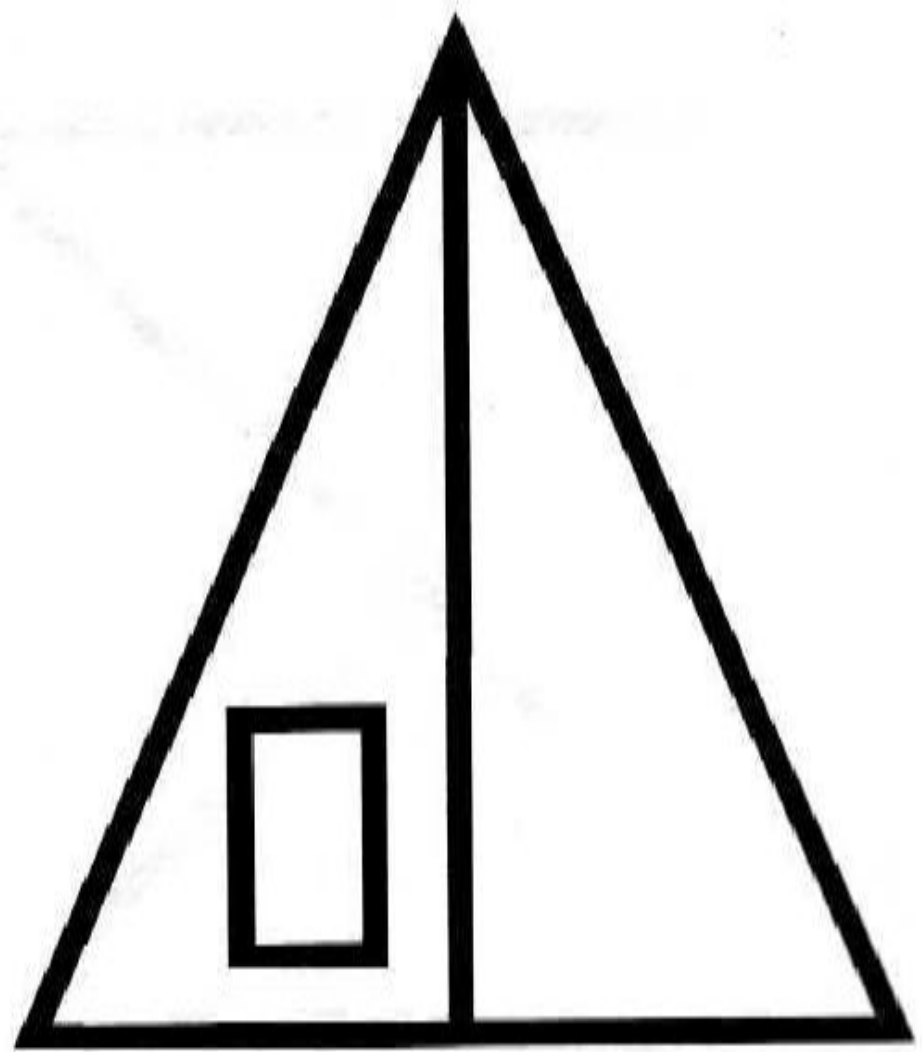

на 1 час

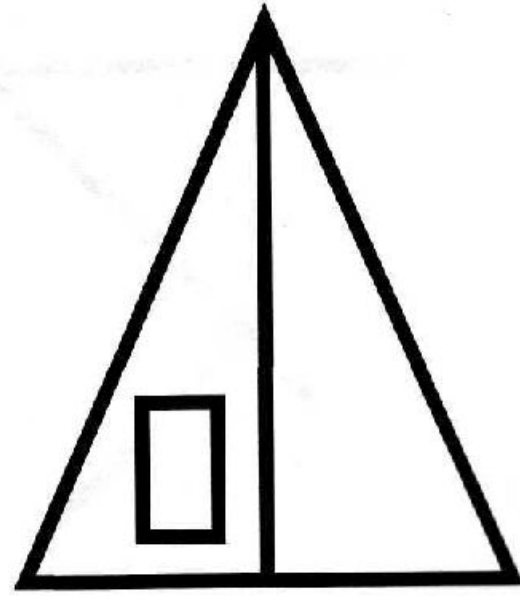

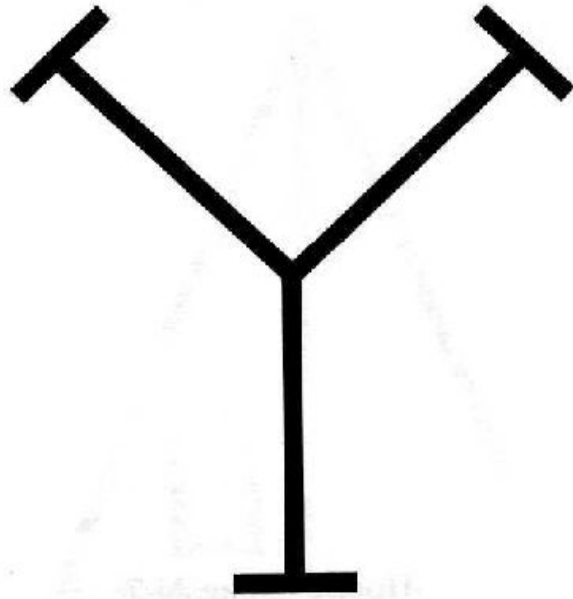
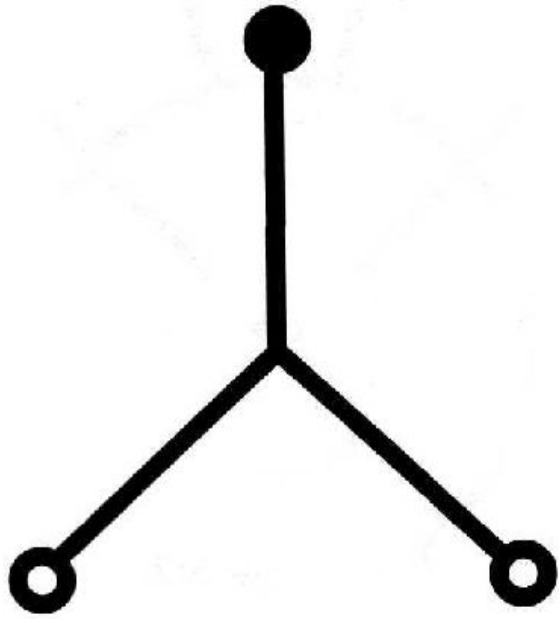
1. ТРЕНИРУЕМ ВНИМАНИЕ

Запомни изображения и нарисуй как можно точнее.

--	--	--	--







2. Перед тобой таблицы, в которых в произвольном порядке должны быть записаны все числа от 1 до 20. Но чисел 20, а клеточек 16. Найди и запиши по четыре отсутствующие числа в каждой таблице.

8	4	14	2
13	18	10	16
19	1	5	20
6	11	17	9


3, 7, 12, 15

1	13	4	9
8	18	2	16
19	5	14	17
3	15	10	7

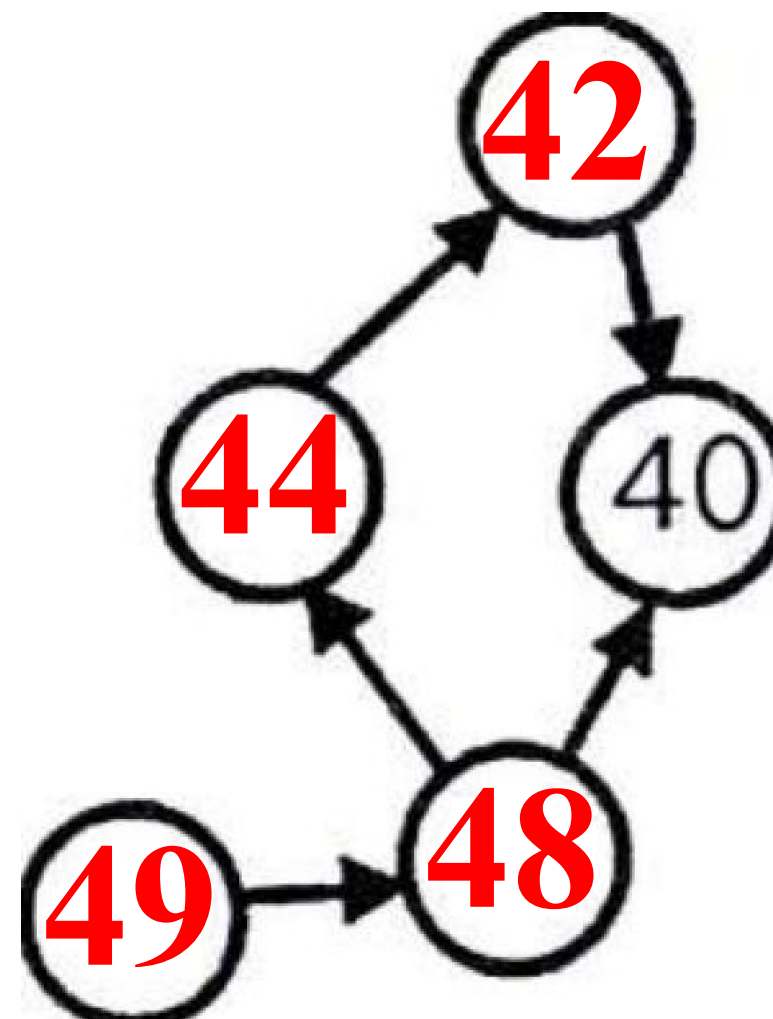
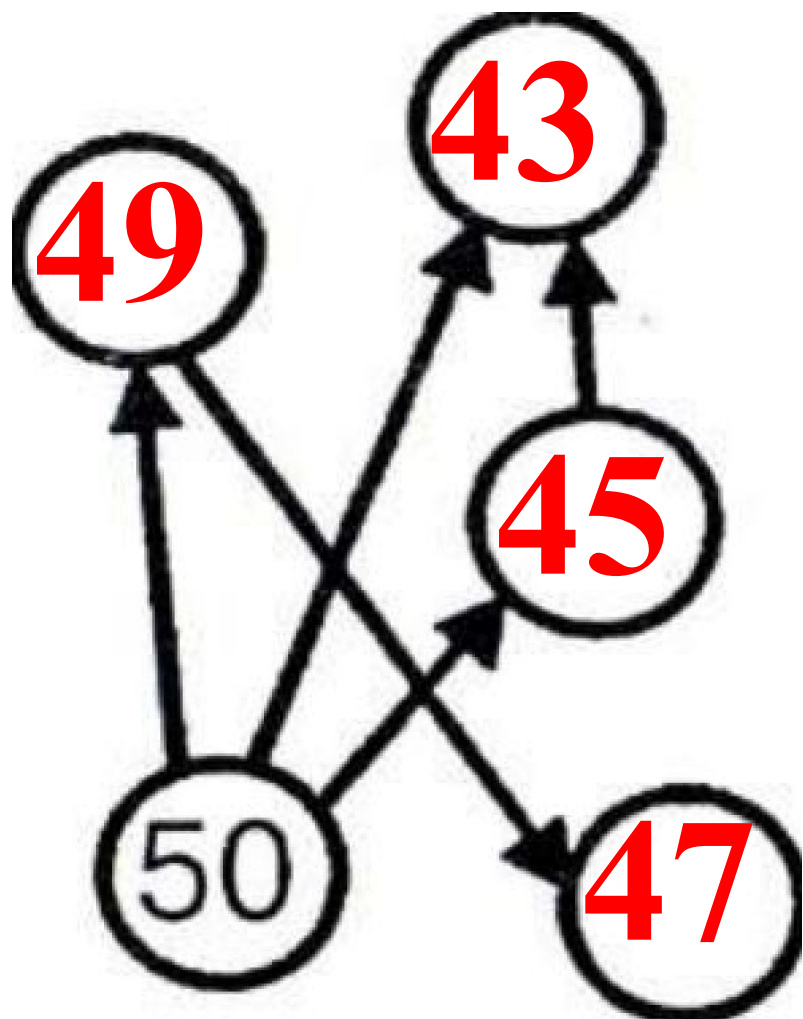
6, 11, 12, 20

3. Как можно быстрее сосчитай и напиши, сколько кирпичей выпало из стены здания.

16



4. Расставь любые числа (от 40 до 50) в кружки так, чтобы стрелка всегда была направлена от кружка с большим числом к кружку с меньшим.



5. ЛОГИЧЕСКИ-ПОИСКОВЫЕ ЗАДАНИЯ


ЯР

ПАР

КАКТ

РЕБ

ГЛОБ



То, что есть на лице у некоторых мужчин.

ПАР

ВИНОГР

ГР

С



АНТОНИМ К СЛОВУ

РАЙ

6. От прилагательных образуй имена существительные, которые называют людей.

умный – умник, умница

богатый – богач, богачка

хитрый – хитрец

добрый – добряк

храбрый – храбрец

чистый – чистюля

бедный – бедняк

грязный – грязнуля

слабый – слабак

сильный – силач, силачка

гордый – гордец

грубый – грубиян

весёлый – весельчак

крепкий – крепыш

глупый – глупец

злой – злюка

смелый – смельчак

умелый – умелец

трусливый – трус

счастливый – счастливец

7. Замени в предложениях и текстах повторяющиеся слова синонимами.

У тётушки была медленная походка, медленная речь и медленные жесты.

неторопливый
медлительный

Когда выступали клоуны, было очень весело, и мы все громко смеялись. Только Серёжка смеялся так, что на него зашикали. Он долго сдерживался, а потом как засмеётся. Анюта, как всегда, была серьёзная и лишь изредка смеялась. А вот подружка Вика, когда ей было особенно смешно, тихо смеялась.

хихикать
улыбаться
хохотать
заливаться

У тётушки была **неторопливая**
походка, медленная речь и
медлительные жесты.



Когда выступали клоуны, было очень весело, и мы все громко смеялись. Только Серёжка **хохотал** так, что на него зашикали. Он долго сдерживался, а потом как **зальётся**. Анюта, как всегда, была серьёзная и лишь изредка **улыбалась**. А вот подружка Вика, когда ей было особенно смешно, тихо **хихикала**.

8. УЧИТЬСЯ РЕШАТЬ, СТАРАЯСЬ

РАССУЖДАТЬ

Во сколько раз лестница на 4 этаж в школе длиннее лестницы на 2 этаж?

**В 3
раза**



9. На уроке физкультуры нужно было прыгнуть в длину с места на 90 см. В первый раз Даше не хватило до нормы 20 см, во второй раз она улучшила свой результат на 5 см, а в третий раз она перепрыгнула норму на 2 см. На сколько см последний результат Даши больше второго?

$$1) 90 - 20 = 70$$

$$2) 70 + 5 = 75 \text{ (см)}$$

$$3) 90 + 2 = 92 \text{ (см)}$$

$$4) 92 - 75 = 17 \text{ (см)}$$



10. Поросята Ниф-Ниф и Нуф-Нуф бежали от Волка к домику Наф-Нафа. Волку бежать до поросят (если бы они стояли на месте) 4 минуты. Поросятам бежать до домика Наф-Нафа 6 минут. Волк бежит в 2 раза быстрее поросят. Успеют ли поросята добежать до домика Наф-Нафа?

$$4 + 6 : 2 = 7$$

$$(7 \text{ мин}) > 6$$

Поросята успеют

