




# УСТНЫЙ СЧЁТ

Прогулка  
по городу  
1 класс



В трамвае едут числа, назови «соседей»





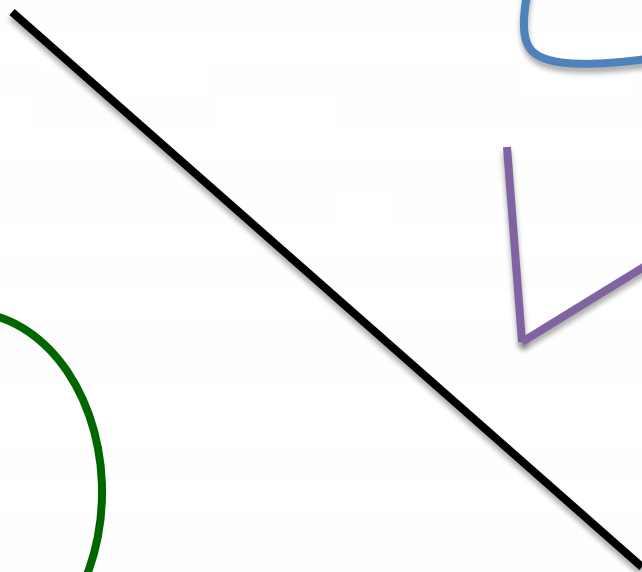

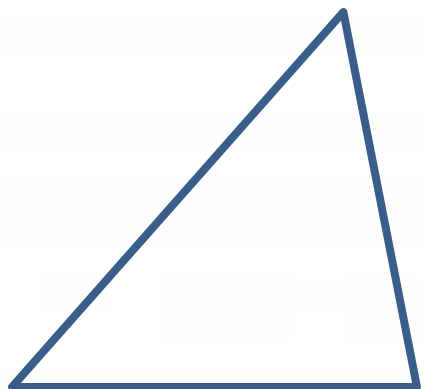
Определи номера следующих домов на улице Цветочной, соблюдая закономерность



Определи номера домов на противоположной стороне улицы Цветочной



Улицы города образовали фигуры,  
назови эти фигуры



Реши правильно, чтобы перейти дорогу

$$4 + 3 = \textcircled{8} - 1$$

$$\textcircled{1} + 5 = 9 - 3$$

$$10 - 3 = \textcircled{4} + 3$$

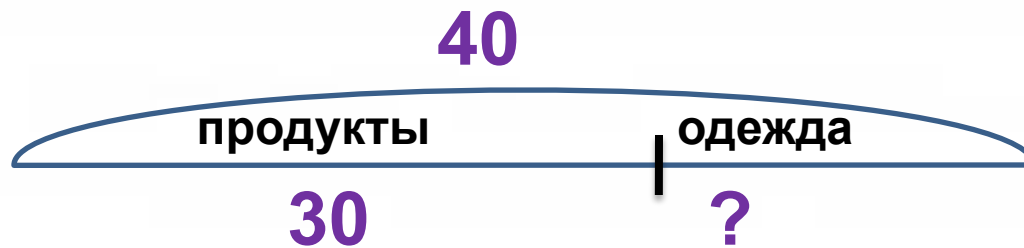
$$8 + 2 = 20 - \textcircled{10}$$

$$\textcircled{2} + 7 = 10 - 1$$



**1** **2** **3** **4** **5** **6** **7** **8** **9** **10**

В городе **40** магазинов, из них **30** торгуют продуктами, а остальные одеждой.  
Сколько магазинов продают одежду?



$$40 - 30 = 10 \text{ (м.) - одежды}$$

**Ответ: 10 магазинов одежды**

