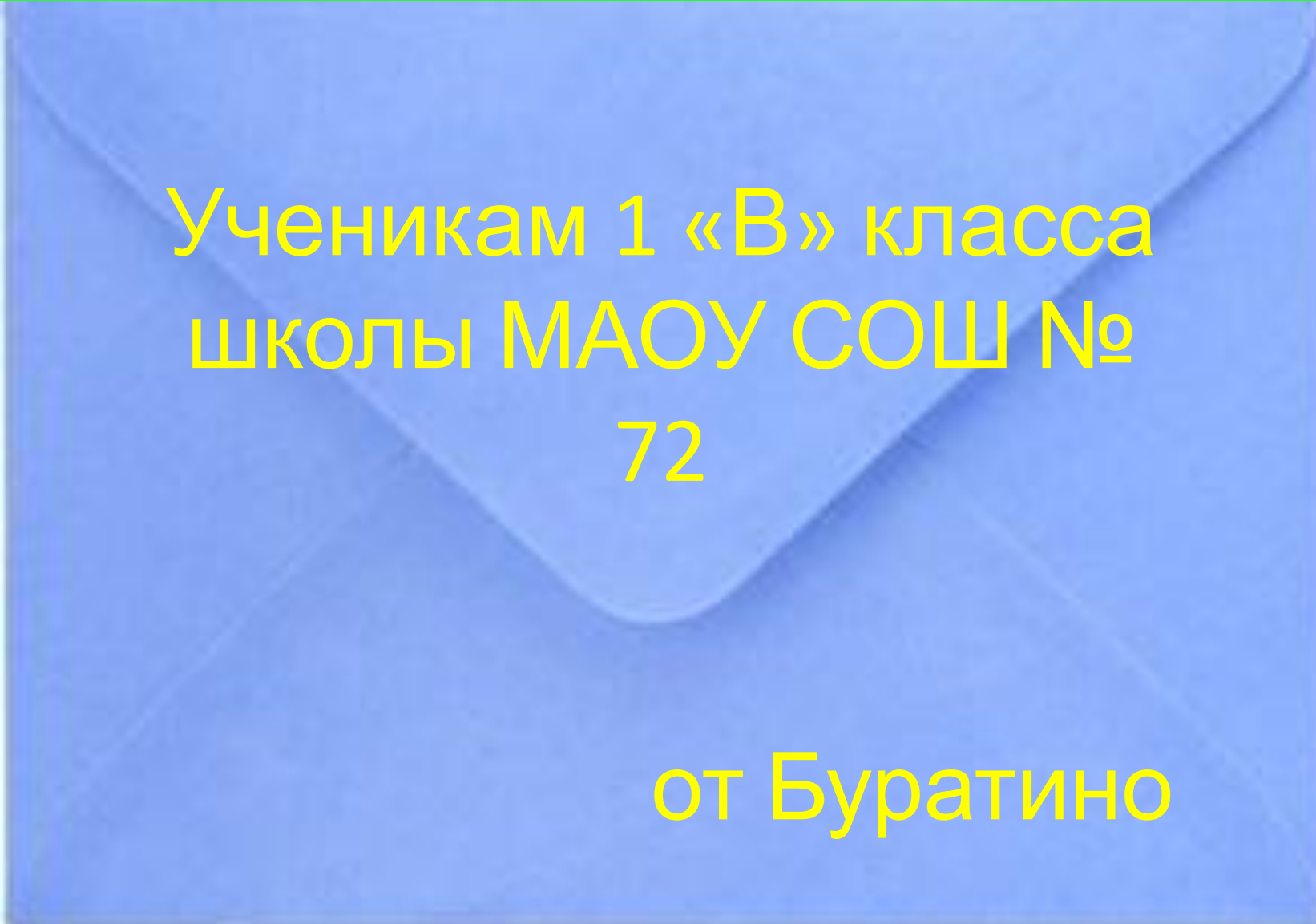


**Путешествие в  
страну  
Занимательной  
Арифметики**

---

Он из полена вдруг возник  
Весёлый, юный озорник,  
Ребята, не считая за труд,  
Скажите, как его зовут?



A blue envelope with a white border, set against a green background. The envelope is slightly open at the top. The text is written in yellow.

Ученикам 1 «В» класса  
школы МАОУ СОШ №  
72

от Буратино

Дорогие мои друзья-школьники

---

Я очень рад, что вы знаете сказку “Золотой ключик” так хорошо, из неё я пришёл к вам. Большое вам спасибо! Пишу это письмо и хочу обратиться к вам за помощью. Герои сказки прислали мне свои задания по математике, которые мне нужно решить. А так, как я не пошёл в школу и умею считать только до 5, то прошу вас помочь мне решить эти задачи! Заранее вам благодарен! Желаю успеха! Буратино.

## Письмо от Артемона

---

Милый пёсик Артемон  
Встал на задних лапах...  
Перед ним два примера.  
Пудель смотрит, он  
притих, даже кость не  
гложет,  
Но как решить их – он  
понять не может!



$$50-40=10$$

---

$$60+10=70$$

$$79-30=49$$

$$32-2=30$$

$$56-5=51$$

$$22+8=30$$



1. Портной сшил за неделю 17 костюмов, а его помощник сшил за это же время на 5 костюмов меньше. Сколько костюмов сшил помощник портного?

Ответ:  $17 - 5 = 12$  (к)-сшил помощник портного

2. Мешок яблок весит 10 кг, а мешок картошки весит на 4 кг больше, чем мешок яблок. Сколько весит мешок картошки?

Ответ:  $10 + 4 = 14$  (кг)- весит мешок картошки.



## Письмо от лисы Алисы

---

На улице  
Бассейной  
жила одна лиса  
И иногда  
рассеянной  
Она была.



$$1) 25 + \dots = 35$$

$$25 + 10 = 35$$

---

$$2) \dots + 10 = 37$$

$$27 + 10 = 37$$

$$3) 45 - \dots = 25$$

$$45 - 20 = 25$$

$$4) 37 - \dots = 27$$

$$37 - 10 = 27$$

## Письмо от кота Базилио

---

Поспела новая  
игра,  
Нелёгкое задание.  
За дело взяться  
вам пора и  
проявить старание!





$10+8+20$

$50+2+10$



$38-8-10$



$40-10-20$



$10+8+2$

$60+5+20$



$80-7$

$0-5$



## Письмо от черепахи Тортиллы

---


Вот ещё одна задача.  
Ждёт смышлёного  
удача.

1, 2, 3, 4, 5 – будем  
ребусы решать.






Точка



Восемь



Счёт

# Письмо от Пьеро

---

Пьеро – поэт рассеянный  
Жил на улице Бассейной.  
И такие вот задачки  
Сочинял для вас, ребятки.



---

У Коли в альбоме лежит 20 марок, у Саши в альбоме лежит 34 марки, у Пети в альбоме лежит столько марок, сколько у Коли и Саши вместе. Сколько всего марок лежит у Пети в альбоме?

Ответ:  $20+34=54$  (м)-лежит у Пети в альбоме

В корзине лежало 18 груш. Петя взял 6 груш, а потом ещё 4 груши. Сколько груш осталось лежать в корзине?

Ответ:  $18-6-4=8$  (г)-осталось лежать в корзине



---

Бабушка принесла из сада 19 огурцов. 4 огурца бабушка положила в салат, 12 огурцов она использовала для засолки. Сколько огурцов осталось у бабушки?

Ответ:  $19 - 4 - 12 = 3$  (о)-осталось у бабушки

---

Кто в соревнованье победит  
Конечно, лучший эрудит!  
У меня сомнений нет –  
Вы дадите мне ответ.

---

$$3 + 8 = 11$$

$$4 + 1 = 3$$

$$67 - 60 = 7$$

$$2 + 11 = 2$$

---

$$14 + 3 = 17 \text{ мо}$$

$$5 + 15 = 20 \text{ ло}$$

$$3 + 15 = 18 \text{ дцы}$$

**Молодцы!**

---

Знаю – кто уроки учит,  
Ключик золотой получит.  
С ним в мир знаний, мне поверь,  
Ты всегда откроешь дверь!

Чего не хватает на лице Буратино?

---



