
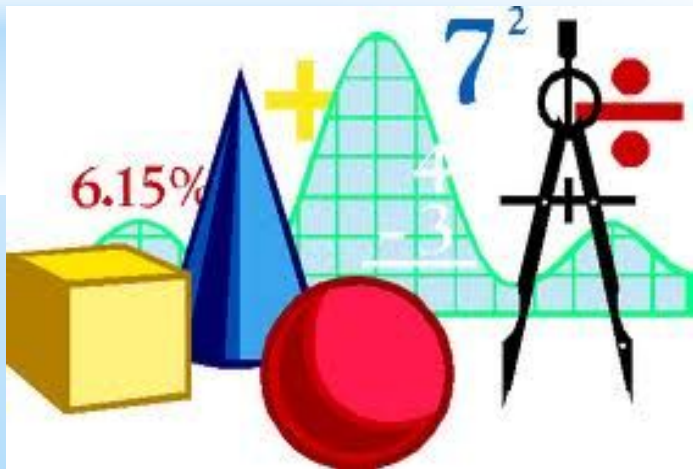



# \* Математические ГОЛОВОЛОМКИ

Выполнила  
Учитель начальных классов  
Горшкова В.С.



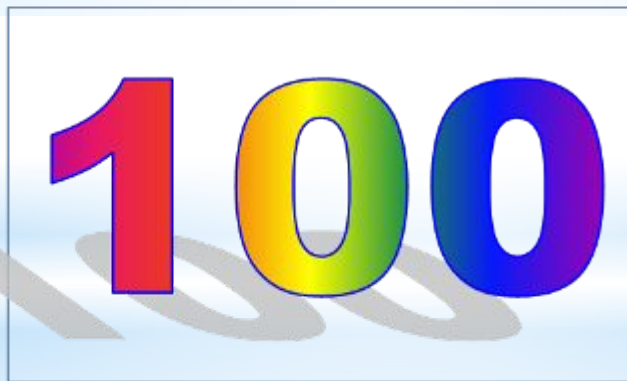
*\* Помогите Незнайке разгадать математические ребусы.*





1

8



СТОГ



число



2



счёт



5





задача

МИНУС



ТОЧКА



сорока Родина



подвал

# Задачи на смекалку






**1) Надо разделить поровну 4 яблока между 13 детьми.**

**Как лучше всего это сделать?**



***Лучше всего сделать яблочный сок.***

**2) Температура тела у человека меньше температуры тела голубя, но больше температуры тела слона. У кого из них термометр покажет самую высокую температуру?**



***У голубя.***






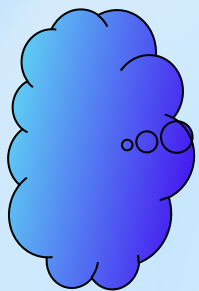
**3) Яйцо всмятку варится 4 минуты.  
А сколько варятся 5 яиц?**

**4 минуты.**


**4 ) Лежали конфеты в кучке. Две матери, две  
дочки да бабушка с внучкой взяли конфет по  
одной штучке, и не стало этой кучки.  
Сколько конфет было в кучке?**

**3 конфеты.**





**Ребята, берегите зрение!**



**Помогите Незнайке переложить две палочки так, чтобы листики оказались вне «лопатки»**






# *Проверка*




\* **Постройте из спичек такой домик. Поверните его к нам другой стороной, передвинув только две спички.**





***Проверка.***





$$4 \quad 4 \quad 4 \quad 4 = 8$$

$$2 \quad 2 \quad 2 \quad 2 = 4$$

$$5 \quad 5 \quad 5 \quad 5 = 26$$

$$9 \quad 9 \quad 9 \quad 9 = 63$$

**\* Расставьте знаки действий и скобки так, чтобы равенства были верными.**

# Молодцы!

