



# Математика



Сабақтың тақырыбы:

# Пысықтау

Бастауыш сынып мұғалімі:  
Хуандық Аягөз.

# Сабақтың мақсаты:

1. Өткен тақырыптарды пысықтау арқылы оқушылардың білімін, біліктілік дағдыларын тиянақтау және бекіту.
2. Оқушылардың ақыл-ойын, ой-өрісін дамыту. Тапқырлыққа, ізденімпаздыққа, алғырлыққа, танымдылыққа баулу. Ауызша есептей алу дағдысын қалыптастыру. Пәнге қызығушылығын, белсенділігін арттыру.
3. Өз бетімен жұмыс жасай отырып, өзінің де, өзгенің де еңбегін қадірлей білуге, ұқыптылыққа тәрбиелеу.

# *Психологиялық дайындық*

Шырылдады қоңырау  
Біз сабақты бастаймыз  
Жақсы білім алуға  
Алға қадам бастаймыз  
Оң жақтағы көршіге  
Сол жақтағы көршіге  
Қайырлы таң дейміз,  
Содан кейін баршаға  
Сәттілік біз тілейміз!

# Үй тапсырмасы:

4 санының қосу кестесі  
мен азайту кестесін еске  
түсірейік.



## 115 бет №5

- $0+4=4$
- $1+4=5$
- $2+4=6$
- $3+4=7$
- $4+4=8$
- $5+4=9$
- $6+4=10$

- $10-4=6$
- $9-4=5$
- $8-4=4$
- $7-4=3$
- $6-4=2$
- $5-4=1$

# Қысқы орман







Көрші сандарды ата.

1	2	3
2	3	4
4	5	6
7	8	9

# Тиіннің тапсырмасы



*Tuin*



# Тиінға жаңғақ жинауға көмектес!

$10 - 4$



$3 + 7$



$5 - 3$



$4 + 4$

$9 - 3$



$6 - 5$

$7 + 1$



# Бұғының тапсырмасы



Алмаста —



Олжаста —



> ? алмұрт

$$3 + 4 = 7$$

Жауабы: 7 алмұрт

СЕРГІЙ

СОСТІ



# Қасқырдың тапсырмасы



$8+1$

$7+2$

$6+3$

$5+4$

$1+8$

$2+7$

$3+6$

$4+5$





# *Түлкінің тапсырмасы*



# *Салыстыру*

$$6*8-2$$

$$7-2*6$$

$$9*7-1$$

$$5+2*9$$

$$2*6-2$$


$$3+2*5$$


$$5*3$$


$$7*8$$


# *Аюдың тапсырмасы*





$6 + 1 =$  

$6 +$    $= 6$

$9 - 1 =$  

$2 + 8 =$  

$9 -$    $= 7$

$8$    $= 6$

$3 + 5 =$    $8 + 2 = 10$



# ОЙЫН: “Кім жылдам?”

$7 + 1$

8

$3 + 6$

9

$7 - 3$

4

$3 + 5$


8

$0 + 6$

6

$6 - 3$

3



# Сергіту сәті

*Бала, бала, балақан,  
Қане, қайсы алақан.  
Саусақтарың әйбат,  
Былай-былай ойнат.  
Оң қолымда бес саусақ,  
Сол қолымда бес саусақ.  
Екі қолды қосқанда,  
Болады екен он саусақ.*

# ВЕНН диаграммасы

## Ұқсастығы

1

бірлік

бір таңбалы сан

Екеуі де сан

Екеуінде де 1 цифры кездеседі

10

ондық

екі таңбалы сан



# Қорытынды

**«Доп лақтыру» ойыны**







# Үйге тапсырма

117 бет №5



# Бағалау





## *Қорытынды:*

*Оқуда алғыр болыңдар!*

*Ойлауда даңғыл  
болыңдар!*

*Көк аспанда жарқырап,*

*Жұлдыз болып*

*жаныңдар!*

**Сонымен сабақ**

**аяқталды, балалар!**

# Сабақ аяқталды

Назар қойып тыңдағандарыңызға рахмет!

