



12. 01. 2012 ж.

Сабақтың тақырыбы:
Білімді тиянақтау

Сынып жетекшісі: Абенова Гүлсара.



Сабақтың мақсаты:

Білімділік: Өткен сабақты пысықтай отырып, есептер шығару, білімдерін тиянақтау.

Дамытушылық : Оқушылардың логикалық ойлауы, ауызша есептеу дағдыларын, танымдық, шығармашылық белсенділіктерін арттыру.

Тәрбиелік мәні: Пәнге деген сүйіспеншілігін ояту, ұйымшылдыққа, адамгершілікке және тез есептеуге, шапшаңдыққа тәрбиелеу.



Сабақтың жоспары.

1. Психологиялық дайындық.
2. Үй тапсырмасын тексеру.
3. Бәйге сұрақ.
4. Жаңа сабақ.
5. Оқулықпен жұмыс.
6. Сергіту сәті.
7. Логикалық ойындар.
8. Математикалық диктант.





Бәйге сұрақтары.

5 пен 8 қосындысы.

13

11 мен 6 айырмасы

5

7 мен 7 қосындысы

14

18 санында неше ондық, неше
бірлік бар?

1 онд 8 бірл

20 мен 2 қосындысы

22

12 мен 6 айырмасы

6



Бір тәулікте неше сағат бар?

24



Бір аптада неше күн бар?

7

5 пен 9 қосындысы

14

20 мен 30 қосындысы

50



1 сағатта неше минут бар

60



1 дециметрде неше сантиметр бар

10



24 санының бірлігін ата

4



5-тен кейінгі жұп сан.

6

4 пен 7 қосындысы

11



13 пен 6 айырмасы

7



Қосу амалына кері амал.

—

(азайту)



10 мен 2 қосындысы

12

14 пен 4 айырмасы

10



2 дециметрде неше сантиметр бар.

20



1 ғасырда неше жыл бар?

100



1 жылда неше күн бар?

365 немесе 366

Көп бұрыштың қабырларының
қосындысын не деп атайды?

периметр

88 санында неше ондық, неше
бірлік бар?

8 онд 8 бірл

15 пен 9 айырмасы

6



68 бен 5 айырмасы

63



12. 01. 2012 Ж.

СЫНЫП ЖҰМЫСЫ.
БІЛІМДІ ТИЯНАҚТАУ

Мысал : 1

Санды теңдіктерді, санды теңсіздіктерді, санды өрнектерді, әріпті өрнектерді, теңдеулерді жеке-жеке бағандарға теріп жаз. Теңдеулерді шеш:

$$30 + 6 > 40 - 10$$

$$9 + x = 29$$

$$(80 - 50) + 6$$

$$80 + 5 = 85$$

$$(80 - 50) + 6$$

$$30 + 10 > 60 - 40$$

$$56 - 6 = 50$$

$$40 + 20 > 80 - 30$$

$$(a + 9) + 20$$

$$x + (50 - 20)$$

$$(70 - 40) + a$$

$$29 < 39 - 9$$

$$29 - a = 9$$

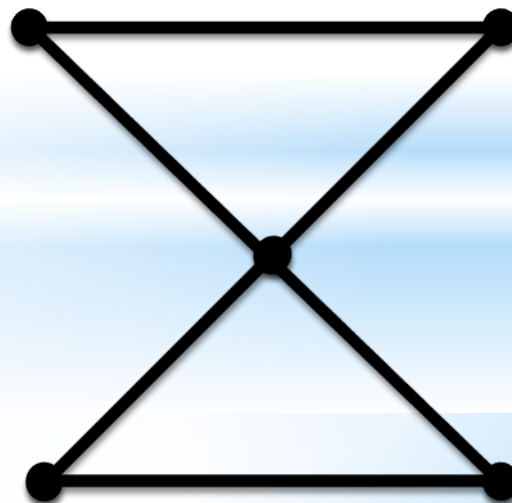
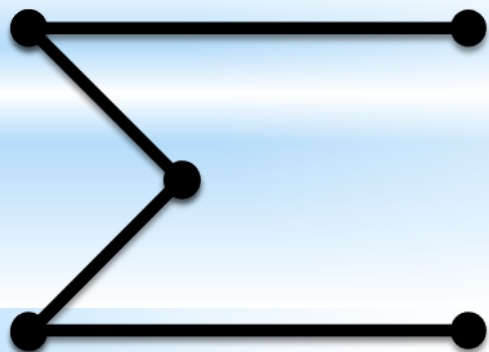


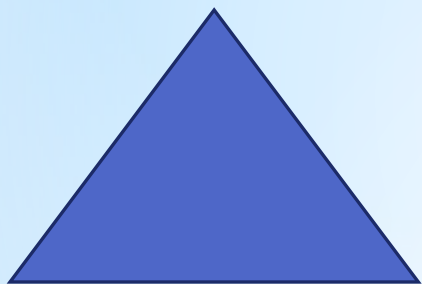
$$x - 20 = 9$$

$$49 + 9 > 47$$

$$30 + x = 36$$

Санды теңдіктер	Санды теңсіздіктер	Санды өрнектер	Әріпті өрнектер	Теңдеулер
$80 + 5 = 85$	$30 + 6 > 40 - 10$	$(80 - 50) + 6$	$(a + 9) + 20$	$9 + x = 29$
$56 - 6 = 50$	$30 + 10 > 60 - 40$	$(80 - 50) + 6$	$x + (50 - 20)$	$29 - a = 9$
	$29 < 39 - 9$		$(70 - 40) + a$	$x - 20 = 9$
	$49 + 9 > 47$			$30 + x = 36$
	$40 + 20 > 80 - 30$			

Мысал: 2




Есеп: 3

Сызғыш - 52 теңге

Қарындаш - ? 30 тг арзан

Барлығы неше тг - ?



Сергію сәмі



$$8+7-3$$



$$7+5-8$$



$$9+2-1$$



$$9+4-3$$



Математикалық диктант

$$8 + (40 - 20) = 28$$

$$9 + (30 - 10) = 29$$

$$(60 - 50) + 7 = 17$$

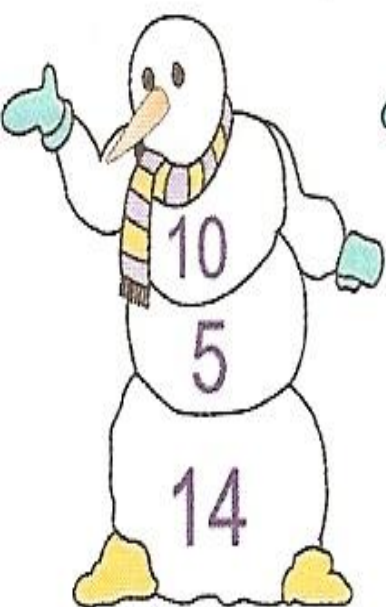
$$(45 - 10) - 4 = 31$$

$$(9 + 6) + 3 = 18$$

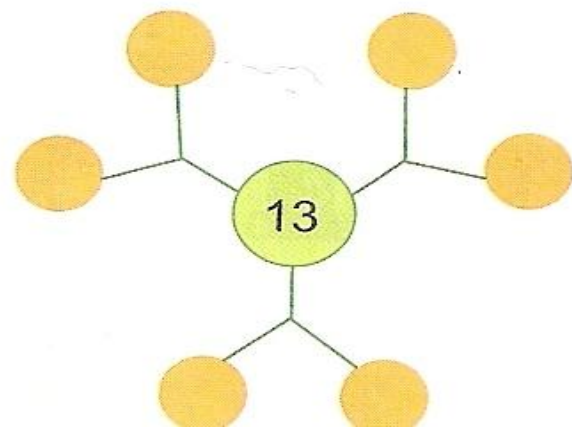
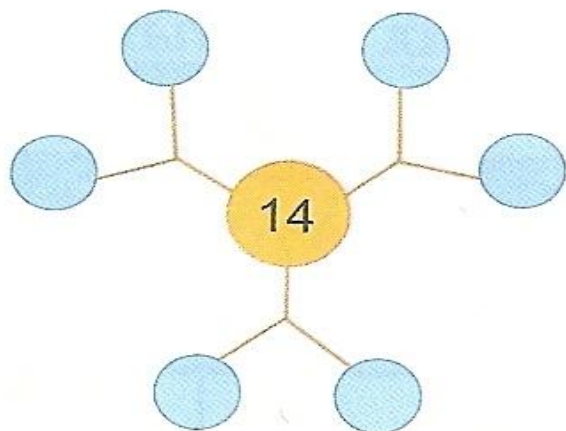
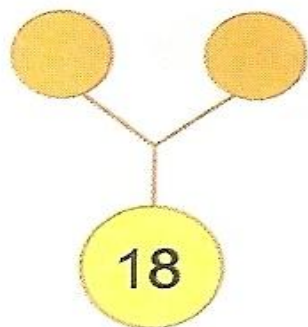
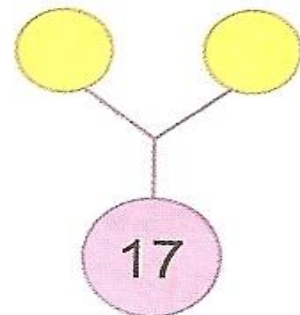
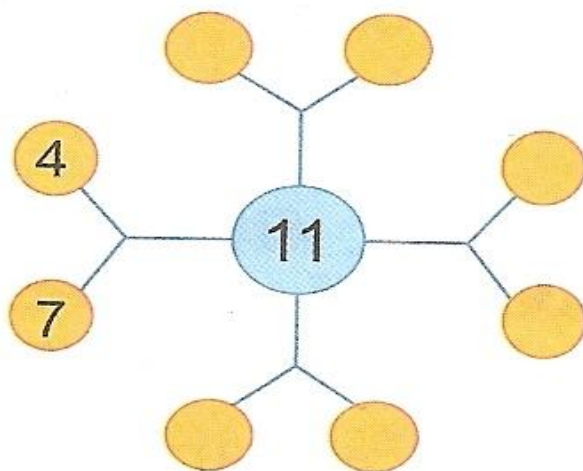
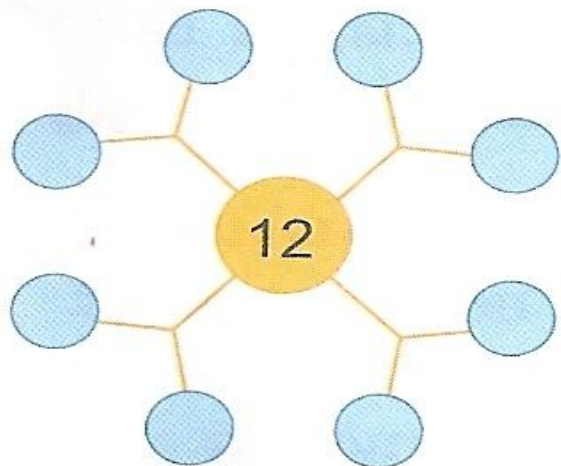
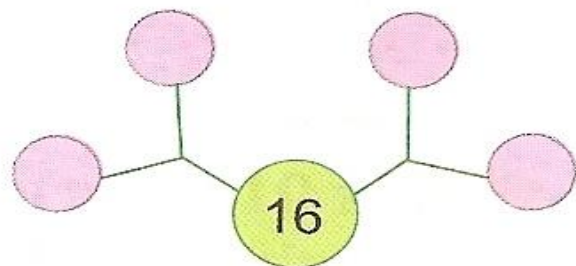
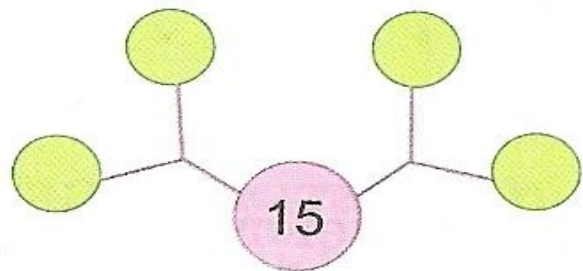
$$30 + (7 - 3) = 34$$

Кел, ойнайық!


Аққалаға қалпақ кигізі.



Есеніе!




“Тез есепте” ойыны.




$$8 + 6 - 1 - 1 = 3$$

A sequence of blue circles containing the numbers and symbols: 8, +6, -1, -1, =, 3.



$$5 + 6 + 5 + 1 = 0$$


A sequence of blue circles containing the numbers and symbols: 5, +6, -4, +5, -8, +1, =, 0.



Катыскандарыңызға рахмет! Сау болыңыздар!



Соңы





Теңдеу



Қосы





Шаршы



Геометриялық фигуралардан сөз құрастыру.

