

Урок математики в 4 классе
Тема: «Повторение.
Величины и их измерение.
Действие с величинами.»



Учитель начальных
классов Качарской
средней школы № 1
Барамикова В.М

Минутка чистописания.

Прочитайте число:

629 308



**Путешествие по первой
международной выставке
в Азии- ЭКСПО-2017**

ЛОГОТИП ВЫСТАВКИ



EXPO 2017

• **Future Energy** •

Astana Kazakhstan

Талисманы выставки.



Мəлдір



Сəуле



Қуат

50 000:5000=



X: 25=24:6



Мотоцикл за 5ч преодолел
расстояние 125 км. С какой
скоростью он ехал?



Рабочие отправились на стройку в двух поездах. В одном поезде 15 вагонов по 40 человек, а в другом поезде 400 человек. Сколько всего человек в поезде?



Переведите 5 км^2 в м^2



10 - с 10 июня по 10 сентября;

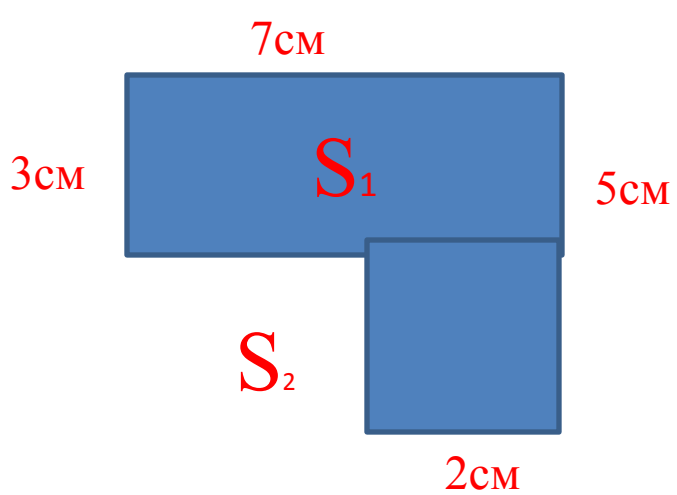
100 - стран-участников;

25- га займёт выставочный павильон;

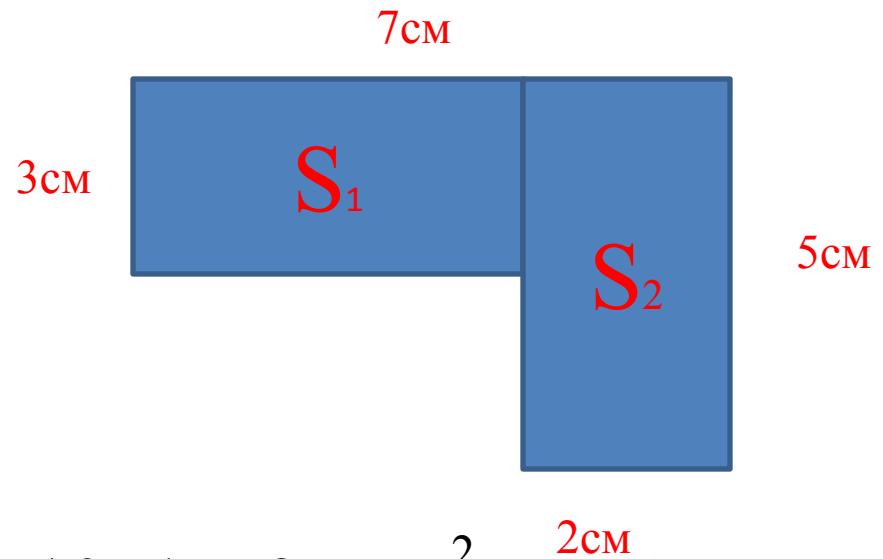
1000-каз. проектов будет представлено;

5000 000 – столько человек
посетят выставку;

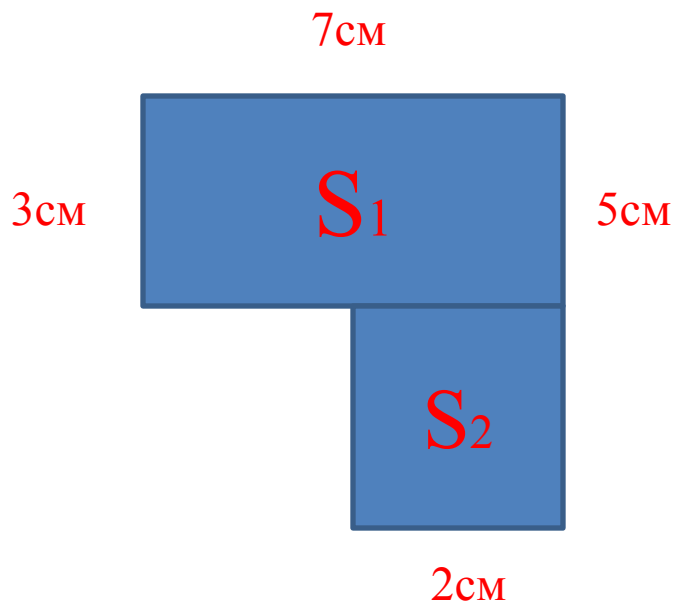




$$35 - 10 = 25 \text{cm}^2$$



$$10 + 15 = 25 \text{cm}^2$$



$$21 + 4 = 25 \text{cm}^2$$



Физминутка.



**Найдите объем воздуха
в комнате со сторонами
12м, 3м, 6м.**

A-12м

B-6м

H-3м

V-?

$$12 * 3 * 6 = 216 \text{ м}^3$$

$$1 \text{ м}^3 = 1000 \text{ л}$$

$$216 * 1000 = 216 \text{ 000 л} \text{ – воздуха}$$



Ветряной генератор г. Ерейментау



Железнодорожный вокзал.



Спасибо за урок, дети!

