


Урок математики УМК «Гармония»



ноября.

Классная работа.

4 11 4 11 4 11 4 11



$17 - 10 = 7$ **р**

$14 - 1 = 13$ **г**

$7 + 5 = 12$ **м**

$16 - 10 = 6$ **е**



$18 + 1 = 19$ **а**

$15 - 5 = 10$ **т**

$9 + 9 = 18$ **л**

10 6 18 6 13 7 19 12 12 19

Т Е Л Е Г Р А М М А

Телеграмма


ПОМОГИТЕ УЗНАТЬ ЧТО ТАКОЕ
ЗАДАЧА

Миша Маша



Тема урока

Задача



1. Уронили мишку на пол,
Оторвали мишке лапу.
Всё равно его не брошу,
Потому что он хороший.

Как можно назвать эти тексты?

2. Два конца, два кольца, посередине-гвоздик.
Что это?



3. Вернулись три медведя домой. Мишутка подбежал к столу и закричал: «Кто сидел на моём стульчике и сломал его?»

4. У мамы-зайчихи было 10 морковок. 6 она отдала своим зайчатам. Сколько морковок у неё осталось?

5. У Ани было 3 куклы и 2 медвежонка. Аня любила свои игрушки.

ЗАДАЧА

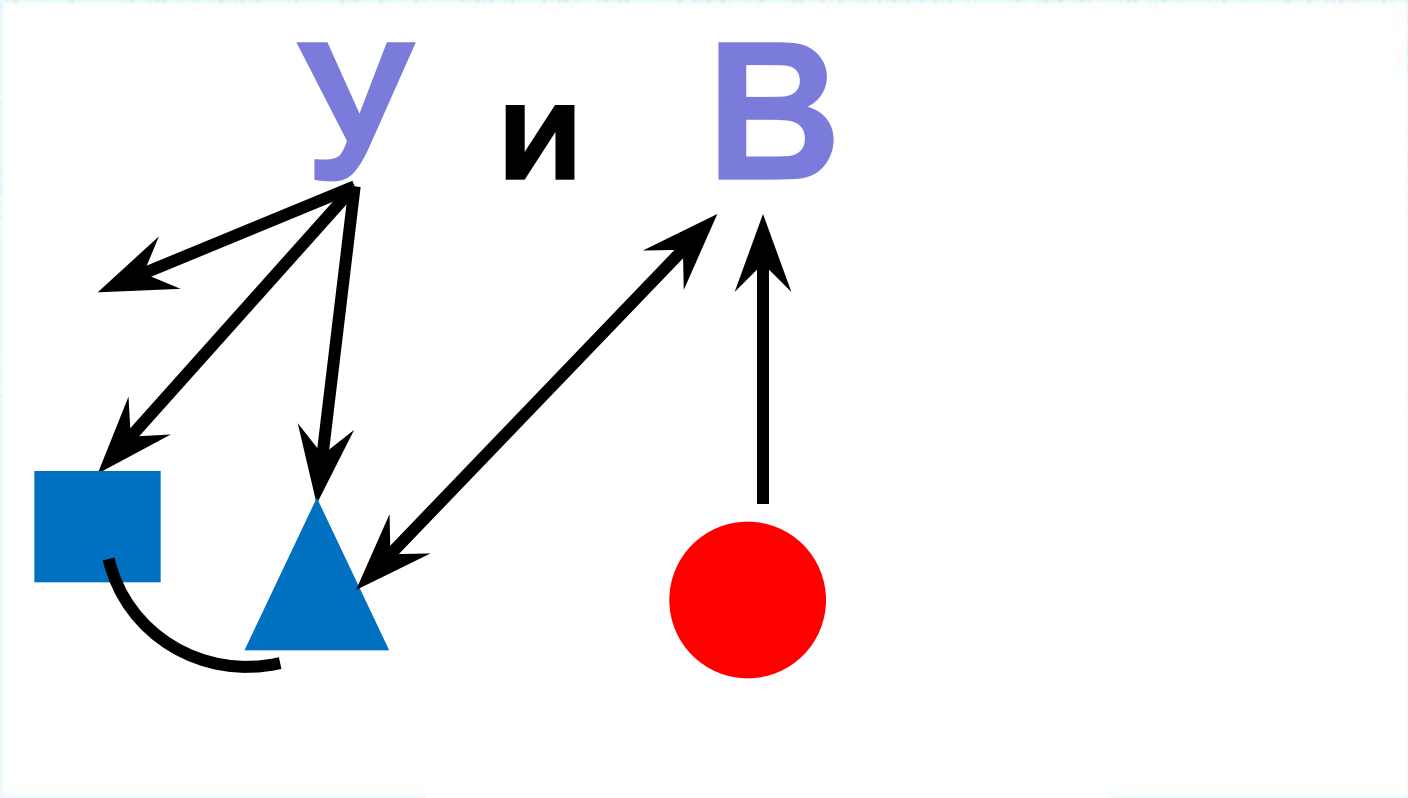
УСЛОВИЕ

ВОПРОС

РЕШЕНИЕ

ОТВЕТ






Найдите задачу.

- У Пети 5 машинок, а у Васи 6 машинок.

- У Пети 5 машинок, а у Васи 6 машинок.
Сколько всего машин у мальчиков?



На полке было



Поставили ещё



Сколько кукол стало на полке?

РАСТВЕРЖИТЕ

На полке стояло 5 кукол.

Поставили ещё 3 куклы.

Сколько кукол стало на полке?

$$5 + 3 = 8 \text{ (к)}$$

Ответ: 8 кукол.



Проверим знания + / -





М О Л О Д Ц Ы !

Итог урока

- Что нового узнали на уроке?
- Что повторяли?
- Каково ваше настроение?

