

Вычисли и
расставь
результаты
числовых
выражений в
порядке
возрастания

1 $520+400=$

Э

2 $370-200=$

Г

3 $520+40=$

О

4 $370-20=$

О

5 $70+50=$

И

6 $140-60=$

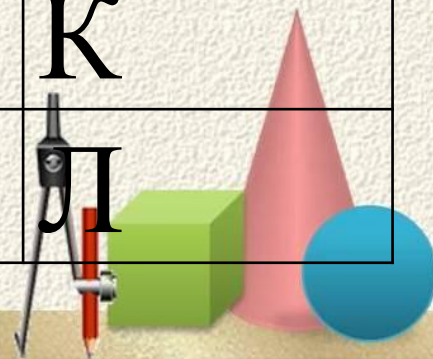
Я

7 $430+250=$

К

8 $430+80=$

Л




1	920	Э
2	680	К
3	560	О
4	510	Л
5	350	О
6	170	Г
7	120	И
8	80	Я



- – Итак, эта наука – **ЭКОЛОГИЯ**
- в переводе с латинского языка: «**ЭКОС**» - **ДОМ**, «**ЛОГОС**» - **наука**.
- – Какое словосочетание получается?
- *наука о доме*
- – А что за дом имеется в виду? Где живет все человечество?
- *на планете Земля*

– **Значит, Земля – это наш дом, а экология – это наука о Земле.**



ЗДОРОВЬЕ

НАСЛЕДСТВЕННОСТЬ

20%

ОБРАЗ ЖИЗНИ

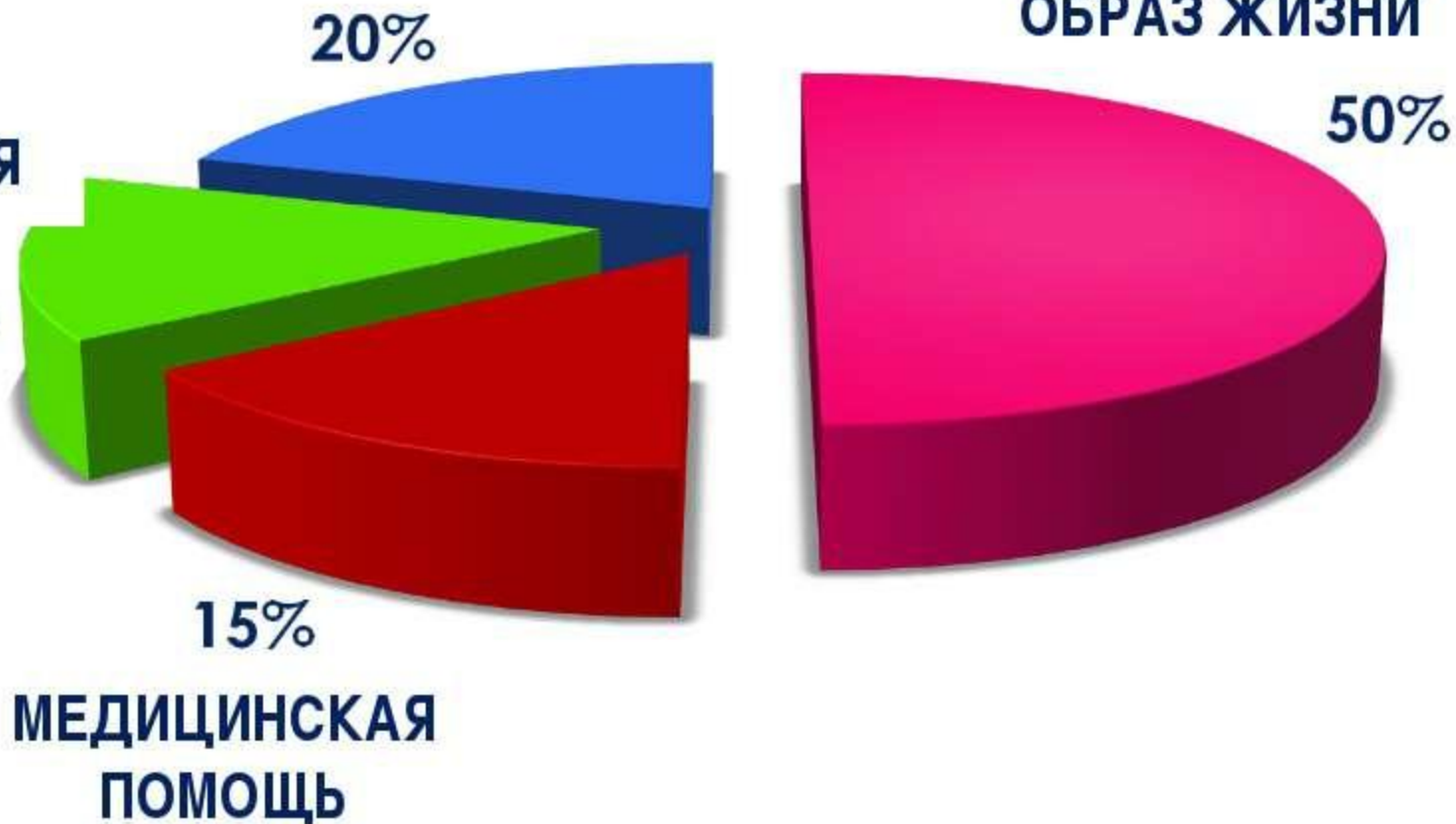
50%

ЭКОЛОГИЯ

15%

15%

МЕДИЦИНСКАЯ
ПОМОЩЬ



Тема урока:

**Устные приёмы
сложения и вычитания
вида $430+80$**



Сложение трёхзначных чисел

Сотни складываем с сотнями,

десятки – с десятками

Вычитание трёхзначных чисел

Из сотен вычитаем сотни,

из десятков – десятки.



Сложение трёхзначных чисел

Сотни складываем с сотнями,

десятки – с десятками

Вычитание трёхзначных чисел

Из сотен вычитаем сотни,

из десятков – десятки.



УСТНЫЙ СЧЁТ



Вычислите устно, объясните способ

$610 + 30$

$120 - 70$

$580 - 200$

$310 - 80$

$40 + 80$

$620 + 150$



610+30 десятки складывает с десятками

120-70 складываются (вычитаются) десятки с десятками, десятки переводятся в единицы и справа приписываем ноль

580-200 сотни вычитаем из сотен

310-80 складываются (вычитаются) десятки с десятками, десятки переводятся в единицы и справа приписываем ноль

40+80 складываются (вычитаются) десятки с десятками, десятки переводятся в единицы и справа приписываем ноль

620+150 сотни складываются сотнями, десятки складываются с десятками

150+70 складываются (вычитаются) десятки с десятками, десятки переводятся в единицы и справа приписываем ноль


580-370 из сотен вычитаются сотни, из десятков вычитаются десятки



Прочитай числа:

237 750 906

Сколько сотен, десятков, единиц?



Назови число, в котором

4 сотни 5 единиц

405

7 сотен 6 десятков

760

3 сотни 4 десятка 2 единицы

342



- Дед, бабушка, внучка, Жучка, кошка и мышка тянули-тянули и наконец, вытянули репку. Сколько глаз увидело репку?


(12)

Одна сторона участка дяди Васи длиной 18 метров примыкает к зоопарку, где живет очень любопытный жираф. Один шаг жирафа – 3 метра. Сколько шагов он делает, когда идет от одного края участка до другого.

(6)



- 739, 793, 730, 703, 770,
707, 93
- ($703 = 700 + 3$; $770 = 700 + 70$)



Пришло
время
отдохнуть!

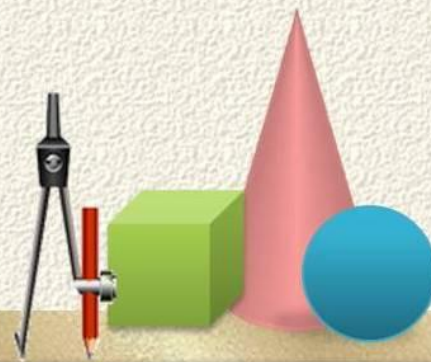




Подумай еще

Реши на
доске

Подумай
еще





2017

**ГОД ЭКОЛОГИИ
В РОССИИ**

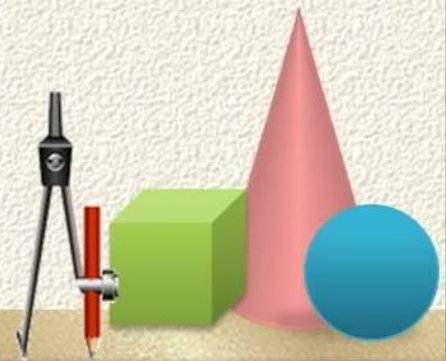




Реши на доске

Подумай еще

Подумай
еще



Усвоил новое знание и
научился его применять

Усвоил новое
знание, но еще
нужна помощь

тема
сегодняшнего
урока осталась
непонятной



Дай Земле шанс!



Домашнее задание

№7,9,10

