

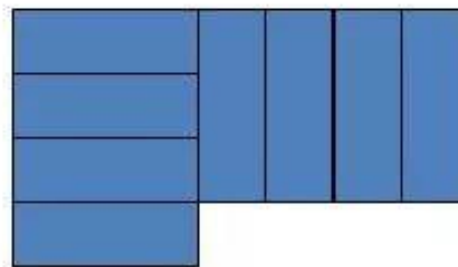
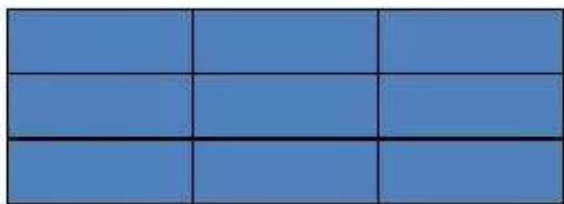
Занятие 23

Психологический настрой на занятие



*Прозвенел и смолк звонок,
Начинаем мы урок.
Улыбнулись, подтянулись,
Друг на друга посмотрели
И спокойно, тихо сели.*

Площадь фигуры - величина, показывающая сколько места занимает фигура на плоскости.



Единица ПЛОЩАДИ

«Как измерить площадь?»

Нет задачи проще!

Поглядите-ка сюда:

Стали мерки в два ряда,

Будто бы солдатики-

Ровные квадратики.

Чтобы площадь нам узнать,

Нужно их пересчитать».

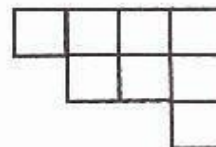
Сравнение фигур по площади

* Сосчитай количество квадратов в каждой фигуре. Рядом с каждой фигурой напиши её площадь. Закрась фигуру самой большой площади жёлтым карандашом, а самой маленькой — зелёным.




10

квадратов



8

квадратов



7

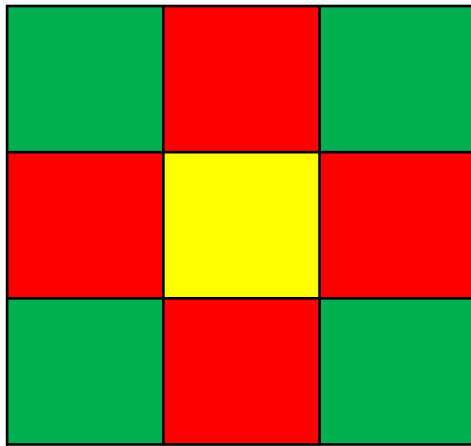
квадратов




9

квадратов

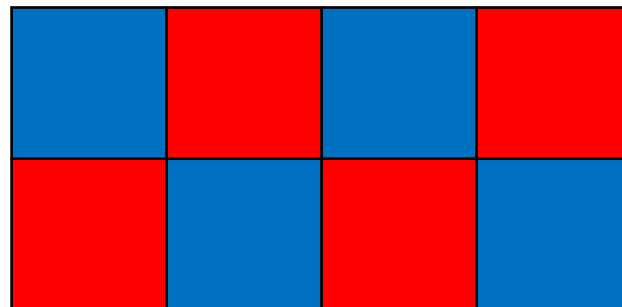
1. Какой коврик занимает больше места (большую площадь)?



9

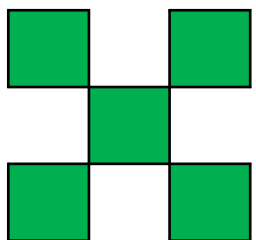


8

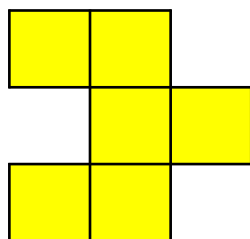


8


2. Найди фигуры, равные по площади, и закрась их одинаковым цветом.




5



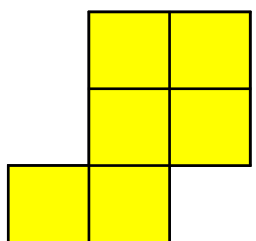
6



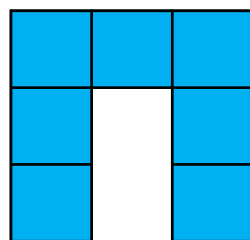
7




4



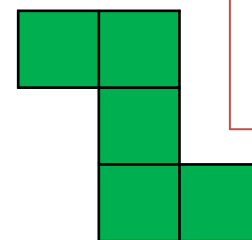
6



7

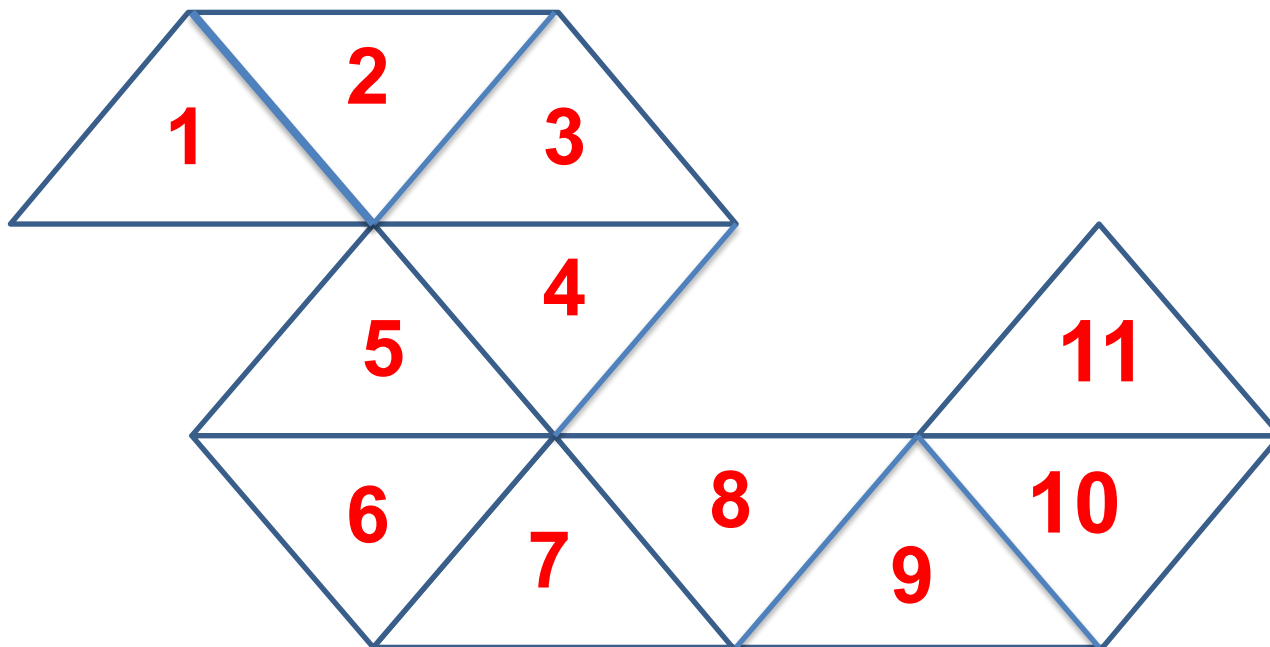


4



5

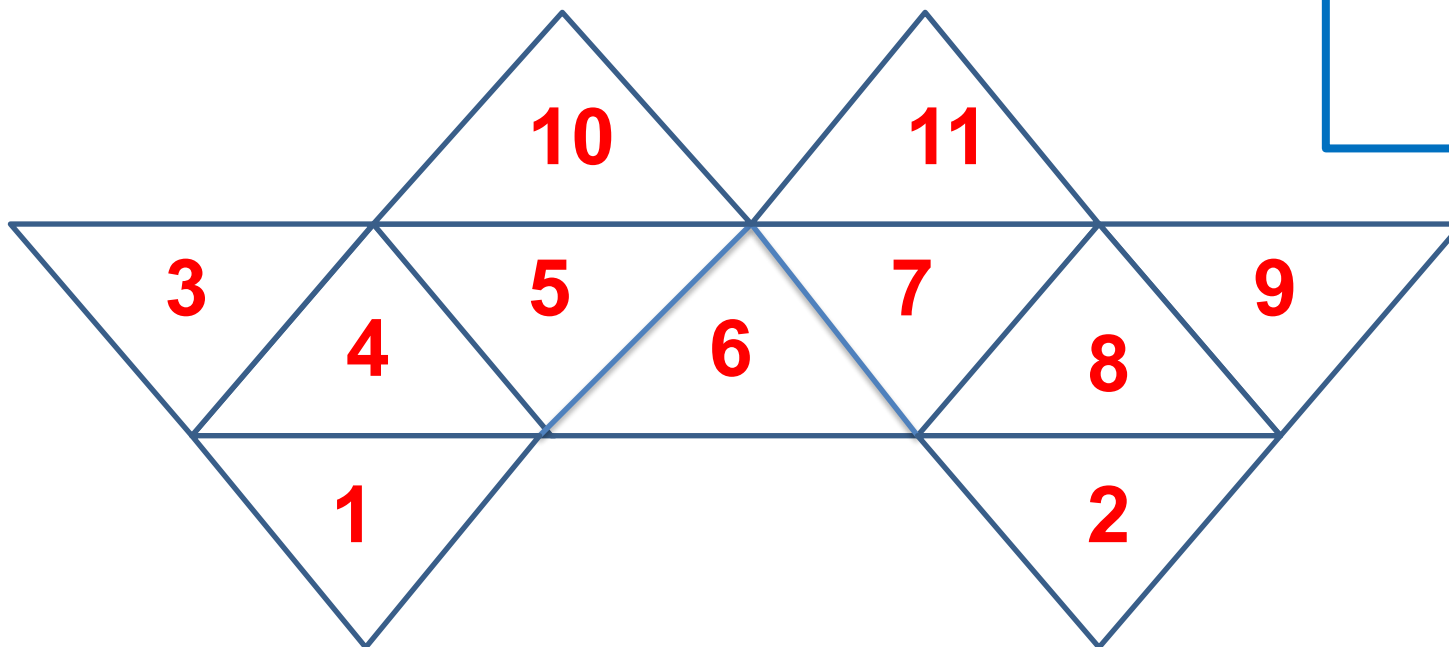
3. Как ты думаешь, какая фигура больше по площади?
Сравни, пересчитав число мерок.



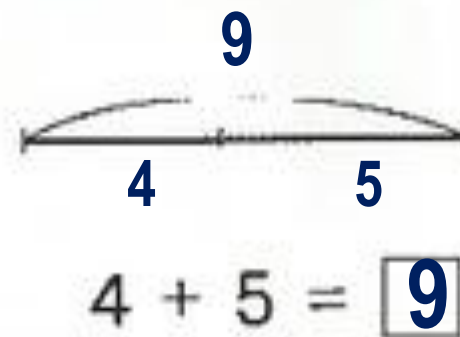
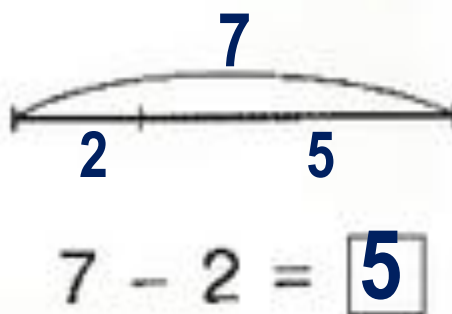
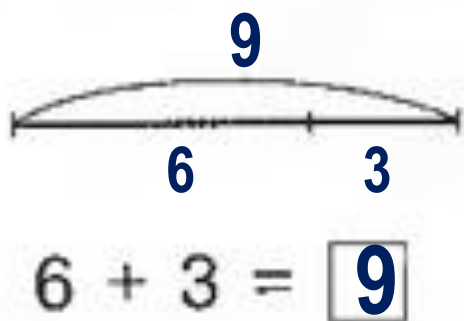

11

3. Как ты думаешь, какая фигура больше по площади?
Сравни, пересчитав число мерок.

11



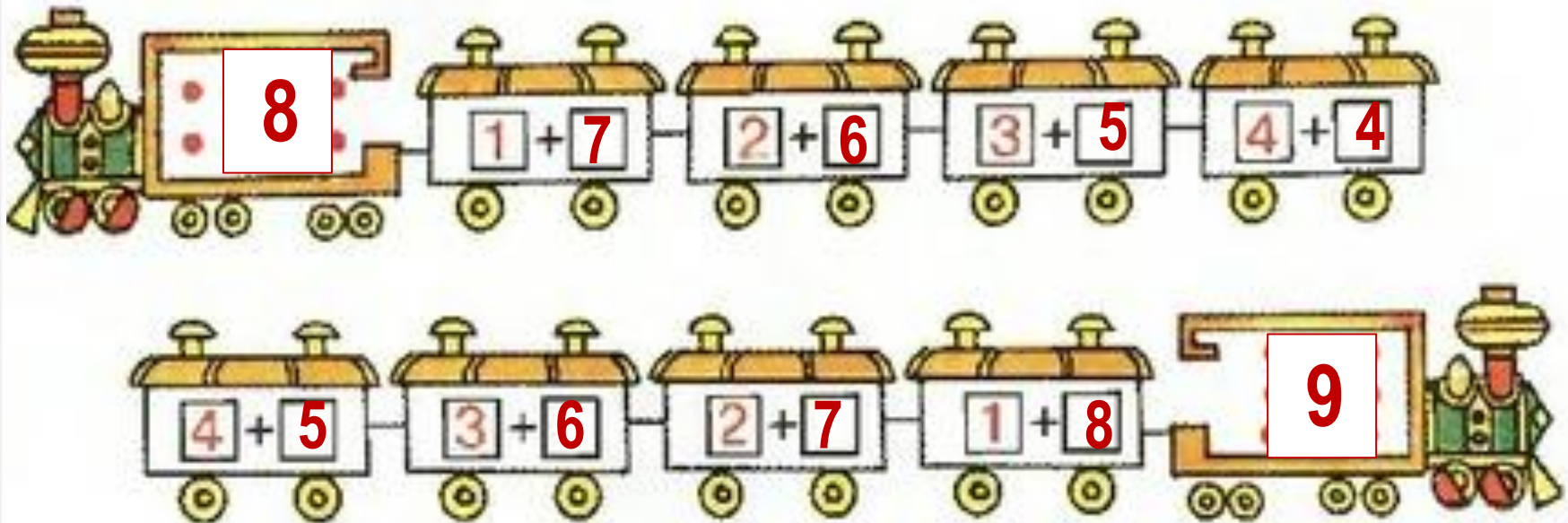
4. Отметь на схеме части и целое. Допиши равенства.



Тема: «Площадь. Измерение площади»

МАТЕМАТИКА

5. Определи номер поезда по точкам на паровозике. Допиши недостающую часть этого числа в пустых окошечках вагонов.



Молодцы!

- С каким новым свойством фигур мы сегодня познакомились? Что оно показывает?**
- Какими мерками мы пользовались при измерении площади?**
- Что вам понравилось на занятии?**
- Что вызвало затруднение?**

Тема: «Площадь. Измерение площади»

МАТЕМАТИКА

Домашнее задание.

