

Тест по математике  
для 3(4)класса

Составил

ученик 3 класса  
МБОУ СОШ №26  
Елисеев Ролан



[Начать тест](#)

**Верно: 14**

**Ошибки: 0**

**Отметка: 5**



**ещё**

Найди правильную запись **230 080**  
**м** в километрах и метрах.

**23 км 80 м**

**230 км 800 м**

**230 км 80 м**

**230 км 8 м**



СКОЛЬКО КИЛОГРАММОВ

В 540 Ц?

5400 КГ

54000 КГ

540000 КГ



Сколько килограммов в 7 т 640 кг?

**70640 кг**

**764 кг**

**7640 кг**



Если 40 м уменьшить на 20 см, то  
получится:

**20 м**

**39 м 80 см**

**39 м 20 см**



СКОЛЬКО МИНУТ В 8 Ч?

800 МИН

480 МИН

420 МИН





Во сколько раз 5 м больше, чем 5 см?

**В 10 раз**

**В 1000 раз**

**В 100 раз**





Какое число надо вставить в «ОКОШКО»,  
чтобы равенство стало верным?

$$3 \text{ т } \square \text{ ц} = 3 \text{ т } 600 \text{ кг}$$

6000

60

6

600



Какое значение величины можно вставить в «окошко», чтобы неравенство стало верным?

$$8 \text{ т } 635 \text{ кг} < 8 \text{ т } \square 35 \text{ кг}$$

6 ц

3 ц

7 ц

5 ц



Сколько граммов в 30 кг?

30000 г

3000 г

300 г



Сколько надо вычесть из 8 т,  
чтобы получить 2 кг?

6 т

7 т 98 кг

7 т 8 ц

7 т 998кг



Сколько секунд в 9 мин?

900 с

560 с

540 с



Если 80 м уменьшить на 40 см, то получится:

**40 м**






**79 м 40 см**

**79 м 60 см**



# Выбери действие для решения задачи.

На верхней полке было 96 книг, а на нижней – 24 книги.  
Во сколько раз больше книг на верхней полке?





В концерте участвовало 27 певцов. После того как несколько певцов выступили, осталось выступить 12 певцам. Сколько певцов выступило?

