



# математика

## Сабақтың тақырыбы:

# Қайталау





# *Қайырлы күн балалар!*

*Сабағымызды бастайық жылы жүзбен,*

*Бізге келсін қуаныш нұр іздеген.*

*Шуақ толған жанымыз, жүрегіміз*

*Үлгі алсын көрген жан мына бізден*





1. Көңілді қадам
2. Тас қақпа
3. Күміс қақпа
4. Алтын қақпа





# Көңілді қадам

Қане, тәртіп сақтайық,  
Тез есептен аттайық.  
Алға қадам басқанда,  
Сүрінбестен аттайық!



# КӨҢІЛДІ ҚАДАМ



**1000**

**69**

**71**

**194**

**58**



*Қазанның 16-сы*  
*Сынып жұмысы*






*1000*

# Тас қақпа

Ал, достарым келіндер  
Біріңе – бірің еріндер  
Білімінді тексеріп,  
Мысалды мына шешіндер






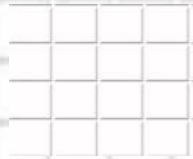

2 -  
мысал

Қосылғыш	342	3420			34200
Қосылғыш	58		3509	470	19490
Қосындының мәні		5814	4082	3450	





3 -  
мысал

<b>Азайғыш</b>	<b>750</b>		<b>8485</b>	<b>10408</b>	<b>34200</b>
<b>Азайтқыш</b>	<b>309</b>	<b>4520</b>		<b>5217</b>	<b>6210</b>
<b>Айырманың мәні</b>		<b>2009</b>	<b>6120</b>		



## 5-есеп

Қоймаға 567 кг сиыр етін,  
одан 127 кг артық қой етін және  
қой етінен 3 есе артық жылқы етін  
түсірді. Қоймаға неше кг жылқы еті  
түсірілді?



**Сергіту сәті**  
**Тұп тұнық таза суда,**  
**Балық жүзіп ойнауда**  
**Біресе керіледі,**  
**Біресе жиырылады.**  
**Бірде құмға тығылады.**  
**Күміс қақпа ашылады**

# Күміс қақпа

Үшқар ойға серік болсын шеберлік,  
Кезекті танымдық тапсырмаға берерлік.  
Арамызда тапқыш достар көп екен,  
Солардың енді жұмыстарын көрелік.



Тура теңдікті қызыл сумкаға, тура емес теңдікті көк сумкаға салайық

$$23 + 32 = 14 + 41$$

$$43 + 34 = 16 + 61$$

$$28 + 82 = 19 + 91$$

$$23 + 64 = 32 + 46$$

$$34 + 86 = 43 + 68$$

$$287 + 782 = 485 + 584$$

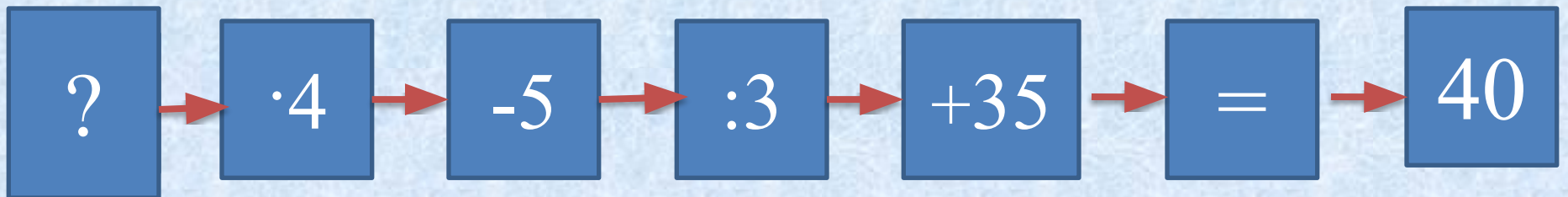



# АЛТЫН қақпа

Көп білетін оқушы,  
Тақта алдына келеді.  
Тендеулердің шешімін,  
Дұрыс тауып береді.



Кері бағытта тез есептеп  
үйрен









586 243 саны нешінші  
класты құрайды

**Қанып сандар  
сырына**

5

$$758 \cdot 100 = ?$$

**Шықсаң білім  
шыңына**



Бір санды 6 - ға  
көбейтудің орнына 6-  
ға бөліп қойды. Сонда  
15 шықты. Дұрыс  
жауап қалай болу керек  
еді?

**Математика әлемі**

7



Ең кіші төрт таңбалы  
саннан бірлікті алғанда  
үш таңбалы сан шығуы  
керек. Ол қандай сан?

**Жетелейді қуана**

3



# Үйге тапсырма

7 – мысал 69  
бет



# Сау болыңыздар

