



Число 6.

Цифра

6.

# УСТНЫЙ СЧЁТ



Назови предшествующее число.



Назови число следующее.



Прочитай примеры разными способами.  
Реши примеры.

$$7 + 2 = 9$$

$$4 + 2 = 6$$

$$9 - 1 = 8$$

$$6 - 2 = 4$$

*Шесть веселых медвежат  
За малиной в лес спешат  
Но один из них устал,  
А теперь ответ найди:  
Сколько мишек впереди?*

$$6 - 1 = 5 \text{ (М.)}$$



*Семь весёлых поросят  
У корытца в ряд стоят.  
Два ушли в кровать ложиться,  
Сколько свинок у корытца?*

$$7 - 2 = 5$$

(С.)




*Мишка едет не в первом и не в последнем вагоне.  
Цыпленок не в среднем и не в последнем вагоне.  
В каких вагонах едут мишка и цыпленок?*



1



2





6

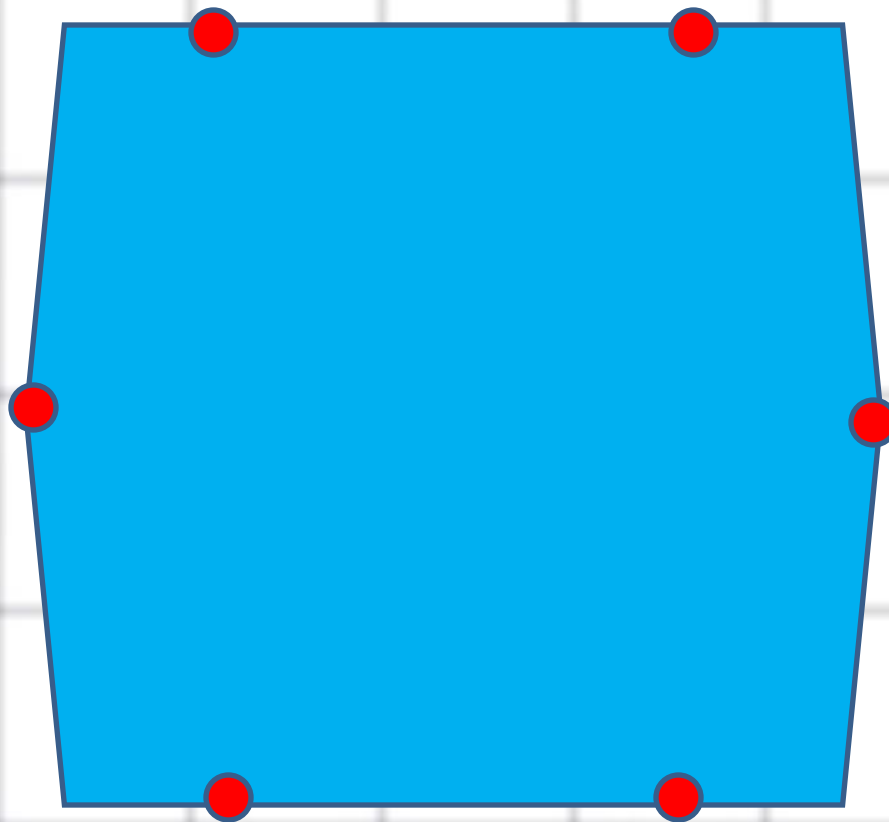


6

A house-shaped grid with a blue roof and yellow walls. The grid is divided into two columns and five rows. The numbers in the grid are as follows:


1	5
2	4
3	3
4	2
5	1


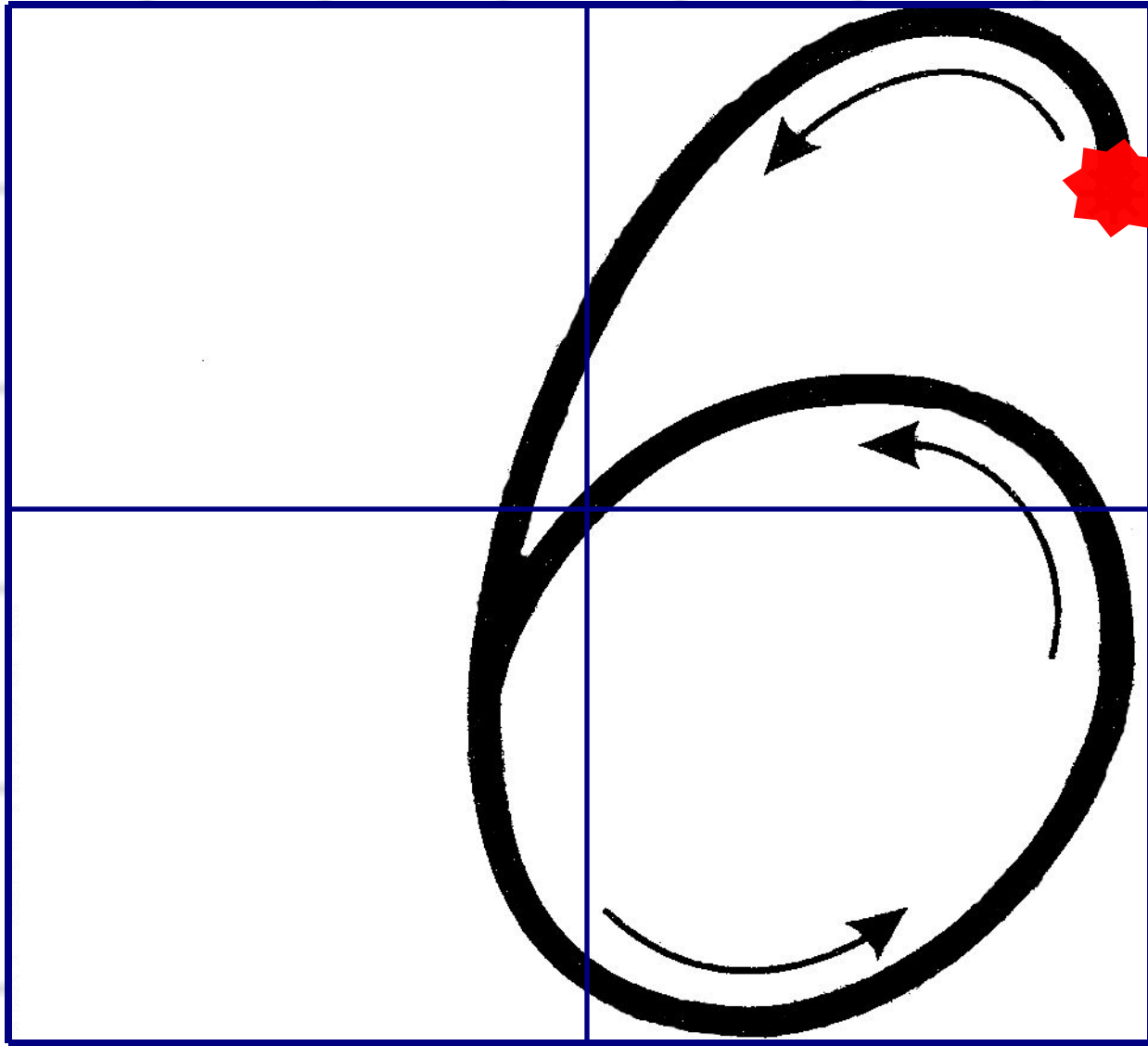
Сосчитай стороны и вершины многоугольника.



**Нет углов у цифры шесть,  
Лишь дуга с кружочком есть.  
Ты с дуги писать начни,  
И кружочком оберни.**

**Цифру шесть писать легко:  
Ни штришков, ни уголков!  
За рукой своей следи,  
Плавно линию веди!**







ФГОС

УМК

С. Ю. Кремнева

# Математика РАБОЧАЯ ТЕТРАДЬ №1

К учебнику М. И. Моро и др.  
«Математика. 1 класс.  
В 2-х частях»


учени \_\_\_\_\_ класса \_\_\_\_\_  
школы \_\_\_\_\_

**1**  
класс

ЭКЗАМЕН



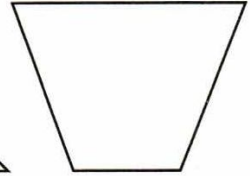
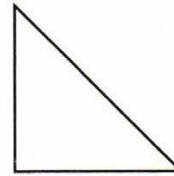

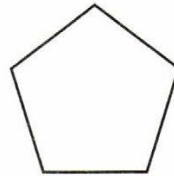
- Сколько прямоугольников ты видишь на рисунке?



Витя думает — 4, Оля — 9, Костя — 2.  
С кем ты согласишься? Ответ объясни другим детям.

- Начерти синим цветом треугольник, слева от него красным цветом многоугольник с четырьмя углами.

- Посчитай, сколько углов у каждой фигуры. Запиши ответ в окошко.



- Реши примеры.

$3 + 2 = \square$

$3 + 1 = \square$

$2 + 2 = \square$

$5 - 1 = \square$

$2 - 1 = \square$


$4 - 3 = \square$

$2 + 1 = \square$

$5 - 4 = \square$

$5 - 2 = \square$

# РАБОТА ПО УЧЕБНИКУ



Стр. 52 -  
53

# Как можно получить число 6 и 7



$$5 + 1 = 6$$

$$6 + 1 = 7$$

$$6 - 1 = 5$$

$$7 - 1 = 6$$





Какое время показывают каждые часы?



Которым по счёту будет красный квадрат, если считать справа налево? синий квадрат?

Сколько всего квадратов?

Которым по счёту будет зелёный кружок, если считать слева направо?



**КАКОЕ  
НЕРАВЕНСТВО  
ПРОПУЩЕНО?**

$$6 > 5$$

$$5 > 4$$

$$4 > 3$$

$$2 > 1$$



В лесной школе белочка и заяц начертили по одной фигуре каждый. Эти фигуры были разными.



не стал чертить



не стала

чертить



и



. Кто какую фигуру на-

чертил?

Стр.  
53

