



Разгадайте тайну

первой

звезды

1 задание.

Найдите лишние числа.

4,5,6,7,8,9,10,11,12,13,14,15,16, 18,21,24,27

Ответ: 5,7,11,13.

2 задание.

4,5,6,7,8,9,10,11,12,13,14,15,16, 18,21,24,27

**Из этих чисел выберите 3 числа,
которые обладают общим признаком.**

ОТВЕТ: 6,12,18

3 задание.

Выполните действие:

$$2 \cdot 2 = 4$$

$$3 \cdot 3 = 9$$

$$2 \cdot 5 = 10$$

$$3 \cdot 6 = 18$$

$$7 \cdot 2 = 14$$

$$3 \cdot 4 = 12$$

$$4 : 2 = 2$$

$$27 : 3 = 9$$

$$12 : 3 = 4$$

$$10 : 2 = 5$$

$$15 : 3 = 5$$

$$8 : 2 = 4$$



Тайна

ВТОРОЙ ЗВЕЗДЫ.

Задание №1

Придумайте задачу
на табличное деление
со словами


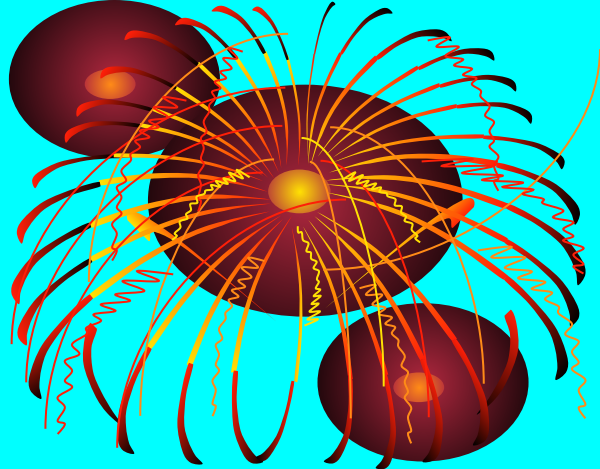


нефтяник

буровая

автобус


Задание №2



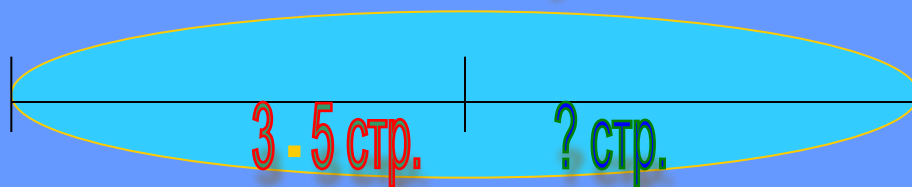
**Придумайте задачу
про наш класс**

Задание №3

Придумайте
по схеме и
решите её.



30 стр.



на ? стр.

Тайна

Третьей звезды.



Найдите ошибку!

$$2 \cdot 2 = 5$$

$$15 : 5 = 4$$

$$16 : 16 = 0$$

$$8 : 2 = 16$$

$$6 : 3 = 1$$

$$12 : 2 = 7$$

$$8 : 2 = 3$$


$$7 \cdot 2 = 15$$

$$3 \cdot 7 = 21$$

Тайна
четвертой звезды.

РАБОТА С
УЧЕБНИКОМ





Тайна

пятой звезды.

ФИЗМИНУТКА



Тайна

ШЕСТОЙ ЗВЕЗДЫ.

Б л и ц -

т у р н и ю



Тайна

седьмой звезды.

Решите выражения, расположите ответы в порядке возрастания

Ц $2 \cdot 3 + 7$

Д $14 - 4 : 2$

Л $15 : 3 + 3$

О $3 \cdot 3 + 1$

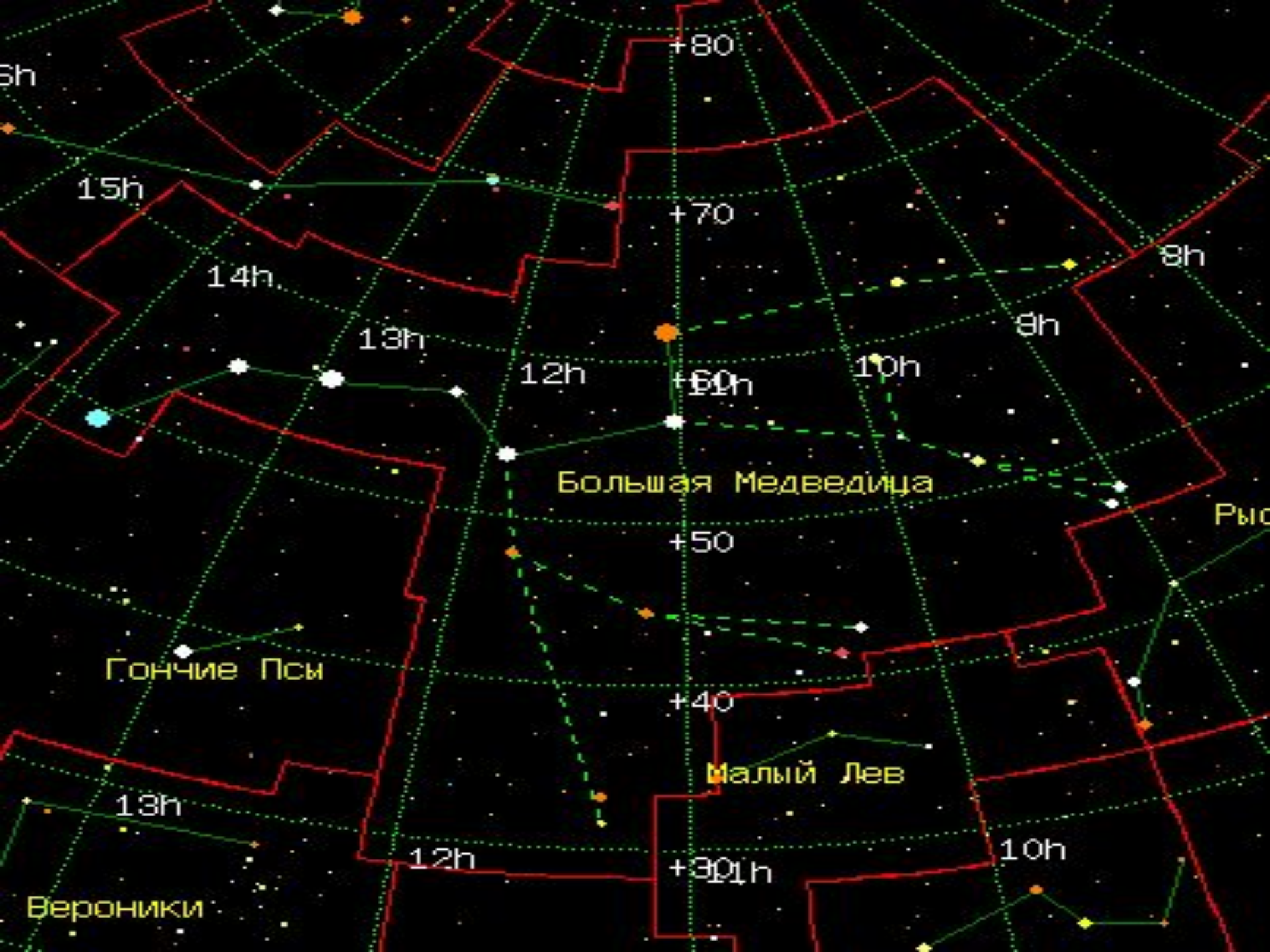
М $10 : 2 - 1$

О $24 : 3 - 1$

Ы $7 \cdot 2 + 4$



М	О	Л	О	Д	Ц	Ы
4	7	8	10	12	13	18



Большая Медведица

Гончие Псы

Малый Лев

Вероники

Рысь

Малая Медведица



A star chart of the constellation Little Bear (Малая Медведица) in Cyrillic. The chart features a red outline of the constellation's shape. A network of green dotted lines represents celestial coordinates, with declination lines labeled +70 and +69h, and right ascension lines labeled 16h and 14h. Several stars are marked with colored dots: a yellow star at the top, an orange star in the center, and a yellow star at the bottom left. The text 'Малая Медведица' is written in yellow across the middle of the chart.

+70

кон

h

16h

+69h

14h