



АШЫҚ САБАҚ

A colorful illustration of a landscape. In the background, there are blue and purple mountains under a blue sky. In the foreground, there are green rolling hills, several trees with green foliage and brown trunks, and a tree stump in the bottom right corner. The overall style is simple and cartoonish.

“Математика - еліне саяхат”




Сабақтың мақсаты:

Білімділігі: Дамытушылығы: Тәрбиелілігі:

Оқушылардың өткен сабақтардан алған білімдерін пысықтап, қайталауға арналған есептер шығару.

Оқушылардың логикалық ойлау, есептеу қабілеттерін дамыту. Тиянақты жауап беруді талап ету.

Оқушыларды тапқырлыққа, жылдам ойлауға, ойын қорыта білуге тәрбиелеу.





I топ. *"Алғырлар"*



II топ. *"Тапқырлар"*



III топ. *"Зеректер"*





Математикалық ДИКТАНТ



$4+3=$

$5+4=$

$3+6=$

$10-4=$

$8-4=$

$9-5=$

Математикалық тест

$4+3$	9	$10-3$	7	$5+4$	8	
	10			6		9
$6+3$	7	$9-2$	5	$6-3$	3	

8

$4+4$

$9-2$

10


$9-1$

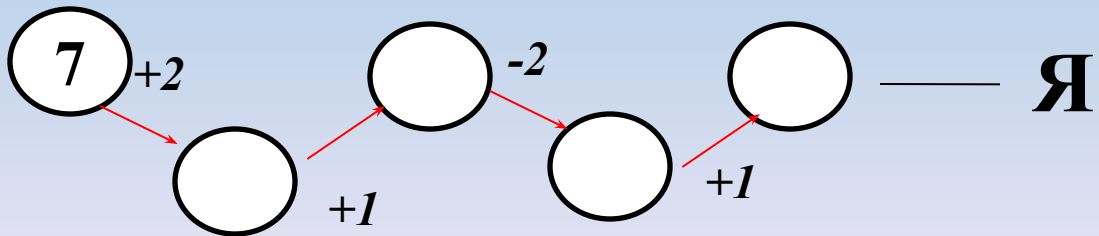
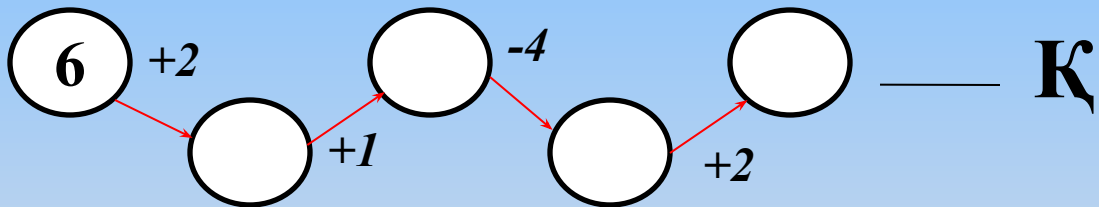
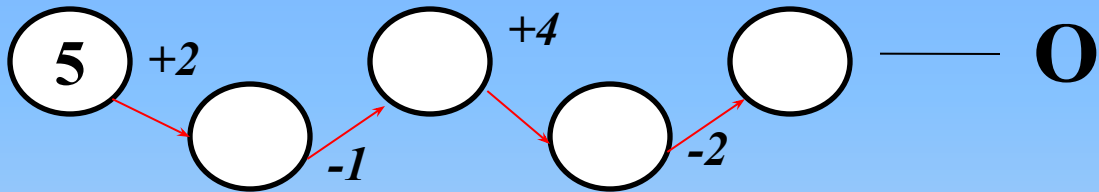
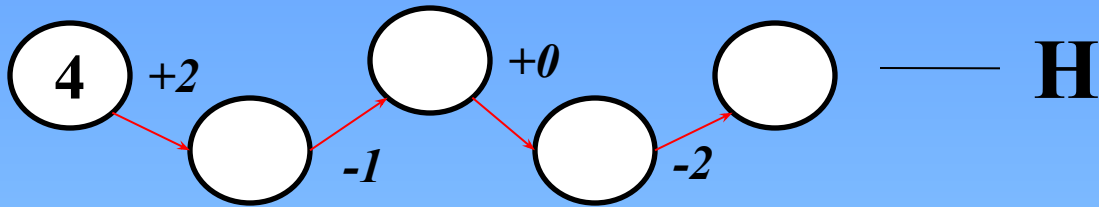
$5+5$

9

$7+2$


$6-3$





7	8	9	3







Қоянның тапсырмасы



$3 + 2 =$

$5 + 3 =$

$4 - 4 =$

$6 - 2 =$

$7 + 3 =$

$9 - 2 =$

$2 + 6 =$

$8 - 5 =$

$4 + 5 =$





Аюдың тапсырмасы

?

7

5

9

$4 + 3$

$2 + 3$

$10 - 1$

$7 + 2$

$5 + 2$

$10 - 5$

$9 - 4$





Қасқырдың тапсырмасы



?

$$3 + 5 * 3 + 3$$

$$3 + 5 > \square$$

$$4 - 3 * 4 - 1$$

$$4 - 3 < \square$$

$$5 - 2 * 5 - 0$$




$$5 - 2 < \square$$







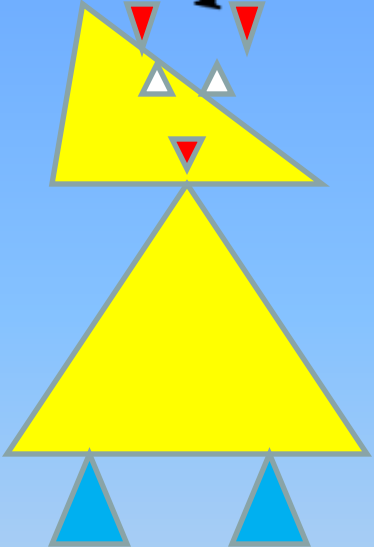
Түлкінің тапсырмасы





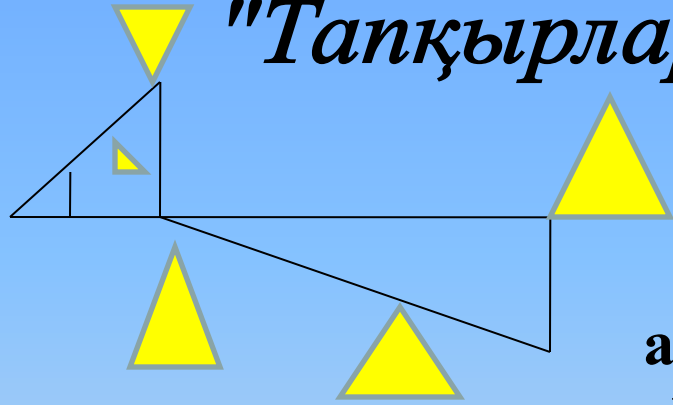
Суреттегі үшбұрышты табу

"Алғырлар"



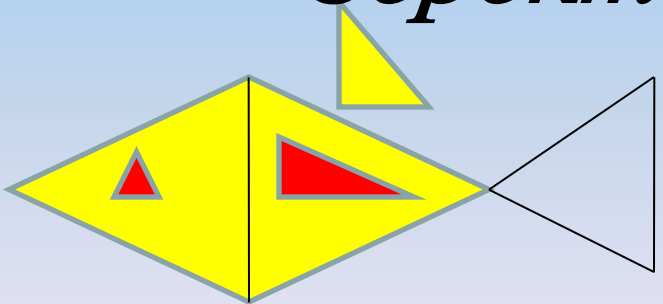
- а) 8
- ә) 9
- б) 7

"Тапқырлар"



- а) 8
- ә) 7
- б) 9





"Зеректер"



- а) 5
- ә) 4
- б) 6



Фигураларды ата




Ребусты шешу

"Алғырлар" "Зеректер" "Тапқырлар"

“



~~Ш~~



С’



Венн диаграммасы

Тақ

Жүп

Н
А
Т
У
Р
А
Л



Үйге тапсырма

Қайталау