

Сравнение числовых выражений



*Школа России
Математика 2 класс*





Устный счёт

Запиши число в

котором:

1. число больше чем 29 на

1



2. Сумма чисел 60 и равна

69



3. 1 дм 5 см = см

4.

30

9

15

4

Назовите тему
урока.


ЧИСЛОВОЕ ВЫРАЖЕНИЕ

$$60 - (10 + 10) = 40$$

ЗНАЧЕНИЕ
ВЫРАЖЕН

ИЯ

Новый материал




$$13 \overset{6}{-} 7 < 4 \overset{7}{+} 3$$

$$49 \overset{50}{+} 1 = 60 \overset{50}{-} 10$$

Сколько числовых выражений? Прочитай. Найди значение выражения.

Что будем с ними делать? Что для этого надо сделать? Назови тему урока.

Работа по учебнику



стр.

11

1. Сравни выражения, поставив знак «больше» ($>$), «меньше» ($<$) или «равно» ($=$).



$$5 - 2 \bigcirc 1 + 4$$



$$5 + 3 \bigcirc 3 + 5$$



$$6 - 2 \bigcirc 6 - 3$$

3. Составь по краткой записи задачу и реши её.

1) Было — 18 кг
Продали — ?
Осталось — 8 кг

2) Было — ?
Продали — 7 м
Осталось — 9 м

Домашнее задание: учебник стр.41

№4

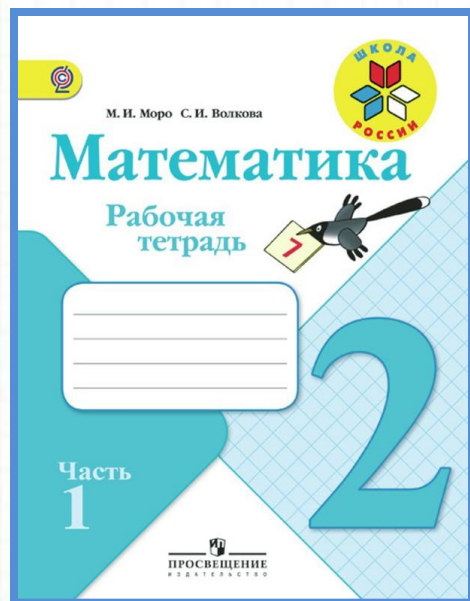
4. $13 - 7 + 6$
 $12 - 6 + 7$
 $11 - 5 + 8$

$$80 + 0 + 3$$
$$70 - 0 + 9$$
$$0 + 90 + 5$$

$$18 - 9$$
$$17 - 9$$
$$17 - 8$$

Работа в тетради

стр.
41



39 Выбери и подчеркни правило, по которому составлена последовательность чисел:
14, 21, 28, 35, 42, 49, 56.

1) Каждое следующее число на 7 меньше предыдущего.

2) Каждое следующее число на 7 больше предыдущего.

3) Каждое следующее число на 8 больше предыдущего.

40 Составь последовательность из 7 чисел, в которой каждое следующее число на 4 меньше предыдущего. Начни с числа 54.

--	--	--	--	--	--	--	--	--	--	--	--	--	--	--	--	--	--	--	--

42 По какому признаку заданные числа можно разбить на две группы? Запиши числа каждой группы. 47, 39, 79, 27, 19, 17, 99, 87.

Первая группа:

Вторая группа:

Конец