

$2+2=$

$ax+by=c$

«Равенство». «Неравенство»

Урок математики. 1 класс.
УМК «Школа России».



УСТНЫЙ СЧЁТ

*Математика –
королева наук!*



МАТЕМАТИЧЕСКИЙ ДИКТАНТ.

1. Назови самое маленькое число.
2. Какое число стоит между числами 3 и 5?
3. 4 и 1 – это сколько?.
4. Сколько будет, если из 2 вычесть 1 ?
5. Какое число больше 3 или 5 ?
6. Какое число меньше 2 или 1 ?
7. Запиши ответ : из 5 вычесть 2 .
8. Какое число следует за числом 2 ?
9. Какое число будет после числа 1?


МАТЕМАТИЧЕСКИЙ ДИКТАНТ.

1. Назови самое маленькое число.
2. Какое число стоит между числами 3 и 5?
3. 4 и 1 – это сколько?
4. Сколько будет, если из 2 вычесть 1 ?
5. Какое число больше 3 или 5 ?
6. Какое число меньше 2 или 1 ?
7. Запиши ответ : из 5 вычесть 2 .
8. Какое число следует за числом 2 ?
9. Какое число будет после числа 1?




**ПРОВЕРЬ СЕБЯ : 1, 4, 5, 1, 5, 1,
3, 3, 2.**









$$4 + 1 = 5$$




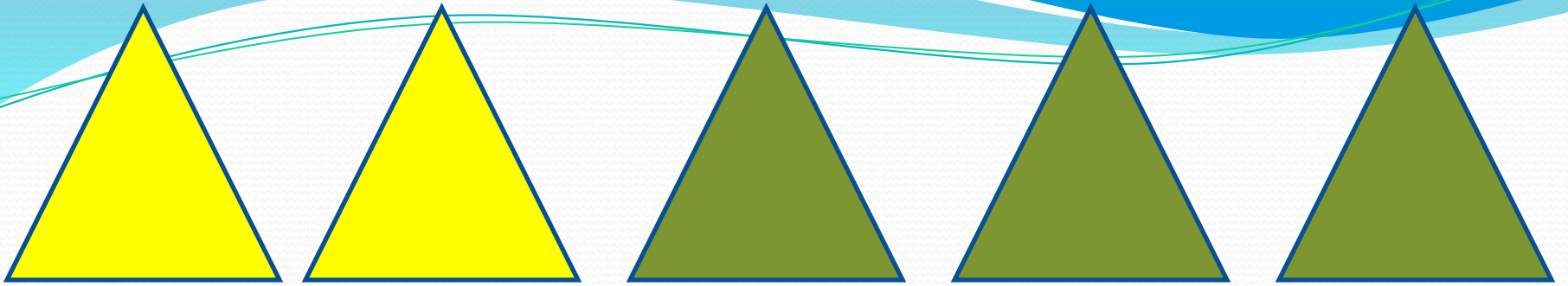
$$5 - 2 = 3$$



$$3 = 3$$



$$2 < 4$$



$$2 + 3 > 4$$

$$5 > 4$$

1. Сравни числа (> , < , =)

$1 \square 1$

$1 \square 2$

$2 \square 2$

$2 \square 1$

>

<

=

Внимание!

Данное задание можно выполнить интерактивно.

Для этого презентацию надо перевести в режим редактирования.

1. Сравни числа (> , < , =)

$1 \square 1$

$1 \square 2$

$2 \square 2$

$2 \square 1$

>**<****=**

1. Сравни числа ($>$, $<$, $=$)

$$1 = 1$$

$$1 < 2$$

$$2 = 2$$

$$2 > 1$$

 $>$ $<$ $=$

? На какие группы можно разбить эти записи?

! Это-равенства

! Это-неравенства

? Какие названия к ним можно придумать?

2. Катя записала равенства, а Петя - неравенства. Прочитай сначала записи Кати, а потом – записи Пети.

$1 = 1$

$1 < 2$

$2 = 2$

$2 > 1$

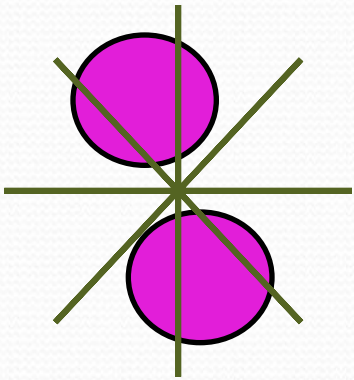
Катя

Петя

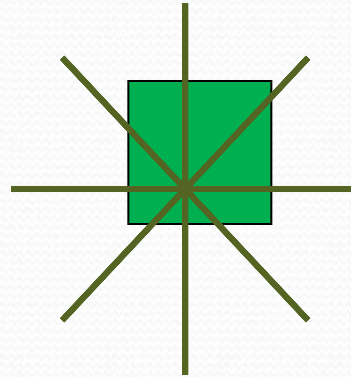
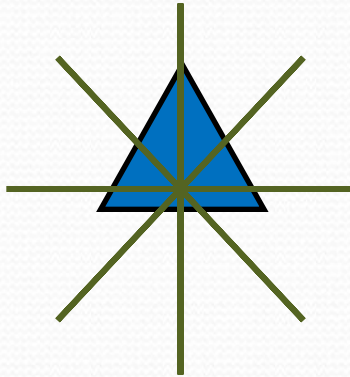
! Это-равенства

! Это-неравенства


3. Вова составил неравенства к рисункам. Верные ли они?



$$2 > 1$$



$$1 < 2$$

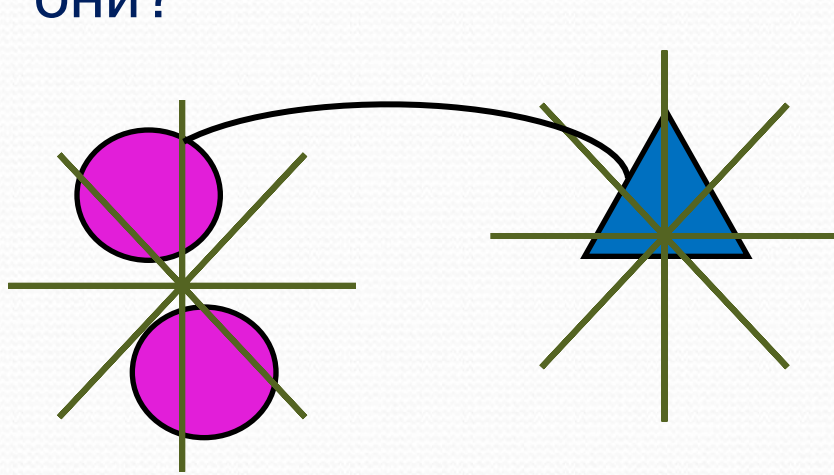


Внимание!

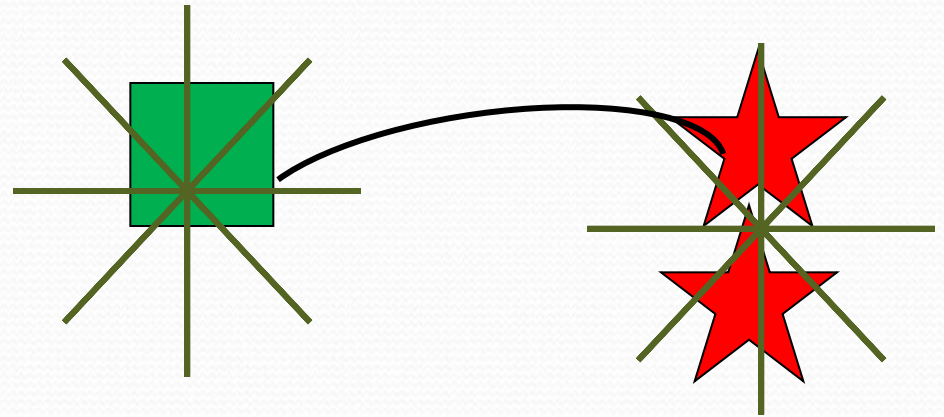
Данное задание можно выполнить интерактивно.

Для этого в режиме демонстрации можно воспользоваться *инструментом перо или ручка*.

3. Вова составил неравенства к рисункам. Верные ли они?




$$2 > 1$$



$$1 < 2$$

Равенство. Неравенство

Будем учиться распознавать и составлять числовые равенства и неравенства.



Равенства:

$$4 = 4$$

$$4 + 1 = 5$$

Неравенства:

$$4 > 3$$

$$4 - 1 < 4$$

Прочитай сначала равенства, а затем неравенства.

$$3 - 1 = 2$$

$$4 - 1 > 1$$

$$5 - 1 < 5$$

$$4 + 1 = 5$$

$$3 + 1 > 2$$

$$1 + 1 = 2$$

$4 \bigcirc 3$	$5 \bigcirc 2$	$1 + 2 \bigcirc 3$	$\square > \square$
$3 \bigcirc 4$	$3 \bigcirc 5$	$5 - 3 \bigcirc 2$	$\square < \square$

Найди неверные равенства и неравенства.

$$4 + 1 = 5$$

$$3 - 1 < 1$$

$$4 < 2$$

$$3 > 4$$

$$5 - 1 = 3$$

$$2 + 1 = 3$$

Замени в них одно число и запиши верные равенства и неравенства.

Возьми такие карточки и составь из них 3 верных равенства и 3 верных неравенства.

	3	+	1	4	4	3	5	1	1	4
	5	-	1	4	2	4	3	2	5	3



Равенства:

$$4 = 4$$

$$4 + 1 = 5$$



Неравенства:

$$4 > 3$$

$$4 - 1 < 4$$

Прочитай сначала равенства, а затем неравенства.

$$3 - 1 = 2$$

$$5 - 1 < 5$$

$$3 + 1 > 2$$

$$4 - 1 > 1$$

$$4 + 1 = 5$$

$$1 + 1 = 2$$



$$4 > 3$$
$$3 < 4$$

$$5 > 2$$
$$3 < 5$$

$$1 + 2 = 3$$
$$5 - 3 = 2$$

$$\square > \square$$
$$\square < \square$$

Найди неверные равенства и неравенства.

$$4 + 1 = 5$$



$$2 + 1 = 3$$

3+ 1 4 4 3 5 1 1 4

5- 1 4 2 4 3 2 5 3

У Миши такая монета:



У Коли такие монеты:



У кого из них больше монет?

У кого из них больше рублей?

У Лены



У Веры



Сколько всего кукол у Лены и у Веры?

$$2+3=5$$

Какая запись подходит к каждой картинке?



$$4 + 1$$

$$4 - 1$$



$$5 - 1$$

$$3 + 1$$

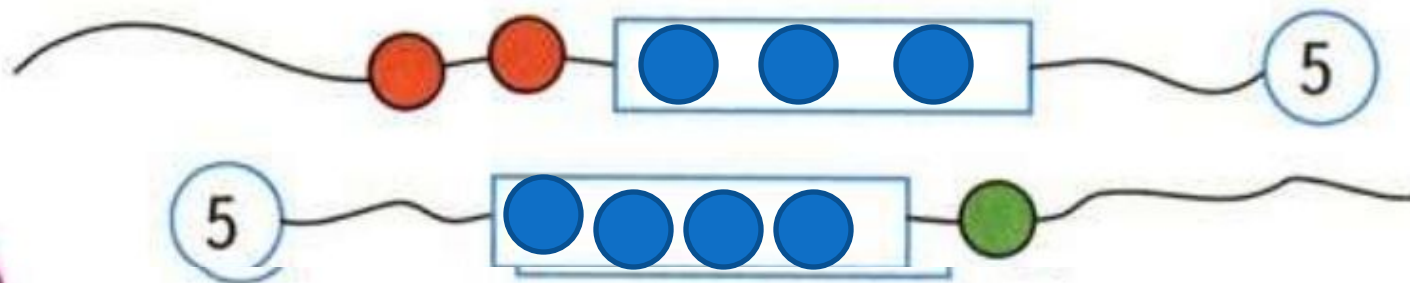
$$3 + 2$$



- Сосчитай, сколько яблок на каждом рисунке, и сравни результаты. Запиши два неравенства.



- Сколько бусинок закрыто на каждой нитке?
Нарисуй их в рамках.



$3 < 4$	$2 > 1$	$1 + 1 < 3$	$4 + 1 = 5$
$5 > 4$	$2 < 3$	$4 - 1 < 5$	$3 - 1 > 1$

Математика – королева наук!




Без нее не летят корабли,

Без нее не поделишь ни акра земли,

Даже хлеба не купишь, рубля не сочтешь

Что почем, не узнаешь,

А узнав, не поймешь!



Молодцы!

Спасибо за урок!

