




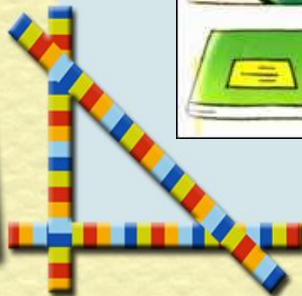

**ГБОУ СОШ №2 «ОЦ»
с. Большая Глушица**

Урок математики


**Корнева Галина Михайловна
Учитель начальных классов**



14 февраля.
Классная работа.



Разминка



Шифрограмма

Мыслительная


СТРАНА


МАТЕМАТИКА

Геометрическая
Учебная





Подумай-ка





Тема: Закрепление
изученных приемов
письменного сложения
и вычитания в пределах
100. Решение
задач.



Каллиграфическая минутка

222222222222

22

22


22

22

22

22

222222222222





«Разминка»

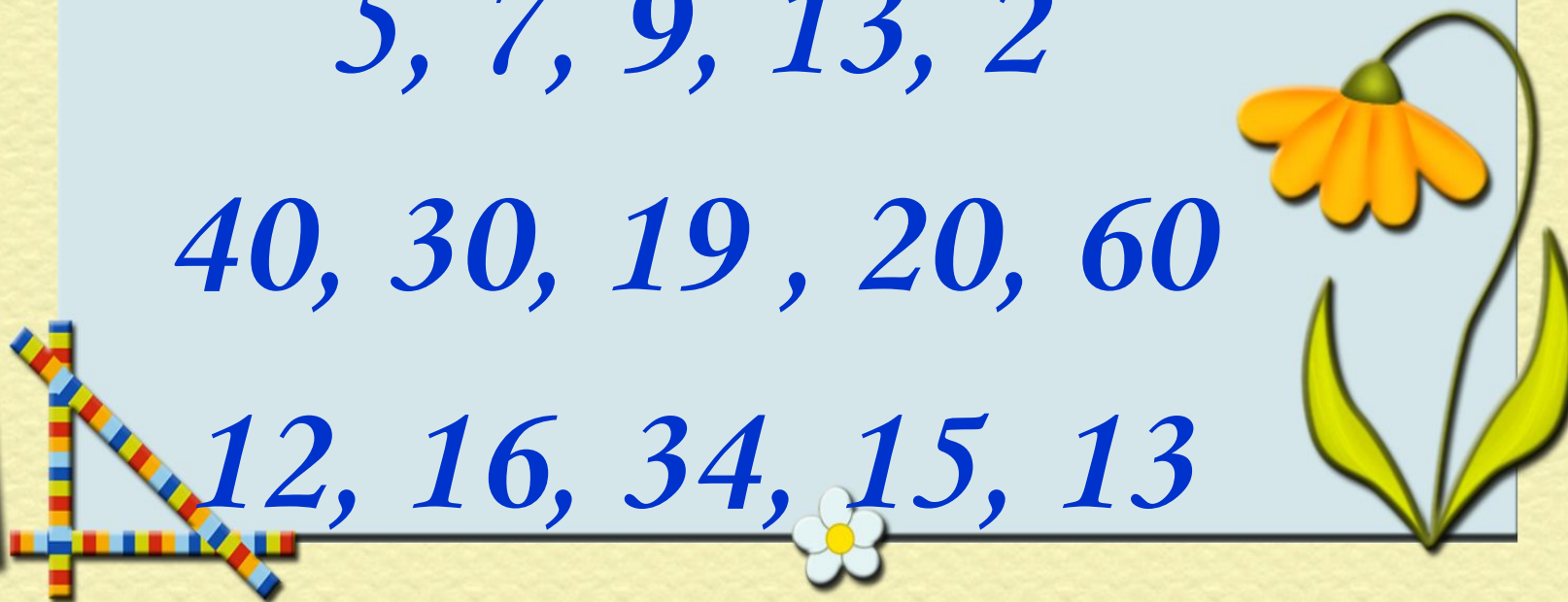
**А) Найди лишнее число в
каждой строчке**


(объясни свой выбор)

5, 7, 9, 13, 2

40, 30, 19, 20, 60

12, 16, 34, 15, 13








**Б) Запиши числа в
порядке возрастания**




40, 30, 19, 20, 60



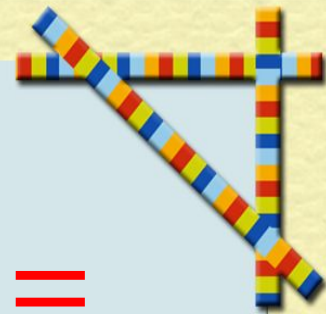


**В) Запиши числа в
порядке убывания**

12, 16, 34, 15, 13



Сравни : $>$, $<$, $=$



$$31 * 39$$


$$80 * 73$$



$$17 * 27$$

$$16 * 61$$

$$81 * 88$$


$$76 * 48$$





«Мыслительная»

Задания по выбору




$$32 + 8 * 40$$

$$50 * 30 + 20$$

$$86 - 6 * 79$$

$$42 - 20 * 20$$

$$44 + [] < 48$$

$$[] + 11 > 18$$

$$25 + [] < 44$$


$$36 - 6 > []$$

$$[] + [] = []$$

$$[] + [] < []$$

$$[] < [] - []$$

$$[] - [] = []$$






«Учебная»

Реши уравнения:

$$X - 8 = 12$$

$$c + 2 = 20$$

$$90 - a = 40$$









«Подумай-ка»
Арбуз весит 8 дм, а дыня

11 дм.

На сколько арбуз легче
дыни ?



В детском саду было 6 синих мячей, а красных больше. Сколько красных мячей было в детском саду?





Белочка с

бельчатами


собирала грибы.

Белочка нашла *24*

гриба,

а бельчата *12.*









В вазе 8 яблок и 3
груши.

Сколько слив в
вазе?






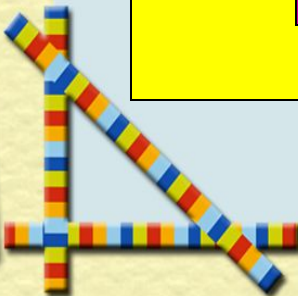
Физминутка



«Геометрическая»»



Из каких
геометрически
х
фигур состоит
эта маска?


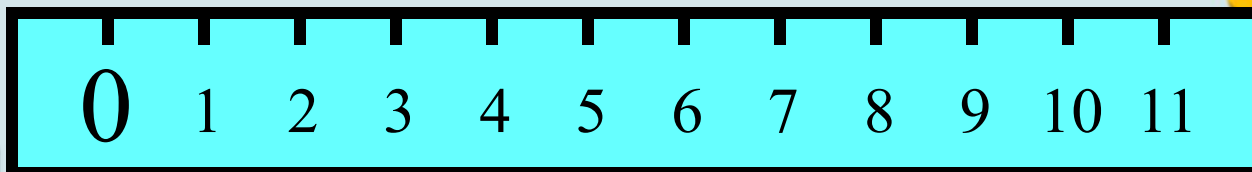




Начертить ломаную
из 3 звеньев,
сумма длин которой
11 см.




сумма длин которой
11 см.





Кто быстрее прочитает Шифрограмму?



16 -- !

2-- е

9 – м

12-- о

5 – т

15-- ы

11--л

4 -- я

3 -- б

10 -- о

8 – ы


13 -- д

1--р



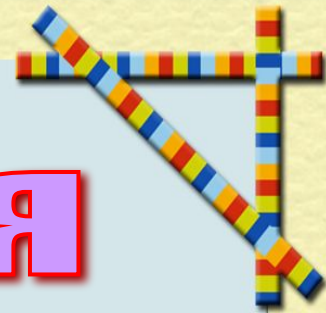
6 -- а

7 – в

14 -- ц



Рефлексия



Спасибо за работу!

