

**Прозвенел и смолк
звонок,
Начинается урок!**



В ПУТЬ!

$$12 - 2 = 10$$

$$18 - 7 = 11$$

$$10 + 2 = 12$$

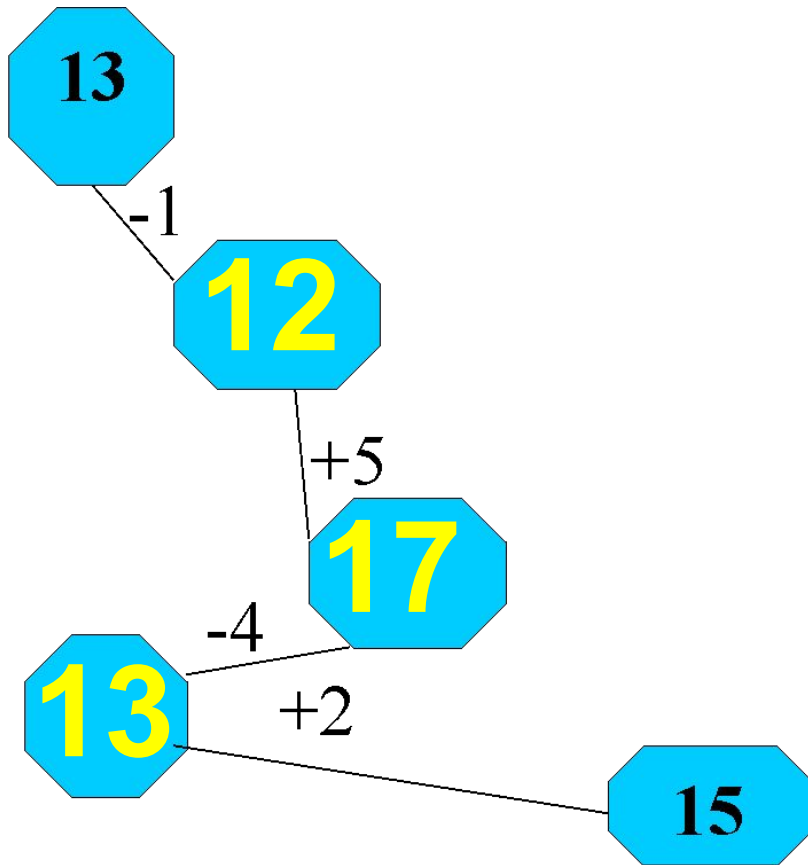
$$16 - 3 = 13$$

$$13 + 1 = 14$$

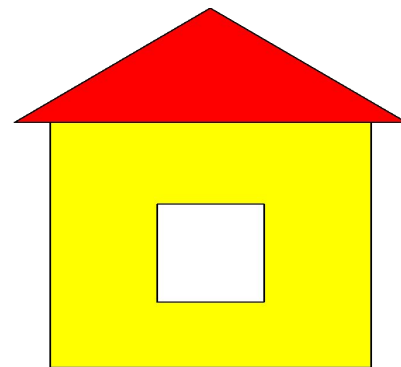
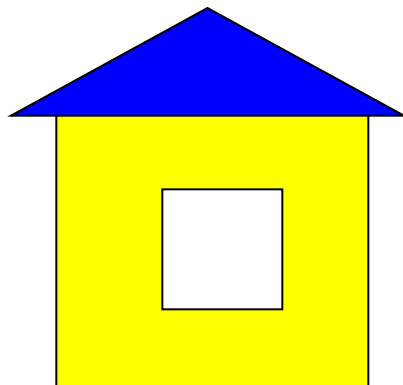
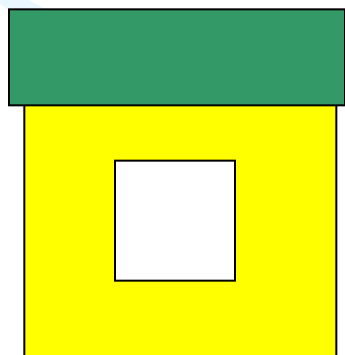
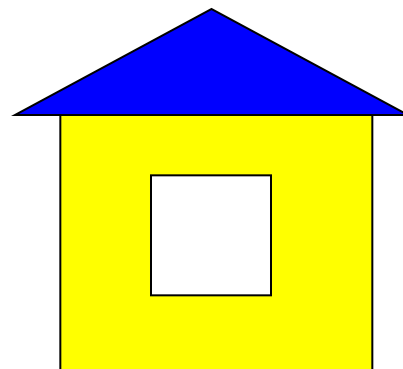
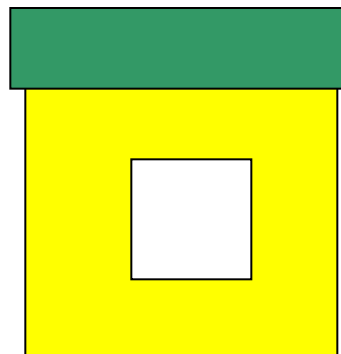



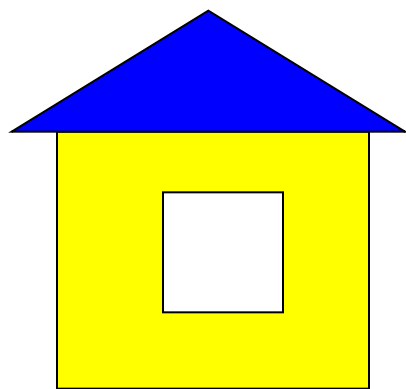




Простоквашино



Какой домик у Шарика и Матроскина ?





19

11

14

10

12

15



Пальчиковая гимнастика


Вышли пальцы погулять. (массаж пальцев.)
Этот палец самый сильный,
Самый толстый и большой;
Этот палец для того,
Чтоб показывать его.
Этот палец самый длинный
И стоит он в середине.
Этот палец безымянный,
Он избалованный самый.
А мизинчик, хоть и мал,
Очень ловок и удал.





Математический диктант

Выберите только двузначные числа и запишите их.



12

14

11

7

5

8



**Запишите *все*
однозначные
числа**

1,2,3,4,5,6,7,8,9

Запиши «соседей»:

4 5 6

1112 13

1718 19





Найдите сумму чисел 14 и 3

$$14 + 3 = 17$$

Найдите разность чисел 15 и 2

$$15 - 2 = 13$$



Физминутка

Солнце землю греет слабо,

(Руки вверх и вниз.)

По ночам трещит мороз,

(Руки на пояс, наклоны в стороны.)

Во дворе у снежной Бабы

(Руки на пояс, повороты вокруг себя.)

Побелел морковный нос.

В речке стало вдруг вода

Неподвижна и тверда,

(Прыжки на месте)

Вьюга злится, снег кружится

(Дети кружатся)

Заметает всё кругом

Белоснежным серебром.

На елке висело 19 шаров.
Галчонок разбил 2 шара. Сколько шаров осталось висеть на елке?

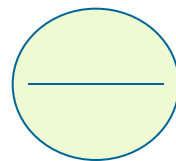




Краткая запись

Было – 19 шаров.

Разбил – 2 шара.

Осталось - ?






Работа с учебником

№239 стр.169





**Домашнее
задание.**

**№238
стр.169**



Вы
справились
со всеми
заданиями!

Молодцы!!!



