

*** Прозвенел звонок,
начинается урок.
Чтоб пошел он ребятам
впрок,
надо быть старательными,
дружными, внимательными!**



Отгадайте загадку:

У кого большая шляпа?

Кто бездельник и растяпа?

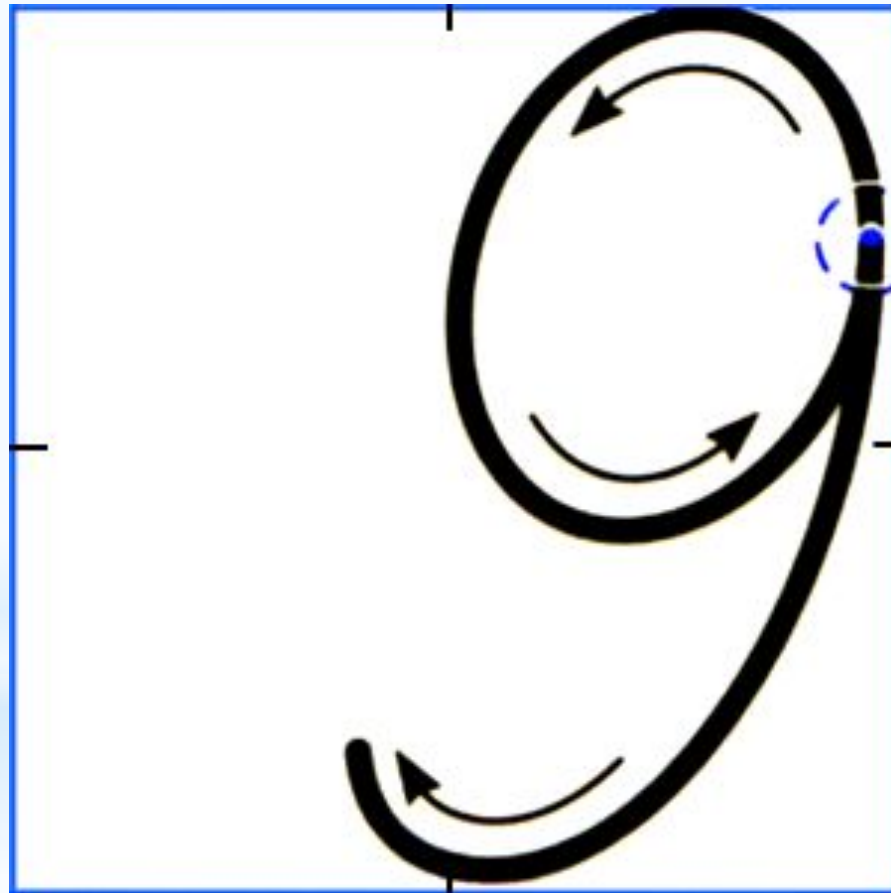
Кто хвастун, болтун,
зазнайка?

Знают все, малыш ...

Незнайка



29 февраля



Отгадайте загадку:

Фиолетовой окраски,


Этот зверь совсем нестрашный-

Дружелюбен, честен, ласков.

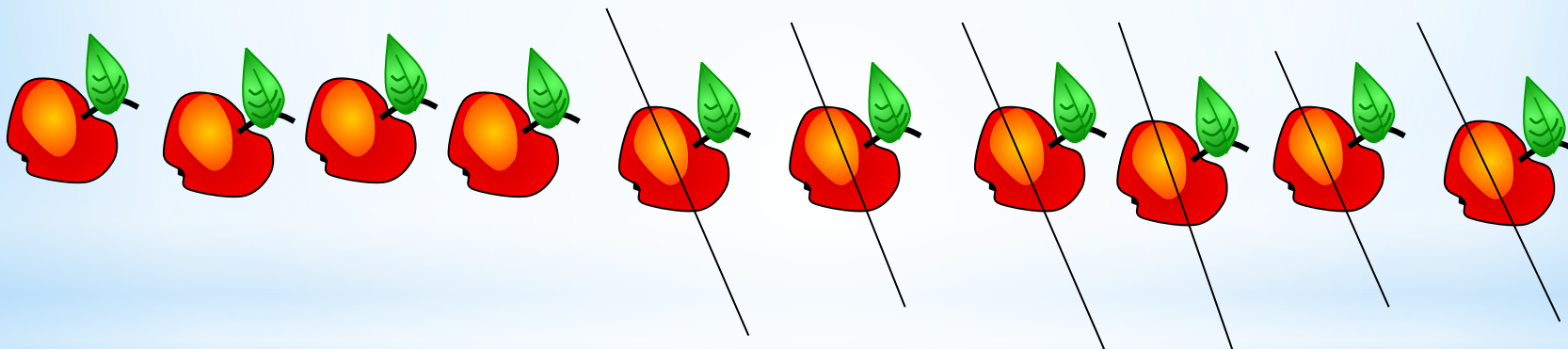
Как зовут тебя мохнатик?

ЛУНТИК





$$10 - 3$$



$$10 - 6$$

Тема урока:

*Вычитание
однозначного
числа из 10*

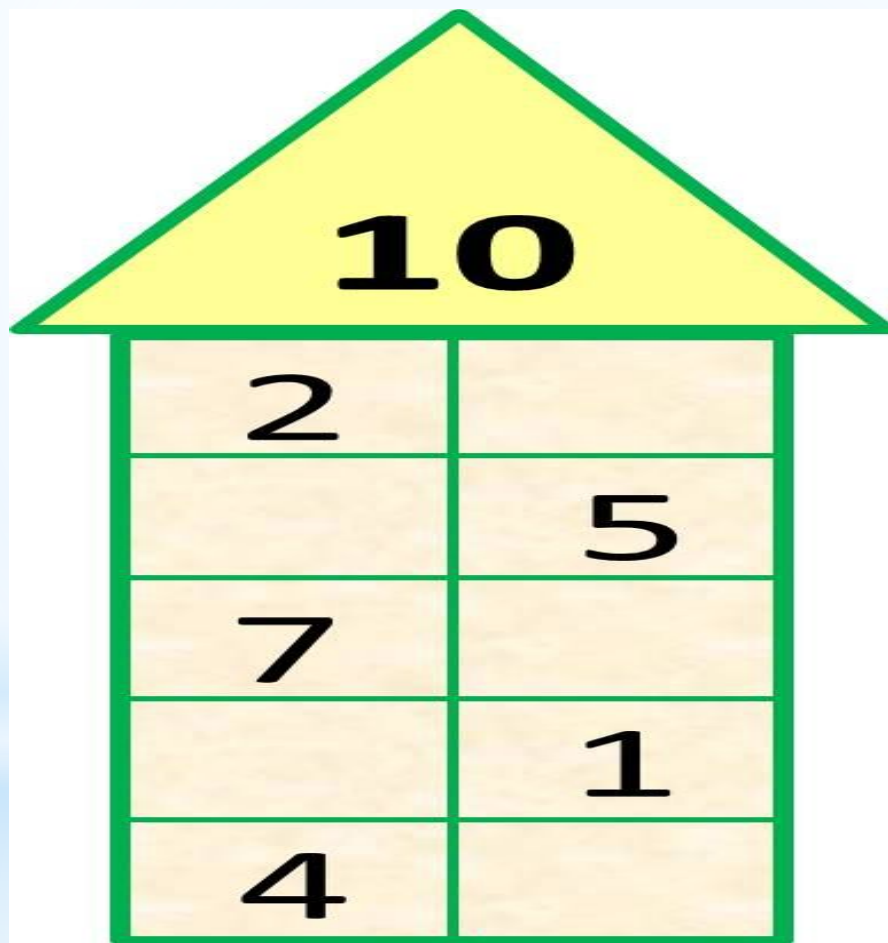
Отгадайте загадку

Человечки очень скоро
Чинят электроприборы!
Их не видно, не смотри,
Ведь они живут внутри.
Нету места мистике,
Если рядом...

ФИКСИКИ

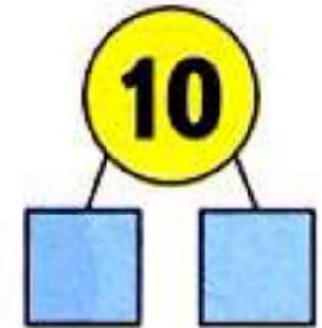


Дополни до 10





$$\begin{array}{r} 10 - 8 \\ \hline 10 = 8 + 2 \\ 10 - 8 = 2 \end{array}$$



$$\begin{array}{r} 10 - 7 \\ \hline 10 = 7 + \square \end{array}$$

$$\begin{array}{r} 10 - 6 \\ \hline 10 = 6 + \square \end{array}$$

$$\begin{array}{r} 10 - 5 \\ \hline 10 = 5 + \square \end{array}$$

Учебник с.34.

ФИЗМИНУТКА

Раз – подняться, потянуться.

Два – согнуться, разогнуться.

Три – в ладоши три хлопка,

Головою три кивка.

На четыре – руки шире,

Пять – руками помахать,

Шесть – за парту тихо сесть.



Отгадайте загадку

Кто родился необычным:
Со снежинками в руках?
Для кого стало привычным
Лепить с сестрой
снеговика?

Эльза



* Помоги Эльзе
решить примеры.

$9-6$

$10-9$

$10-7$

$3+6-7$

$8-6$

$10-3$

$10-4$



$8-5+4$



ПИНОККИО



В нашем доме 6 этажей, а в соседнем на 3 этажа больше. Узнай, сколько этажей в соседнем доме.



Отгадайте загадку:

Мальчик-луковка отважный.

И его узнает каждый.

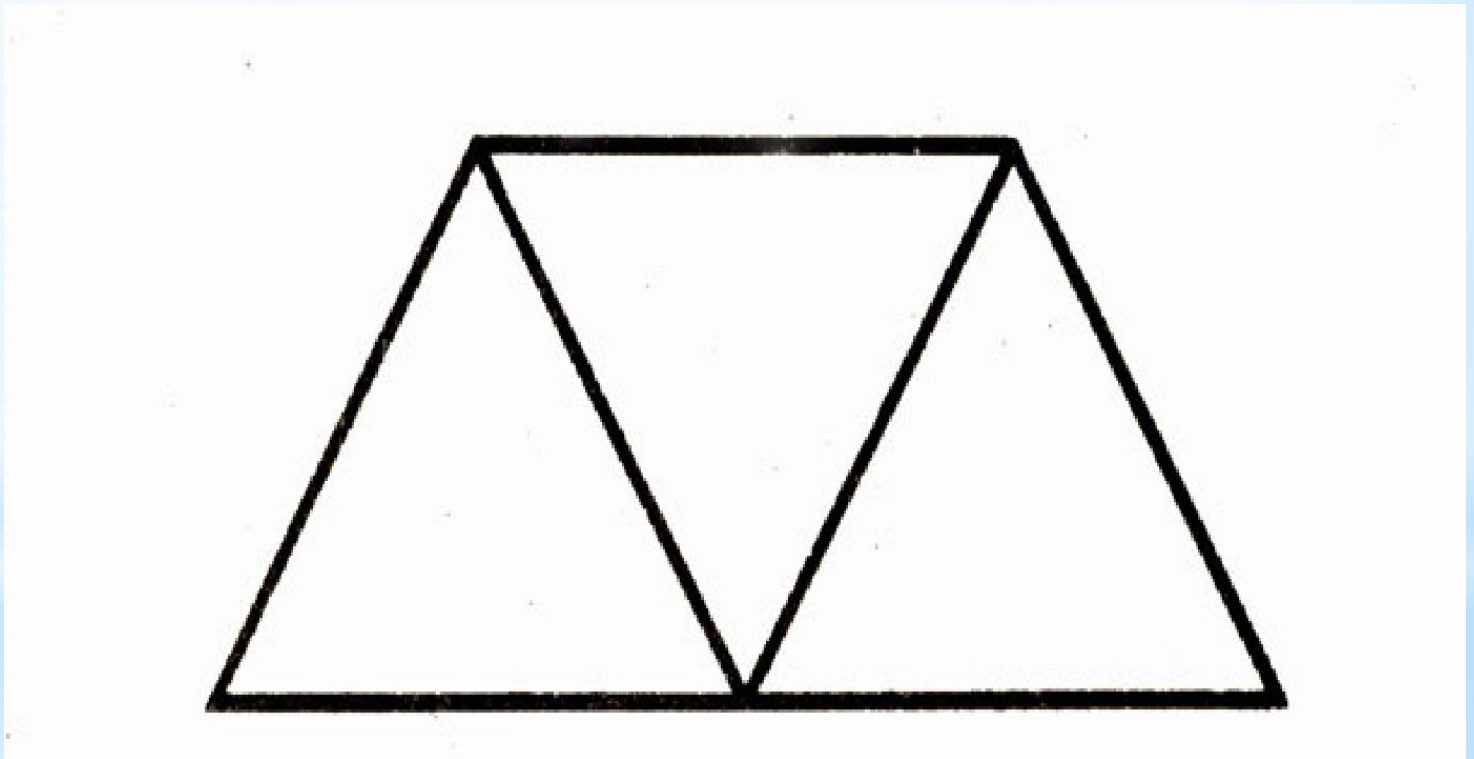
Но за чубчик, без причины,

ты не дёргай .

Чиполлино



**Из 7 спичек сделать 3
треугольника**



Отгадайте загадку:

Деревянный озорник
Из сказки в нашу жизнь проник.
Любимец взрослых и детей,
Смельчак и выдумщик затей,
Проказник, весельчак и плут.
Скажите, как его зовут?

Буратино



Логическая задача

Из книги выпало несколько листов подряд. На первой выпавшей странице стоит номер 5, на последней - 10. Сколько листов выпало?

Рефлексия

