

Мерей бағабаруағы Мерменарды дартыбар мобы



**БІЛІМ БЕРУ САЛАСЫ:**  
**«ТАНЫМ»**  
**БӨЛІМІ: ҚМТҚ**  
**ТАҚЫРЫБЫ:**  
**1-ДЕН 20 - ҒА ДЕЙІН САНАУ**

# Мақсаты:

*1-ден20- га дейінгі сандандарды тура және кері санауды нысықтау.Есту барысында сандарды ажырата білуге жаттықтыру.*

*Дамытушылығы:Балалардың ой өрісін дамыту, ойын арқылы ойлау қабілеттерін арттыру.*

*Тәрбиелігі :балаларды үлкенге сыйлауға ,тілін алуға ,кішіге қамқор болуға тәрбиелеу.*





# Шаттық шеңбері

Қуан шаттан алақай  
Қуанатын күн бүгін  
Күліп шықты таң бүгін  
Қайырлы таң апайлар!  
Қайырлы таң достарым!





**Өткен тақырып бойынша  
сұрақтар ?**

*Бір аптада неше күн  
бар?*

*Апта күндерін ата?*

*Бір жылда неше мезгіл  
бар?*

*Бір жылда неше ай бар?*

2.

**Дүйсенбі**



**Сейсенбі**



**Сәрсенбі**



**Бейсенбі**



**АПТА**  
**Дүйсенбі**  
**Сейсенбі**  
**Сәрсенбі**  
**Бейсенбі**  
**Жұма**  
**Сенбі**  
**Жексенбі**

**Жұма**



**Сенбі**



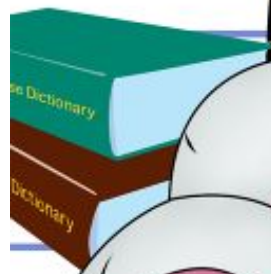
**Жексенбі**







2

3





**-Балалар, қалай ойлайсыңдар, бұл ел неліктен “Сандар әлемі” деп аталады?**



**-Себебі, онда сандар тұрады.**




$7+2$

$9-3$

$6+1$

$5-3$




$10-8$

$8-4$

$10+1$

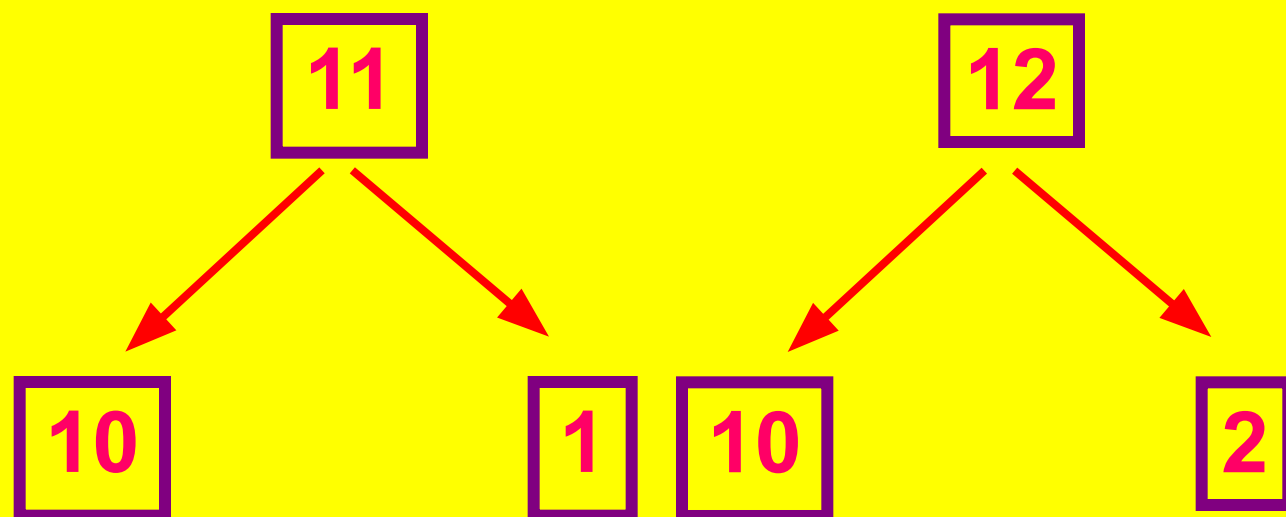
$10+2$



# 11 және 12 саны

11 саны - 1 ондық 1 бірлік

12 саны - 1 ондық 2 бірлік





11

1	10
2	9
3	8
4	7
5	6
6	5



12

2	10
3	9
4	8
5	7
6	6
7	5

# Дәптермен жұмыс

1-ден 20 ға дейін санау





# Дәптермен жұмыс



*Қалдырылған сандарды жапсыр.*

11



13



15



18

19



# ЛОГИКАЛЫҚ ОЙЫН



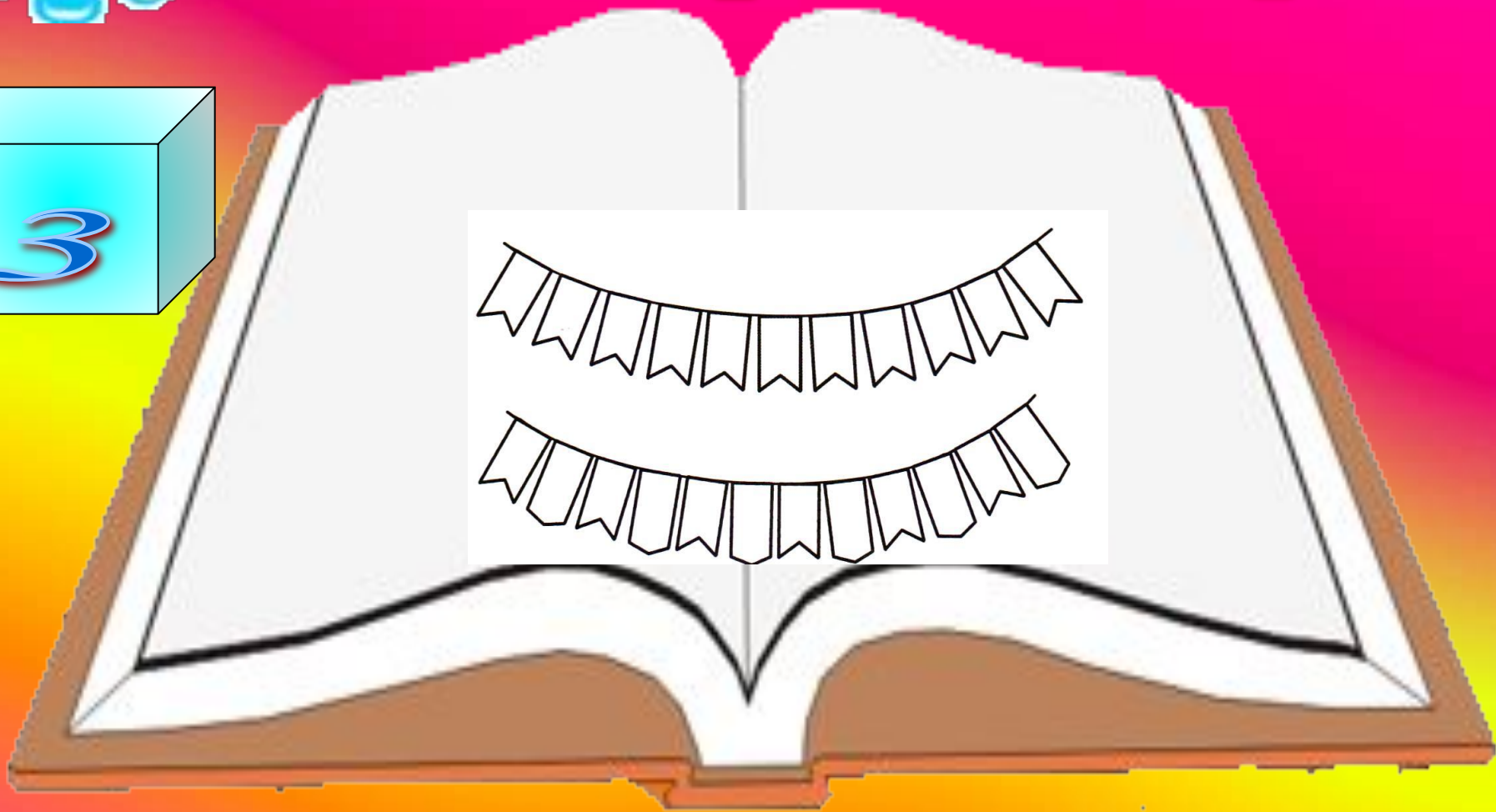
«Жапырынған ойыншықты тап және ата»





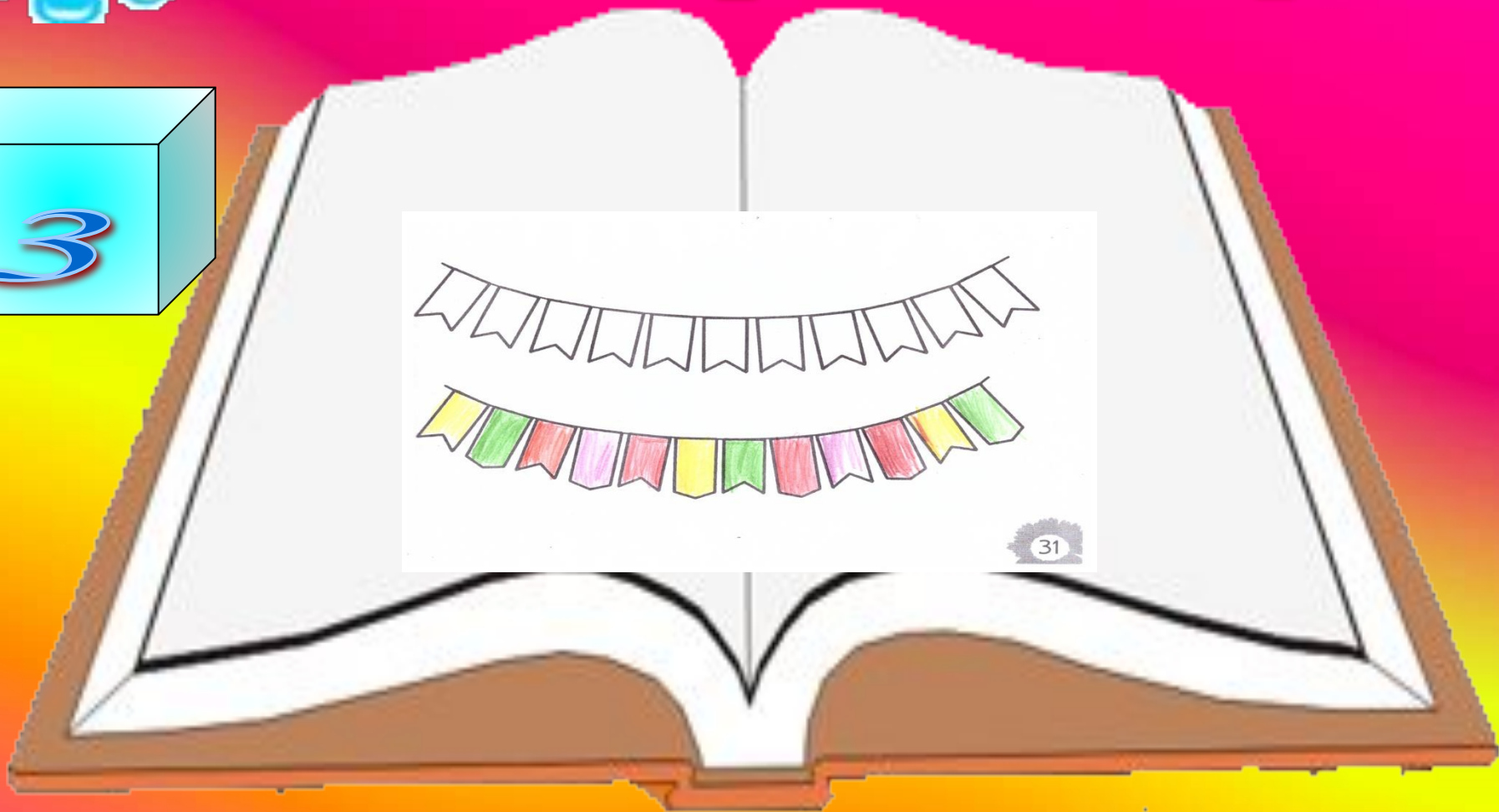


# Дәптермен жұмыс





# Дәптермен жұмыс




*Сергіту жаттығу  
Барлық аңдар бір күні  
Жиналыпты бір жерге  
Аю келіп қорбаңдап  
Түлкі келіп қоянды  
Шап беуге шап қалды  
Міне отыр сұр көжсек  
Құлақтары дірілдеп.*





# Дәптермен жұмыс




3. Мысалдарды шығар. Сызықтың көмегімен шарларды тиісті жауапқа «байла».

The worksheet contains the following elements:

- A red balloon with the equation  $7-2$ .
- A pink balloon with the equation  $1+2$ .
- A green bean-shaped balloon with the equation  $3+1$ .
- A blue balloon with the equation  $9-3$ .
- An orange balloon with the equation  $5-3$ .
- A vertical string of five beads with numbers: 5 (purple), 3 (red), 6 (green), 2 (blue), and 4 (yellow).



# Дәптермен жұмыс



3. Мысалдарды шығар. Сызықтың көмегімен шарларды тиісті жауапқа «байла».

7-2

1+2

3+1

9-3

5-3

5

3

6

2

4

# Көршісін тап

3

5

2

4  6

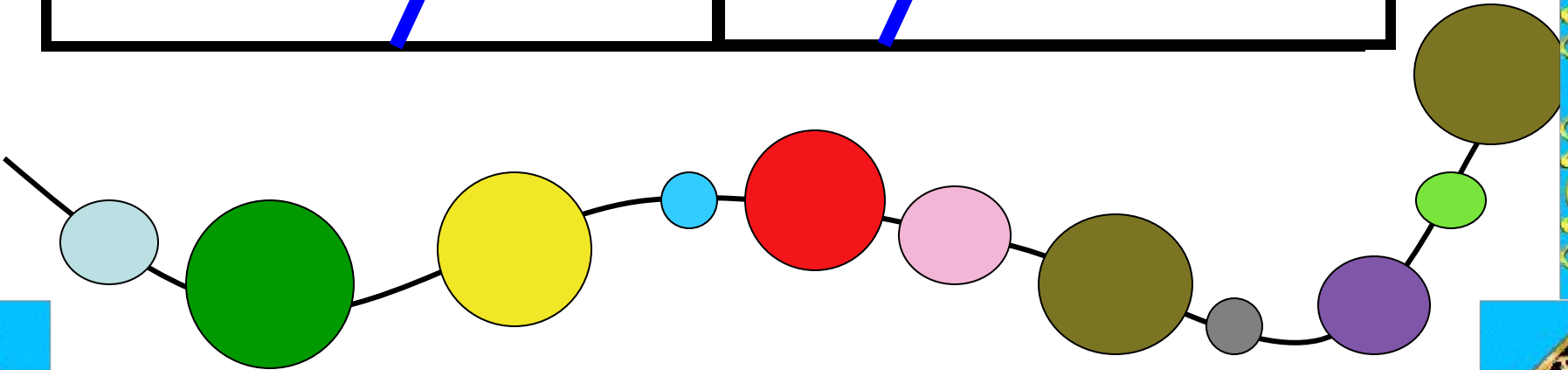
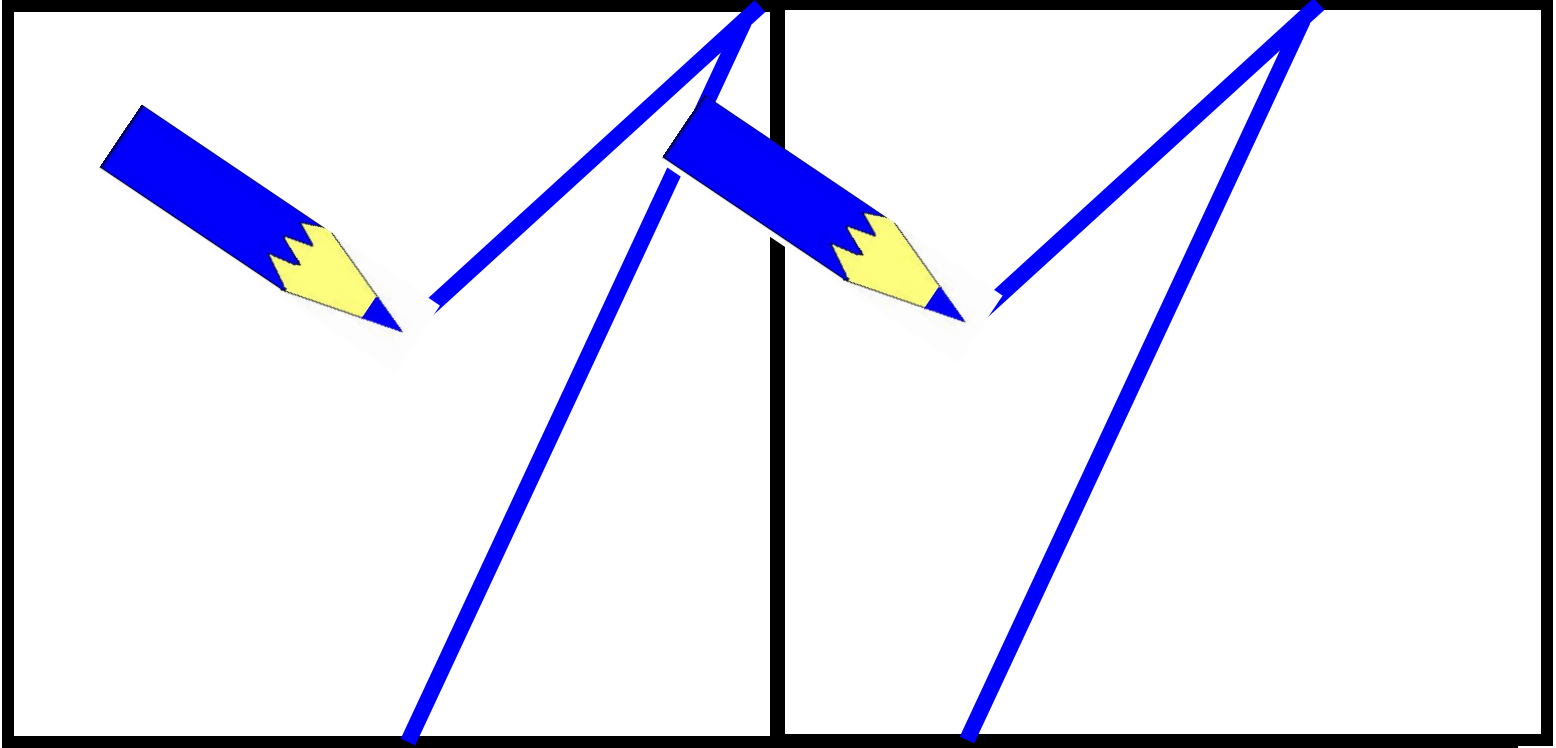
3  5

6

7  9

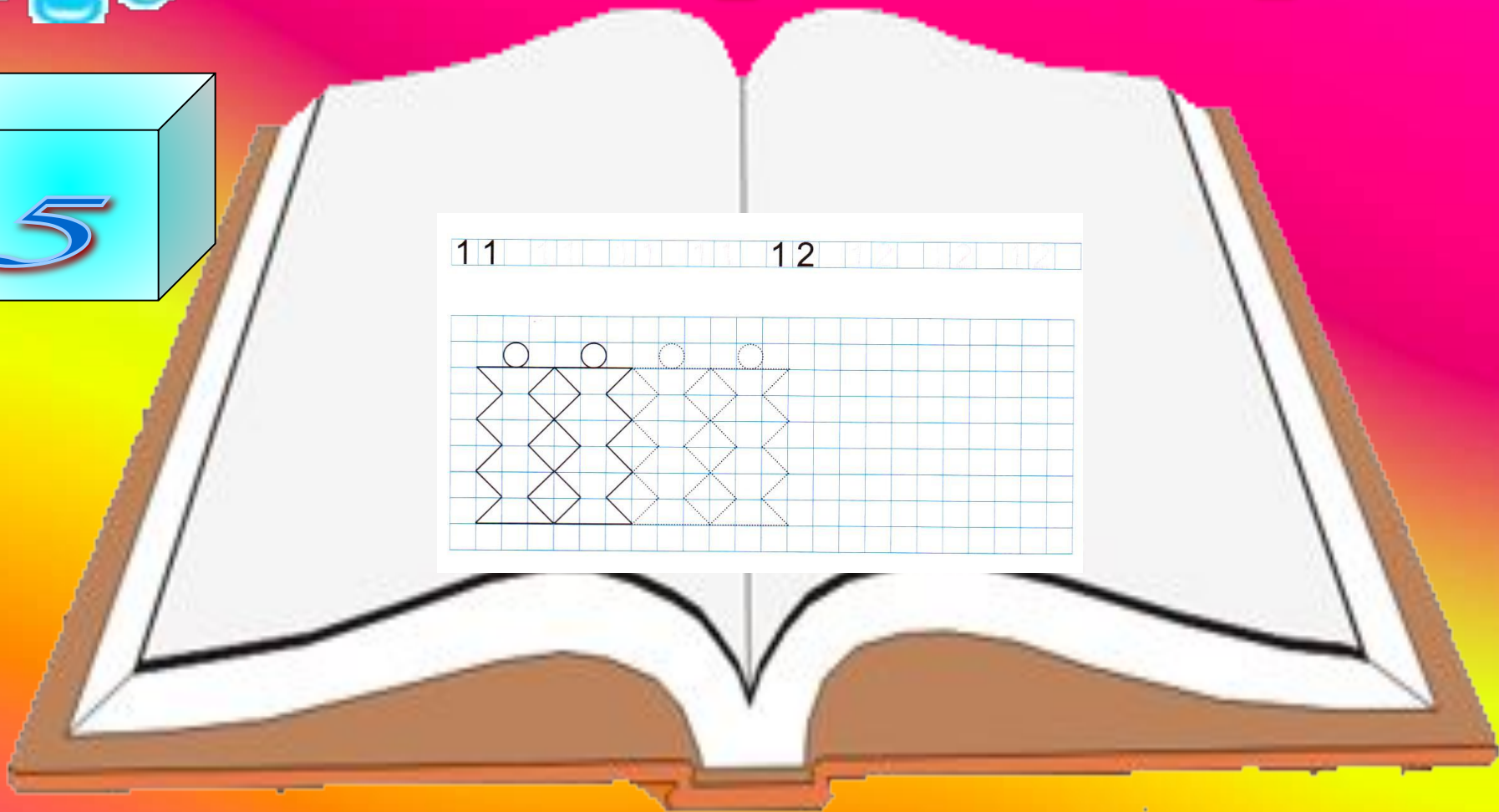
8

1   
 0





# Дәптермен жұмыс





Цифрлар қайда жасырынған?



Тауық қанша балапан шығарды?



1  
1

# Қорытынды

- Нешеге дейін тура санап үйрендік?
- Қай цифрларды жаздық?
- Неше жалауша артық болды? Қандай түспен боядыңдар?

# Балаларды мадақтау





Назар аударғандарыңызға рахмат





# Дәптермен жұмыс

