

Урок математики №2

Сложение и вычитание двузначных
чисел

Уч. с. 5 р.т. С. 4

3.09.15

100

100

100

100

100

200

200

200

200

200

300

300

300

300


300

Реши примеры

$$\begin{array}{r} + 43 \\ + 12 \\ \hline \end{array}$$

$$\begin{array}{r} + 57 \\ + 23 \\ \hline \end{array}$$

$$\begin{array}{r} + 24 \\ + 67 \\ \hline \end{array}$$




Реши примеры

$$\begin{array}{r} 35 \\ - 21 \\ \hline \end{array}$$

$$\begin{array}{r} 95 \\ - 65 \\ \hline \end{array}$$

$$\begin{array}{r} 83 \\ - 26 \\ \hline \end{array}$$




Реши примеры

$$65 + 9 + 5$$

$$36 + 8 + 12$$

$$76 + 8 + 4$$

$$47 + 6 + 24$$




Решите примеры

$54 + 32 =$

$25 + 67 =$

$39 + 58 =$

$91 - 18 =$




Реши примеры

$$23 + 18 - 7 =$$

$$12 - 5 + 81 =$$

$$44 + 52 - 31 =$$

$$56 - 31 + 28 =$$




Найди корень уравнений

$$5 + x = 20$$

$$x - 15 = 6$$


$$27 - x = 11$$

$$x + 12 = 25$$




Реши задачу

Рабочие построили первый дом за 9 дней, а на строительство второго дома им потребовалось на 4 дня больше, чем на строительство первого дома. Сколько дней они строили второй дом?



Реши задачу

В кафе привезли молоко. В первый день использовали 30 литров молока. На следующий день в кафе осталось 46 литров молока. Сколько литров молока привезли в кафе?




Сравни длины, вставив вместо многоточия ... знаки "<", ">" или "="

5 м 3 см ... 4 м 5 см.


13 мм ... 1 см 3 мм

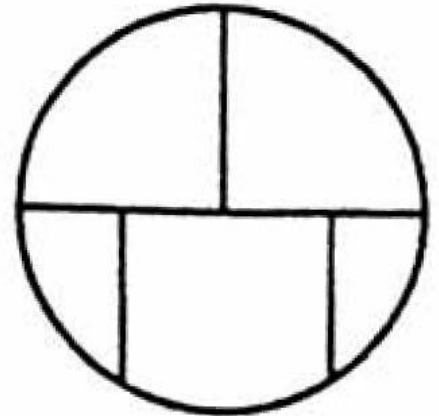

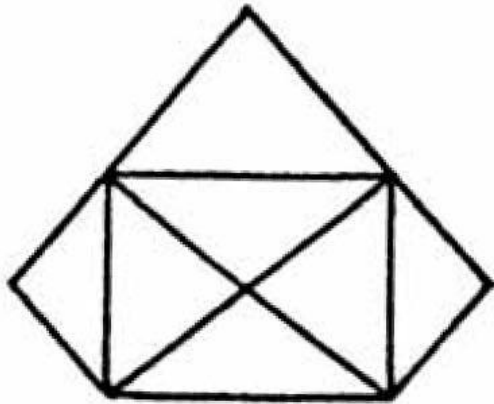
16 м 5 мм ... 14 м 1 см



Начерти квадрат и найди его
периметр


Сторона квадрата 3 сантиметра.




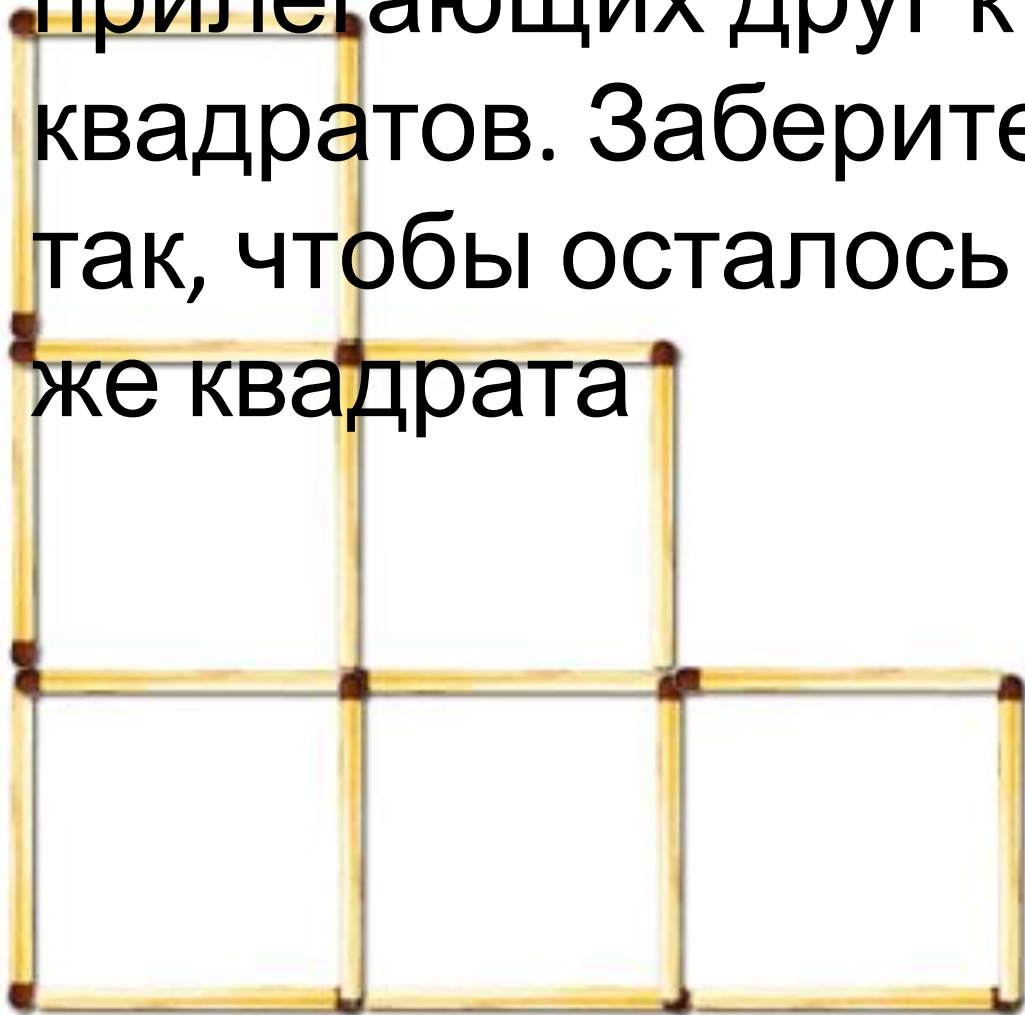


ТРИ ФИГУРЫ

Какую из этих фигур нельзя нарисовать, не отрывая карандаша от бумаги и не проводя по линии дважды?



Восемнадцать спичек образуют 6 одинаковых прилегающих друг к другу квадратов. Заберите 2 так, чтобы осталось 4 же квадрата



Реши ребусы

~~КОСТЬ~~
И

,




И=а

К



”




Реши ребусы



+ ИК

и = а



Сколько квадратов?

